

แนวข้อสอบวิชาเอกสังคมศึกษา

1. องค์ประกอบใดจำแนกศาสนาเป็นอเทวนิยม เทวนิยม เอกเทวนิยม หรือ พหุเทวนิยม

- | | |
|--------------|-------------|
| 1. ศาสดา | 2. พิธีกรรม |
| 3. ความเชื่อ | 4. รูปเคารพ |

2. ดินแดนศักดิ์สิทธิ์ของศาสนายูดาห์และคริสต์คือข้อใด

- | | |
|-----------|--------------|
| 1. ไคโร | 2. เมกกะ |
| 3. แบกแดด | 4. ปาเลสไตน์ |

3. ข้อใดไม่ใช่ความเชื่อในคริสต์ศาสนาเกี่ยวกับพระเยซู

- | | |
|---|---|
| 1. เป็นสภาวะหนึ่งของพระเจ้า | 2. เป็นศาสดาผู้ก่อตั้งศาสนาคริสต์ |
| 3. เป็นผู้สละชีวิตเพื่อไถ่บาปให้มนุษยชาติ | 4. เป็นผู้รับมอบบัญญัติ 10 ประการจากพระเจ้า |

4. ศาสนาใด มีความเชื่อเรื่อง วันพิพากษา

- | | |
|--------------------|---------------------|
| 1. พราหมณ์ – ฮินดู | 2. อิสลาม - คริสต์ |
| 3. ฮินดู – อิสลาม | 4. คริสต์ – พราหมณ์ |

5. ธรรมเนียมของพระพุทธศาสนา คือ ข้อใด

- | | |
|---------------------|---------------------|
| 1. หลักพระธรรมวินัย | 2. หลักธรรมมาธิปไตย |
| 3. หลักไตรลักษณ์ | 4. หลักปฏิจจสมุปบาท |

6. หากท่านจะไปฟังเทศน์มหาชาติ ท่านจะได้ฟังเรื่องราวในข้อใด

- | | |
|-----------------|---------------|
| 1. พุทธประวัติ | 2. มโหสถชาดก |
| 3. เวสสันดรชาดก | 4. มหาชนกชาดก |

7. ผู้ที่ต่อสู้กับระบบวรรณะในอินเดียจนกลายเป็นชาวพุทธตัวอย่างคือใคร

- | | |
|--------------|-----------------|
| 1. คานธี | 2. เอ็มเบตการ์ |
| 3. พระนาคเสน | 4. พระยามิลินท์ |

หมายเหตุ ตัวหนาที่บหมายถึงคำตอบที่ถูกต้อง

8. วิญญาณในชั้น 5 หมายถึงข้อใด

- | | |
|--|---|
| 1. ตัวตนที่แท้จริงของมนุษย์ | 2. ความรู้สึกของมนุษย์ที่ไม่แตกดับ |
| 3. ส่วนที่ไปเกิดใหม่เมื่อสิ้นชีวิตแล้ว | 4. การรับรู้ทางตา หู จมูก ลิ้น กายและใจ |

9. คุณธรรมฝ่ายปัญญาที่ส่งเสริมการมองโลกและชีวิตตามความเป็นจริงในมรรค 8 ได้แก่ข้อใด

- | | |
|-----------------------------|-----------------------------|
| 1. สัมมาสติ สัมมาสมาธิ | 2. สัมมาวาจา สัมมาวายามะ |
| 3. สัมมาทิฏฐิ สัมมาสังกัปปะ | 4. สัมมาทัญญู สัมมาสังกัปปะ |

10. หลักธรรมของพระพุทธศาสนาส่วน ๑ โดยไม่มีองค์ประกอบเรื่องบุคคล สถานที่และเวลา อยู่ในคัมภีร์ใด

- | | |
|-------------|---------------|
| 1. พระสูตร | 2. พระวินัย |
| 3. พระมัลลย | 4. พระอภิธรรม |

11. สิ่งใดที่พระพุทธเจ้าทรงสั่งสอนให้ชาวพุทธพัฒนามากที่สุด

- | | |
|---------------------|--------------------|
| 1. ศรัทธา เหตุผล | 2. เหตุผล ปัญญา |
| 3. ศรัทธา ความเชื่อ | 4. ความเชื่อ ปัญญา |

12. การที่นักเรียนยอมรับฟังความคิดเห็นของผู้อื่น เป็นการปฏิบัติตนเป็นพลเมืองดี ที่สอดคล้องกับหลักประชาธิปไตยประการใด

- | | |
|---------------------|---------------------|
| 1. หลักเหตุผล | 2. หลักเสียงข้างมาก |
| 3. หลักสิทธิเสรีภาพ | 4. หลักความเสมอภาค |

13. กฎหมายตราสามดวงเกิดจากการตรวจชำระและรวบรวมกฎหมายขึ้นใหม่ในรัชกาลใด

- | | |
|-------------------------------------|--|
| 1. สมเด็จพระบรมไตรโลกนาถ | 2. สมเด็จพระนารายณ์มหาราช |
| 3. พระบาทสมเด็จพระพุทธยอดฟ้าจุฬาโลก | 4. พระบาทสมเด็จพระจุลจอมเกล้าเจ้าอยู่หัว |

14. ข้อใดไม่ใช่กฎหมายมหาชน

- | | |
|---------------|-----------------|
| 1. รัฐธรรมนูญ | 2. กฎหมายแพ่ง |
| 3. กฎหมายอาญา | 4. กฎหมายปกครอง |

15. นายแดงขู่ว่าจะเผาบ้านนายดำ ทำให้นายดำต้องเอาเงินทองมามอบให้นายแดงกระทำความผิดตามข้อใด

- | | |
|-----------------|-----------------|
| 1. ชิงทรัพย์ | 2. ปล้นทรัพย์ |
| 3. ริดเอาทรัพย์ | 4. กรรโชกทรัพย์ |

16. บุคคลใดคือผู้ที่ศาลแต่งตั้งให้เป็นผู้ดูแลคนไร้ความสามารถ

- | | |
|---------------|--------------|
| 1. ผู้พิทักษ์ | 2. ผู้อภิบาล |
| 3. ผู้อนุบาล | 4. ผู้ปกครอง |

17. ครอบครัวใดอยู่ในประเภทที่แตกต่างจากข้ออื่น

- | | |
|----------------------------|----------------------------------|
| 1. ต่อมอยู่กับแม่และป้า | 2. ต่อมอยู่กับพ่อและแม่ |
| 3. ต่อมอยู่กับแม่และพี่ชาย | 4. ต่อมอยู่กับพ่อ แม่ และน้องสาว |

18. ข้อใดกล่าวไม่ถูกต้องเกี่ยวกับสัญลักษณ์

- | | |
|--------------------------------------|---------------------------------------|
| 1. เป็นตัวแทนของสิ่งใดสิ่งหนึ่ง | 2. เป็นได้ทั้งรูปธรรมและนามธรรม |
| 3. เป็นสิ่งที่เกิดขึ้นเองตามธรรมชาติ | 4. เป็นเครื่องมือในการถ่ายทอดวัฒนธรรม |

19. ข้อใดไม่ใช่ค่านิยมดั้งเดิมของไทย

- | | |
|------------------|-------------------|
| 1. ความกตัญญู | 2. ความเสมอภาค |
| 3. ความเป็นอิสระ | 4. ความเมตตากรุณา |

20. เพลงพื้นบ้านในข้อใดเป็นภูมิปัญญาในท้องถิ่นที่แตกต่างจากข้ออื่น

- | | |
|-------------|--------------|
| 1. ลำตัด | 2. หมอลำ |
| 3. เพลงฉ่อย | 4. เพลงอีแซว |

21. ประเทศใดมีรูปแบบของรัฐแตกต่างจากประเทศมาเลเซีย

- | | |
|----------------|-------------------|
| 1. อินเดีย | 2. แคนาดา |
| 3. อินโดนีเซีย | 4. สวิตเซอร์แลนด์ |

22. การปกครองตามหลักการใดทำให้รัฐบาลมีอำนาจจำกัด

- | | |
|-----------------|-----------------|
| 1. หลักรัฐนิยม | 2. หลักทิวสิทธี |
| 3. หลักนิติธรรม | 4. หลักบูรณภาพ |

23. องค์การใดเป็นผู้ประกาศปฏิญญาสากลว่าด้วยสิทธิมนุษยชน

- | | |
|-------------------|--------------------------------------|
| 1. องค์การยูนิเซฟ | 2. องค์การยูเนสโก |
| 3. สหประชาชาติ | 4. คณะมนตรีความมั่นคงแห่งสหประชาชาติ |

24. วิธีการได้มาซึ่งบุคคลในตำแหน่งใดมีความแตกต่างกันอย่างชัดเจนระหว่างประเทศที่ใช้ระบบรัฐสภากับระบบประธานาธิบดี

- | | |
|-----------------------|-------------------------|
| 1. สมาชิกวุฒิสภา | 2. หัวหน้าฝ่ายบริหาร |
| 3. หัวหน้าฝ่ายตุลาการ | 4. สมาชิกสภาผู้แทนราษฎร |

25. ข้อใดคือองค์กรปกครองส่วนท้องถิ่นที่จัดตั้งขึ้นในสมัยสมบูรณาญาสิทธิราชย์

- | | |
|--------------|---------------|
| 1. เทศบาล | 2. สุขาภิบาล |
| 3. เทศาภิบาล | 4. ประชาภิบาล |

26. รัฐธรรมนูญแห่งราชอาณาจักรไทย พุทธศักราช 2550 เป็นรัฐธรรมนูญฉบับที่เท่าใดของไทย

- | | |
|---------------|---------------|
| 1. ฉบับที่ 15 | 2. ฉบับที่ 16 |
| 3. ฉบับที่ 17 | 4. ฉบับที่ 18 |

27. ในการจัดทำรัฐธรรมนูญแห่งราชอาณาจักรไทย พุทธศักราช 2550 ใครคือผู้มีอำนาจพิจารณาให้ความเห็นชอบร่างรัฐธรรมนูญเป็นลำดับสุดท้ายก่อนนำขึ้นทูลเกล้าฯ ถวายเพื่อทรงลงพระปรมาภิไธย

- | | |
|-------------------------------|---------------------------------------|
| 1. สภาร่างรัฐธรรมนูญ | 2. สภานิติบัญญัติแห่งชาติ |
| 3. คณะมนตรีความมั่นคงแห่งชาติ | 4. ประชาชนผู้มีสิทธิออกเสียงเลือกตั้ง |

28. การตัดสินใจในข้อใดไม่เกี่ยวกับปัญหาพื้นฐานทางเศรษฐกิจ

1. จะปลูกข้าวหรือจะปลูกถั่ว
2. จะปักผ้าด้วยมือหรือด้วยเครื่องจักร
3. จะขุดสระน้ำตอหน้าแล้งหรือหน้าฝน
4. จะสร้างบ้านจัดสรรแบบมาตรฐานราคาต่ำหรือแบบหรูราคาสูง

29. ข้อใดไม่ใช่ความหมายของเศรษฐกิจศาสตร์

- | | |
|----------------------------------|------------------------------------|
| 1. ใช้ทรัพยากรอย่างประหยัด | 2. ดำเนินธุรกิจให้ได้กำไรมากที่สุด |
| 3. ใช้ทรัพยากรอย่างมีประสิทธิภาพ | 4. ตอบสนองความต้องการของมนุษย์ |

30. เศรษฐศาสตร์เป็นศาสตร์หนึ่งของสาขาใด

- | | |
|----------------|----------------|
| 1. วิทยาศาสตร์ | 2. สังคมศาสตร์ |
| 3. มนุษยศาสตร์ | 4. เกษตรศาสตร์ |

31. ข้อใดไม่ใช่เป้าหมายหลักทางเศรษฐศาสตร์

- | | |
|-------------------------------|---------------------------------|
| 1. ความพอมีพอกินในครอบครัว | 2. การมีเสถียรภาพทางเศรษฐกิจ |
| 3. ความเจริญเติบโตทางเศรษฐกิจ | 4. การกระจายรายได้อย่างเป็นธรรม |

32. เศรษฐศาสตร์เป็นศาสตร์ที่ว่าด้วยเรื่องใด

- | | |
|----------------------|-----------------------|
| 1. ความอยู่ดีกินดี | 2. ทรัพยากรธรรมชาติ |
| 3. พฤติกรรมของมนุษย์ | 4. ถูกทั้งข้อ ก และ ข |

33. ข้อใดคือความหมายของความเจริญเติบโตทางเศรษฐศาสตร์

- | | |
|------------------------------|--|
| 1. มีการขยายตัวของเศรษฐกิจ | 2. ระดับราคาสินค้ามีเสถียรภาพ |
| 3. ลดความผันผวนของราคาสินค้า | 4. ลดช่องว่างระหว่างรายได้กับความยากจน |

34. ข้อใดคือความหมายของการมีเสถียรภาพทางเศรษฐกิจ

- | | |
|------------------------------------|--|
| 1. มีการขยายตัวของเศรษฐกิจ | 2. ระดับราคาสินค้ามีเสถียรภาพ |
| 3. เพิ่มปริมาณคนชั้นกลางให้มากขึ้น | 4. ลดช่องว่างระหว่างรายได้กับความยากจน |

35. เศรษฐศาสตร์เกี่ยวข้องกับเรื่องใด

- | | |
|-----------------------------|---------------------------------------|
| 1. การผลิตและการบริโภค | 2. การผลิตเพียงอย่างเดียว |
| 3. การบริโภคเพียงอย่างเดียว | 4. การผลิต การบริโภค และการแลกเปลี่ยน |

36. เศรษฐศาสตร์มีแขนงวิชาอะไรบ้าง

1. เศรษฐศาสตร์ธุรกิจ
2. เศรษฐศาสตร์การเงิน
3. เศรษฐศาสตร์การคลัง
4. เศรษฐศาสตร์จุลภาคและมหภาค

37. เศรษฐศาสตร์จุลภาคเป็นการศึกษาเกี่ยวกับเรื่องใด

1. กิจกรรมของหน่วยธุรกิจ
2. กิจกรรมของหน่วยรัฐบาล
3. กิจกรรมของหน่วยครัวเรือน
4. กิจกรรมของหน่วยเศรษฐกิจระดับย่อย



PDF Editor

38. เศรษฐศาสตร์มหภาคเป็นการศึกษาเกี่ยวกับเรื่องใด

1. กิจกรรมของหน่วยธุรกิจ
2. กิจกรรมของหน่วยรัฐบาล
3. กิจกรรมของหน่วยครัวเรือน
4. กิจกรรมของระบบเศรษฐกิจทั้งระบบ

39. ข้อใดเป็นวิชาเศรษฐศาสตร์ที่ศึกษาถึงพฤติกรรมทางเศรษฐกิจในส่วนบุคคล

1. เศรษฐศาสตร์จุลภาค
2. เศรษฐศาสตร์มหภาค
3. เศรษฐศาสตร์การเงิน
4. เศรษฐศาสตร์การคลัง

40. การศึกษาพฤติกรรมทางเศรษฐกิจในส่วนรวม ตรงกับข้อใด

1. เศรษฐศาสตร์จุลภาค
2. เศรษฐศาสตร์มหภาค
3. เศรษฐศาสตร์การเงิน
4. เศรษฐศาสตร์การคลัง

41. ข้อใดเป็นการวิเคราะห์ทางเศรษฐศาสตร์ที่คำนึงถึงสังคม

1. เศรษฐศาสตร์จุลภาค
2. เศรษฐศาสตร์มหภาค
3. เศรษฐศาสตร์นโยบาย
4. เศรษฐศาสตร์พรรณนา

42. วิชาเศรษฐศาสตร์ครอบคลุมเรื่องใดบ้าง

1. ส่วนย่อยของระบบเศรษฐกิจ
2. ส่วนใหญ่ของระบบเศรษฐกิจ
3. ส่วนรวม ของระบบเศรษฐกิจ
4. ไม่มีข้อใดถูก



PDF Editor

43. วิชาเศรษฐศาสตร์มีประโยชน์ต่อนักเรียนอย่างไร
1. ดำรงชีวิตอย่างมีหลักเกณฑ์
 2. เข้าใจระบบและภาวะเศรษฐกิจ
 3. พัฒนาตนเองให้เป็นแบบอย่างที่ดีของสังคม
 4. ถูกทุกข้อ
44. เศรษฐทรัพย์มี 3 ชนิด คืออะไร?
1. ผู้อุปโภค ผู้ขาย ผู้ซื้อ
 2. สินค้าผู้บริโภค สินค้าผู้ผลิต บริการ
 3. เงินทอง ผลกำไร การจำหน่าย
 4. ตลาด สถานที่ พนักงาน
45. การผลิตคืออะไร?
1. การแปรรูปสิ่งของ
 2. การประกอบสินค้า
 3. การสร้างประโยชน์
 4. การทำให้เกิดสินค้าและบริการ
46. ข้อใดหมายถึงหน่วยธุรกิจ
1. ครู
 2. ภาวโรง
 3. แม่ค้าข้าวแกง
 4. คนขับรถรับจ้าง
47. ข้อใด ไม่ใช่ การใช้ทรัพยากรทางเศรษฐศาสตร์ของหน่วยธุรกิจ
1. แดงปล่อยที่ดินให้ว่างเปล่า
 2. แดงให้ดำเช่าที่ดินทำโรงงาน
 3. แดงนำที่ดินแปลงสินทรัพย์ไปเป็นทุน
 4. แดงทำฟาร์มเลี้ยงวัวนมบนที่ดินของตัวเอง
48. รถยนต์โดยสารสาธารณะให้ประโยชน์กับผู้บริโภคทางใด
1. การบริโภคร่วมกัน
 2. การบริโภคทางตรง
 3. การบริโภคทางอ้อม
 4. ถูกทุกข้อ



Wondershare™

PDF Editor

49. การตัดสินใจเลือกใช้ทรัพยากรขึ้นอยู่กับปัจจัยอะไรบ้าง

1. ทุน กำไร คุ่มค่า คุณธรรม
2. ทุน กำไร ผลประโยชน์ คุ่มค่า
3. **ทุน ผลประโยชน์ คุ่มค่า คุณธรรม**
4. ทุน ผลประโยชน์ คุ่มค่า จริยธรรม

50. ข้อใด ไม่ใช่ หลักการจัดสรรทรัพยากรการผลิตหรือปัจจัยการผลิตให้มีประสิทธิภาพ

1. **การผลิตสินค้าที่มีต้นทุนต่ำสุด**
2. การใช้ปัจจัยการผลิตอย่างเต็มที่
3. การใช้ปัจจัยการผลิตอย่างประหยัด
4. การใช้ปัจจัยการผลิตทประสิทธิภาพ

51. การเลิกใช้สารซีแอฟซีในเครื่องทำความเย็นเป็นการเลิกใช้ปัจจัยการผลิตในด้านใด

1. ทุน
2. **คุณธรรม**
3. ความคุ้มค่า
4. ผลประโยชน์

52. คำกล่าวที่ว่า รสนิยมสูง รายได้ต่ำ เป็นปัจจัยของผู้บริโภคด้านใด

1. สังคม
2. รายได้
3. **รสนิยม**
4. การโฆษณา

53. หน่วยงานใดมีหน้าที่คุ้มครองผู้บริโภค

1. ก.ค.
2. อ.ย.
3. **สคบ.**
4. สมอ.

54. ข้อใด ไม่ใช่ ลักษณะการซื้อสินค้าของครอบครัว

1. ซื้อสินค้าปลีก
2. **ซื้อสินค้าเงินผ่อน**
3. ซื้อสินค้าที่มีคุณภาพ
4. **ซื้อสินค้าไม่มีคุณภาพ**



PDF Editor

55. ไต ไม่ใช่ หลักการเลือกซื้อสินค้าของครัวเรือน

1. ชื่อเมื่อใด
2. ชื่อที่ไหน
3. ชื่อก่อนคิด
4. ชื่ออย่างไร

56. องค์กรใดมีหน้าที่ดูแลและคุ้มครองผู้บริโภคด้านการโฆษณา

1. สนง. คณะกรรมการอาหารและยา
2. สนง. คณะกรรมการคุ้มครองผู้บริโภค
3. สนง. มาตรฐานผลิตภัณฑ์อุตสาหกรรม
4. ข้อ ก และ ข ถูก

57. ข้อใด ไม่ใช่ วิธีการแก้ไขปัญหาการคุ้มครองผู้บริโภค

1. การศึกษาอบรม
2. การรวมพลังของผู้บริโภค
3. รัฐให้การคุ้มครองผู้บริโภค
4. รัฐให้การคุ้มครองผู้ประกอบการ

58. สาเหตุของการเกิดศาสนาในข้อใดที่สำคัญที่สุด

- | | |
|---------------|-------------------|
| 1. ความไม่รู้ | 2. ความกลัว |
| 3. ความศรัทธา | 4. ต้องการที่พึ่ง |

59. ถ้ากล่าวถึงประเภทของศาสนาแล้ว ศาสนาในข้อใดต่อไปนี้ที่แตกต่างจากศาสนาอื่น ๆ

- | | |
|-------------------------|----------------|
| 1. ศาสนาพราหมณ์ – ฮินดู | 2. ศาสนาคริสต์ |
| 3. ศาสนาอิสลาม | 4. ศาสนาพุทธ |

60. หลักธรรมคำสอนต่อไปนี้ ข้อใดไม่ถูกต้อง

1. พระไตรปิฎกของพระพุทธศาสนาประกอบด้วยพระวินัยปิฎก พระสุตตันตปิฎกและพระอภิธรรมปิฎก
2. คัมภีร์พระเวทของศาสนาพราหมณ์ – ฮินดู ประกอบด้วย ฤคเวท ยชุรเวท สามเวท
3. คัมภีร์ไบเบิลของศาสนาคริสต์ประกอบด้วย พระธรรมคัมภีร์เดิมและพระธรรมคัมภีร์ใหม่

4. คัมภีร์อัลกุระอานของศาสนาอิสลาม ประกอบด้วยอนุอาห์ ญิบรอฮील อาร์บูบัค
61. ในขณะที่นักเรียนกำลังอยู่ในวัยเรียนและมีหน้าที่ในการเรียนหนังสือ หรือศึกษาหาความรู้ ซึ่งมี ลักษณะคล้ายกับลักษณะข้อใดในศาสนาพราหมณ์ – ฮินดู
1. พรหมจรรย์
 2. สันยาสิน
 3. กรรมมรรค
 4. ชฎาณโยคะ
62. หลักตรีเอกภาพเป็นหลักคำสอนของศาสนาคริสต์ที่บ่งบอกลักษณะสำคัญของศาสนาคริสต์ ประการใด
1. องค์ประกอบคำสอนหลักมาจากองค์ประกอบย่อย ๆ
 2. ลักษณะของความยึดหยุ่นของศาสนาคริสต์
 3. ศาสนาคริสต์มีหลักคำสอนที่เน้นพระเจ้าเป็นสำคัญ
 4. ศาสนาคริสต์ประกอบด้วยนิกายสำคัญ 3 นิกายแต่มีพระเจ้าองค์เดียวกัน
63. หลักศรัทธาของศาสนาอิสลามมีหลายประการ ยกเว้น ข้อใด
1. การปฏิญาณตนว่าจะนับถือพระเจ้าเพียงองค์เดียว
 2. คัมภีร์อัลกุระเป็นพระวจนะของพระเจ้า
 3. ศาสดาของศาสนาอิสลามพระเจ้าต้องมีพระโองการแต่งตั้ง
 4. โลกนี้ต้องมีการแตกดับไปในวันข้างหน้า
64. การที่ตาได้เห็นสิ่งสวย ๆ งาม ๆ หูได้ยินเสียงที่ไพเราะแล้วจิตรู้สึกสุขกายสบายใจ เกี่ยวข้องกับหลักคำสอนเรื่องชั้น 5 ในข้อใด
1. สุขเวทนา
 2. รูปวิญญาณ
 3. ปุญญาสังขาร
 4. รูปสัญญา
65. พระธรรมวินัย 84,000 พระธรรมชั้น 5 สามารถสรุปเป็นหลักการสำคัญของพระพุทธศาสนา ตามข้อใด
1. การละเว้นความชั่ว การกระทำแต่ความดี การมีจิตใจบริสุทธิ์
 2. การสำรวมกาย วาจา การฝึกฝนอบรมจิตให้มั่นคง โดยการใช้ปัญญา
 3. สิ่งใดเกิดสิ่งนั้นต้องดับ การไม่มีตัวตนแห่งตน การคงสภาพเดิมของสิ่งต่าง ๆ ไม่ได้
 4. กายคือ รูปที่เกิดจากธาตุทั้งสี่ แต่ถูกควบคุมโดย สัญญา เวทนา สังขาร วิญญาณ
66. อุปสรรคสำคัญของพุทธศาสนิกชนในการฝึกฝนอบรมจิตใจให้มั่นคง คืออะไร
1. ไตรลักษณ์
 2. นีวรณ 5

3. สารานุกรม 6

4. ชั้น 5

67. การใช้สถิติกำหนดอารมณ์ของวิปัสสนาที่เป็นปัจจุบันจนเกิดปัญญาการรู้แจ้งรู้เท่าทันความเป็นจริงที่เกิดขึ้นด้วยวิธีการต่าง ๆ นั้นเรียกว่าอะไร

1. มรรค

2. นีวรณ

3. ชั้น 5

4. สติปัฏฐาน 4

68. ข้อใดต่อไปนี้อีกกล่าวผิด

1. การทอดกฐินสามารถทำได้ตั้งแต่วันขึ้น 15 ค่ำ เดือน 8 โดยมีกำหนดระยะเวลา 1 เดือน

2. การถวายผ้าอาบน้ำฝนเป็นพิธีกรรมที่นางวิสาขาเป็นผู้ขออนุญาตจากพระพุทธเจ้า

3. การทำบุญขึ้นบ้านใหม่จัดเป็นบุญพิธี ซึ่งการนิมนต์พระสงฆ์จะนิมนต์อย่างน้อย 5 รูป

4. การเข้าใจถึงกฎธรรมชาติ คือการเข้าถึงหลักไตรลักษณ์นั่นเอง

69. พระพุทธเจ้าทรงแสดงปฐมเทศนา ในวันใด และ ชื่อหลักธรรมอะไร

1. วันขึ้น 15 ค่ำ เดือน 3 - หลักโอวาทปาติโมกข์

2. วันขึ้น 15 ค่ำ เดือน 6 - หลักอนันตลักขณสูตร

3. วันขึ้น 15 ค่ำ เดือน 8 - หลักธรรมจกัปปัตนสูตร

4. วันขึ้น 15 ค่ำ เดือน 4 - หลักอนุปปฟีกถา

70. หลักธรรมของศาสนาพุทธที่สอนเรื่องนรก – สวรรค์ สอดคล้องกับหลักธรรมของศาสนาพราหมณ์ – ฮินดู ศาสนาคริสต์ และศาสนาอิสลาม ตรงกับหลักธรรมใด

1. อาทิตปริยายสูตร

2. อนันตลักขณสูตร

3. ธรรมจกัปปัตนสูตร

4. อนุปปฟีกถา

71. เมื่อนักเรียนใกล้สอบปลายภาค นักเรียนส่วนใหญ่ตั้งใจจะอ่านหนังสือเพื่อเตรียมตัวสอบแต่บางครั้ง จะเกิดอาการง่วงเหงา หาวนอน ความเบื่อหน่าย เกียจคร้าน ซึ่งเป็นอุปสรรคที่จะทำให้ นักเรียนไม่ ประสบผลสำเร็จตามหลักพระพุทธศาสนา เรียกว่า นีวรณ 5 อยากทราบว่า ความง่วง เกียจคร้านนั้น อยู่ในนีวรณ 5 ข้อใด

1. กามฉันทะ

2. ถีนมิทธะ

3. อุทธัจจกุกกุจจะ

4. วิจัย

72. หลักคำสอนในศาสนาสากล ที่มีความสอดคล้องกันมากที่สุดคือ

1. ความสุขนิรันดร์
2. ความจงรักภักดีต่อพระเจ้า
3. ความเมตตากรุณาไม่เบียดเบียน
4. ความศรัทธาต่อพระเจ้า

73. การกระทำในข้อใดอาจไม่ใช่การก่อการร้าย

1. การจี้เครื่องบินของสายการบินอเมริกันแอร์ไลน์พุ่งชนตึกเพนตากอน
2. การลอบสังหารผู้นำปาเลสไตน์
3. การวางระเบิดรถรับส่งนักเรียน
4. การลอบเผาโรงเรียนในจังหวัดชายแดนใต้

74. กระบวนการก่อการร้ายแตกต่างจากสงครามกองโจรอย่างไร

1. ลักษณะการปฏิบัติการ
2. อาวุธที่ใช้ปฏิบัติการ
3. จำนวนคนที่ใช้ปฏิบัติการ
4. เป้าหมายในการปฏิบัติการ

75. ข้อใดมิใช่จุดประสงค์หลักของการก่อการร้าย

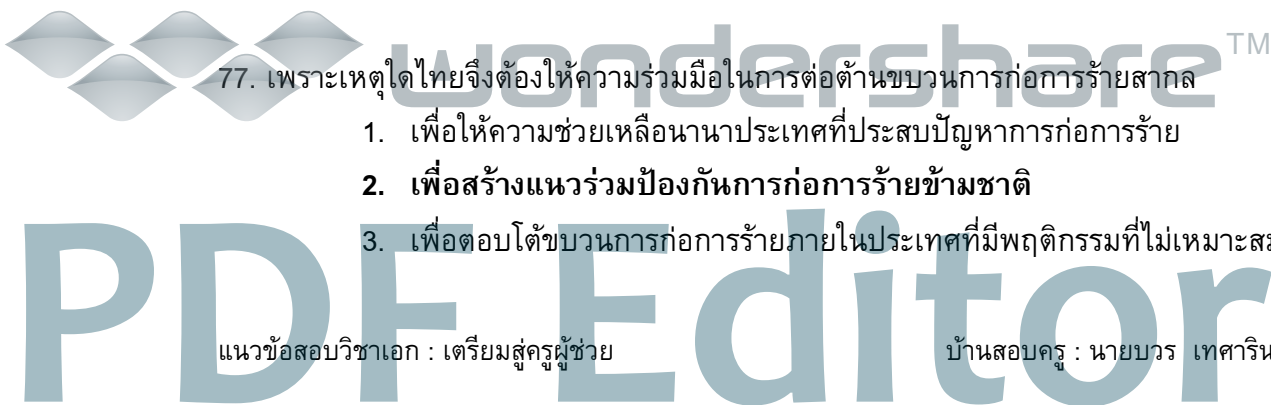
1. ความต้องการด้านการเงิน
2. แสดงความไม่พอใจในสิ่งที่ตนเผชิญอยู่
3. เรียกร้องความสนใจ
4. สร้างความกลัว

76. กระบวนการก่อการร้ายส่งผลกระทบต่อสังคมด้านใดน้อยที่สุด

1. การเมือง
2. เศรษฐกิจ
3. สังคม
4. วัฒนธรรม

77. เพราะเหตุใดไทยจึงต้องให้ความร่วมมือในการต่อต้านขบวนการก่อการร้ายสากล

1. เพื่อให้ความช่วยเหลือนานาชาติประเทศที่ประสบปัญหาการก่อการร้าย
2. เพื่อสร้างแนวร่วมป้องกันการก่อการร้ายข้ามชาติ
3. เพื่อตอบโต้ขบวนการก่อการร้ายภายในประเทศที่มีพฤติกรรมที่ไม่เหมาะสม



4. เพื่อต้องการความช่วยเหลือในการป้องกันการก่อการร้าย

78. ข้อใดถือว่าเป็นการฉ้อราษฎร์บังหลวง

1. นายแดงจ่ายค่าน้ำชาให้แม่ค้าในตลาด
2. นายเขียวยกยอกเงินของธนาคาร
3. **นายดำเก็บเงินทอนจากการซื้อยาเข้าโรงพยาบาลจังหวัด**
4. นายขาวไม่จ่ายเงินค่าตัวการแสดงงานคืนสู่เหย้าให้กับนักเรียน

79. ข้อใดมิใช่ผลจากปัญหาคอร์ปชั่น

1. ประชาชนต้องซื้อสินค้าราคาแพงขึ้น
2. **ปัญหาอาชญากรรมสูงขึ้น**
3. เกิดความไม่น่าเชื่อถือในกระบวนการยุติธรรม
4. ประชาชนต้องเสี่ยงภัยในการดำเนินชีวิต

80. การฉ้อราษฎร์บังหลวงยังคงอยู่ในสังคมไทย เนื่องจากเหตุผลดังต่อไปนี้ ยกเว้น ข้อใด

1. **มีการแบ่งปันผลประโยชน์แบบได้ประโยชน์ฝ่ายเดียว**
2. เป็นคตินิยมที่ไม่มีผู้เสียหาย
3. ข้าราชการและประชาชนรู้เห็นเป็นใจ
4. ป้องกันและตรวจจับได้ยาก

81. การป้องกันและปราบปรามการฉ้อราษฎร์บังหลวงในข้อใดมีประสิทธิภาพมากที่สุด

1. ส่งเสริมความกล้าหาญทางจริยธรรมของประชาชน
2. จัดตั้งหน่วยงานเกี่ยวกับการป้องกันและปราบปรามการทุจริต
3. ปรับกฎระเบียบราชการให้เหมาะสมกับสังคมปัจจุบัน
4. **ปรับเปลี่ยนค่านิยมบางประการที่บกพร่องในสังคมไทย**

82. ค่านิยมใดส่งผลให้ปัญหาคอร์ปชั่นในสังคมไทยรุนแรงมากขึ้น

1. **บริโภคนิยม**
2. เสรีนิยม
3. อำนาจนิยม
4. ชาตินิยม



Wondershare™

PDF Editor

83. โครงการหลวงสำหรับชาวไทยภูเขาของพระบาทสมเด็จพระเจ้าอยู่หัวจัดตั้งขึ้นเพื่อแก้ปัญหาใดเป็นสำคัญ

1. ชนกลุ่มน้อย
2. ความยากจน
3. การศึกษา
4. ยาเสพติด

84. ข้อใดมิใช่การป้องกันการแพร่กระจายของยาเสพติด

1. ส่งผู้ป่วยเข้ารับการรักษาในสถานที่ที่เหมาะสม
2. ให้ความรู้ประชาชนเกี่ยวกับยาเสพติดให้โทษ
3. ตั้งจุดตรวจของเจ้าหน้าที่บริเวณที่ต้องสงสัย
4. เพิ่มโทษทางกฎหมายสำหรับผู้จำหน่ายและผู้เสพยาเสพติด

85. ประเทศไทยมีบทบาทสำคัญในการแก้ปัญหายาเสพติดระหว่างประเทศอย่างไร

1. ร่วมลงนามในกฎหมายระหว่างประเทศที่เกี่ยวกับการควบคุมยาเสพติด
2. จับกุมและทำลายแหล่งผลิตยาเสพติดที่สำคัญ ๆ หลายแห่ง
3. เป็นศูนย์กลางการฟื้นฟูและบำบัดผู้ติดยาเสพติด
4. ให้ความรู้กับนานาประเทศเกี่ยวกับโทษของยาเสพติด

86. ข้อใดต่อไปนี้เป็นไปได้แสดงถึงความยากจน

1. รายจ่ายมากกว่ารายได้
2. ค่าครองชีพต่ำกว่ารายได้
3. รายจ่ายเพียงพอกับรายรับ
4. ดอกเบี้ยเงินกู้สูงกว่าความสามารถในการชำระหนี้

87. ข้อใดแสดงข้อมูลความยากจนของประชากรได้ดีที่สุด

1. สัมประสิทธิ์การกระจายรายได้
2. ผลิตภัณฑ์มวลรวมภายในประเทศ
3. รายได้เฉลี่ยต่อบุคคล
4. ดัชนีฮาม่า



88. ปัญหาในข้อใดมิใช่ผลสืบเนื่องโดยตรงจากปัญหาความยากจน

1. ปัญหาสิ่งแวดล้อม
2. ปัญหาความเสื่อมของศีลธรรม
3. ปัญหาอาชญากรรม
4. **ปัญหาโรคเอดส์**

89. จากการแก้ปัญหาที่ดินทำกินตามแนวทฤษฎีใหม่ของพระบาทสมเด็จพระเจ้าอยู่หัว ข้อใดต่อไปนี้มีผลสำคัญมากที่สุด

1. ดิน
2. **2 หน้า**
3. ต้นไม้
4. ไฟฟ้า

90. ข้อใดไม่ใช่เกณฑ์ในการแบ่งคนกลุ่มน้อย

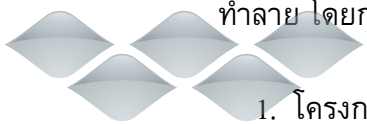
1. ภาษา
2. ชาติพันธุ์
3. **จำนวนประชากร**
4. รูปแบบในการดำเนินชีวิต

91. ชนกลุ่มน้อยในประเทศไทยมีส่วนร่วมเกี่ยวกับปัญหาใดต่อไปนี้มากที่สุด

1. การก่อการร้าย
2. **สภาพแวดล้อมเสื่อมโทรม**
3. ประชากรด้อยการศึกษา
4. ปัญหาสิ่งแวดล้อม

92. โครงการตามพระราชดำริของสมเด็จพระนางเจ้าฯ พระบรมราชินีนาถที่พัฒนาพื้นที่ป่าที่ถูกทำลาย โดยการตั้งเป็นหมู่บ้านสำหรับชาวไทยภูเขาคือโครงการในข้อใด

1. โครงการภูเขาเขียว
2. โครงการป่ารักษ์น้ำ
3. โครงการหมู่บ้านเอื้ออาทร
4. **โครงการบ้านเล็กในป่าใหญ่**



93. ข้อใดไม่ใช่เหตุผลในการนับศักราชของมนุษย์โบราณ

1. กำหนดฤดูกาล
2. กำหนดวันสำคัญทางศาสนา
3. กำหนดเหตุการณ์ทางประวัติศาสตร์
4. กำหนดวัน เวลาสำหรับเพาะปลูกพืช

94. พระเยซูถือกำเนิดในพุทธศักราชที่เท่าใด

1. 1
2. 543
3. 578
4. 1122

95. ข้อใดไม่ใช่การเริ่มต้นการนับศักราช

1. การเกิดของพระศาสดา
2. การตายของพระศาสดา
3. การประกาศศาสนาของพระศาสดา
4. การขึ้นครองราชย์ของกษัตริย์

96. ลักษณะการดำรงชีวิตในข้อใดไม่ได้เริ่มต้นในยุคหินใหม่

1. การใช้เครื่องมือหินขัด
2. มีภาษาพูดสื่อสารกันในกลุ่ม
3. รู้จักการรรมดำและการเขียนลายสี
4. เลี้ยงสุนัข

97. โลหะชนิดแรกที่มนุษย์รู้จักนำมาใช้คือข้อใด

1. ทองแดง
2. ดีบุก
3. สังกะสี
4. เหล็ก

98. อารยธรรมของกลุ่มคนในข้อใดถือว่าเก่าแก่ที่สุดในยุคประวัติศาสตร์ของชาวตะวันตก

แนวข้อสอบวิชาเอก : เตรียมสู่วุฒุนิติศาสตร์

บ้านสอบครู : นายบวร เทศารินทร์



wondershare™

PDF Editor

1. อียิปต์
2. กรีก
3. **สุเมเรียน**
4. บาบิโลเนียน

99. ข้อใดกล่าวไม่ถูกต้องเกี่ยวกับประมวลกฎหมายพระเจ้าอัมมูราบี

1. สร้างโดยพระเจ้าอัมมูราบี จักรพรรดิแห่งบาบิโลเนียน
2. เป็นกฎหมายแบบตาต่อตาฟันต่อฟัน
3. **มีบทลงโทษที่เท่าเทียมกันทุกชนชั้น**
4. เป็นกฎหมายที่คำนึงถึงสิทธิสตรีฉบับแรก

100. ดินแดนโบราณที่ได้ชื่อว่าเป็นพระจันทร์เสี้ยวแห่งอารยธรรม (Cradle of Fertilization) คือข้อใด

1. ลุ่มแม่น้ำสินธุ
2. ลุ่มแม่น้ำโขง
3. **เมโสโปเตเมีย**
4. แอฟริกาตะวันออก

101. วรรณกรรมในข้อใดไม่ได้เกิดในสมัยอียิปต์-เมโสโปเตเมีย

1. **มหากาพย์อีเลียด**
2. มหากาพย์กิลกาเมส
3. คัมภีร์มรณะ
4. พันธสัญญาเดิม

102. ข้อใดไม่ได้มีพัฒนาการมาจากความรู้ของชาวอียิปต์-เมโสโปเตเมีย

1. นาฬิกา
2. เครื่องคิดเลข
3. ปฏิทิน
4. **เครื่องพิมพ์ดีด**



PDF Editor

103. การกำหนดหัวข้อค้นคว้าทางประวัติศาสตร์ สามารถกำหนดให้แคบลงได้ด้วยวิธีการต่อไปนี้ ยกเว้นข้อใด

1. จำกัดด้วยช่วงเวลา
2. จำกัดด้วยสถานที่
3. จำกัดด้วยภูมิภาค
4. จำกัดด้วยระยะเวลาการค้นคว้า

104. หากนักเรียนต้องการค้นคว้าเกี่ยวกับกำแพงเบอร์ลิน ควรค้นข้อมูลจากแหล่งใดจึงจะรวดเร็วและเหมาะสมที่สุด

1. สถานที่จริง
2. สารานุกรม
3. ฐานข้อมูลออนไลน์
4. บรรณานุกรมเฉพาะเรื่อง

105. ผู้ค้นคว้าทางประวัติศาสตร์มีบทบาทต่อไปนี้ข้อใดน้อยที่สุด

1. บทบาทนักสืบ
2. บทบาททนาย
3. บทบาทตำรวจ
4. บทบาทผู้พิพากษา

106. ข้อใดมีความสำคัญน้อยที่สุดต่อพัฒนาการของเมืองท่ายุคโบราณ

1. ชายฝั่งน้ำลึก
2. อ่าวและเกาะแก่ง
3. ทรัพยากรธรรมชาติ
4. ทิศทางการไหลของแม่น้ำ

107. ข้อใดเป็นหลักฐานชั้นต้น

1. ภาพยนตร์เรื่องสุริโยทัย
2. หุ่นขี้ผึ้งหลวงปู่ชา บั้นจากรูปถ่ายจริง

3. หนังสือประวัติศาสตร์ไทยของกรมพระยาดำรงราชานุภาพ
4. พงศาวดารกรุงศรีอยุธยาฉบับวัน วลิต

108. “พื้นผนังหลังบัวที่ฐานปัทม์ เป็นครุฑอัดยึนเหยียบภุขงค์ขยำ หยิกขยุ่มกุมวาสุกรีกำ กิณรราร่ายเทพประนมกร” ข้อความข้างต้น ไม่ปรากฏหลักฐานทางประวัติศาสตร์ในด้านใด

1. ประติมากรรม
2. นาฏกรรม
3. วรรณกรรม
4. สถาปัตยกรรม

109. ความเจริญของประเทศไทยในปัจจุบันเกี่ยวข้องกับแหล่งอารยธรรมใดน้อยที่สุด

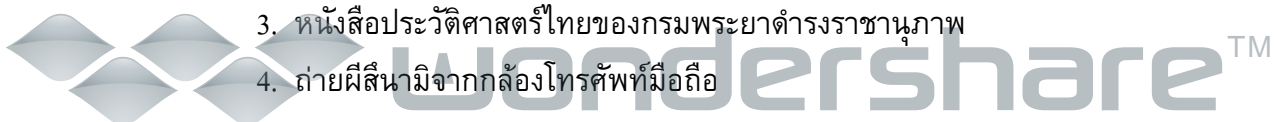
1. อารยธรรมลุ่มแม่น้ำสินธุ
2. อารยธรรมลุ่มแม่น้ำฮวงโห
3. อารยธรรมเมโสโปเตเมีย
4. อารยธรรมอียิปต์

110. การประเมินข้อมูลในหลักฐานว่าน่าเชื่อถือมากน้อยเพียงใด จัดอยู่ในขั้นตอนใดของวิธีการทางประวัติศาสตร์

1. การวิพากษ์ภายใน
2. การวิพากษ์ภายนอก
3. การตีความหลักฐาน
4. การวิเคราะห์และสังเคราะห์ข้อมูล

111. หลักฐานในข้อใดมีความน่าเชื่อถือมากที่สุด

1. จารึกตัวอักษรที่เมืองโมเฮนโจดาโรที่ยังไม่สามารถตีความได้
2. บันทึกของหลวงจีนฟาเหียนที่เดินทางไปอินเดียสมัยราชวงศ์คุปตะ.
3. หนังสือประวัติศาสตร์ไทยของกรมพระยาดำรงราชานุภาพ
4. ถ่ายผีสีนามิจากกล้องโทรศัพท์มือถือ



PDF Editor

112. บุคคลที่ทำหน้าที่ชุด ค้นหา รวบรวมหลักฐานทางประวัติศาสตร์เรียกว่าอะไร

1. นักโบราณคดี
2. นักมานุษยวิทยา
3. นักประวัติศาสตร์
4. นักธรรมชาติวิทยา

113. ข้อใดกล่าวไม่ถูกต้อง

1. วัฒนธรรมทำให้มนุษย์มีความแตกต่างจากสัตว์อื่น ๆ ทั้งปวง
2. วัฒนธรรมเป็นมรดกของสังคมจึงจำเป็นต้องมีการสืบทอด
3. ความเหมือนกันของวัฒนธรรมและประวัติศาสตร์ คือถูกสร้างโดยผู้ชนะเท่านั้น
4. วัฒนธรรมไม่มีการหยุดนิ่ง มีการเปลี่ยนแปลงอยู่ตลอดเวลา

114. ข้อใดต่างจากพวก

1. วัตถุธรรม
2. คติธรรม
3. สหธรรม
4. เหนติธรรม

115. การบวชเพื่อทดแทนคุณพ่อแม่จัดเป็นวัฒนธรรมประเภทใด

1. วัตถุธรรม
2. คติธรรม
3. สหธรรม
4. เหนติธรรม

116. ข้อใดมีผลต่อการคงอยู่ของวัฒนธรรมหนึ่ง ๆ มากที่สุด

1. อำนาจทางการเมือง
2. ค่านิยมของประชาชน
3. ประโยชน์ของวัฒนธรรม
4. ความก้าวหน้าทางวิทยาศาสตร์



PDF Editor

117. ปัจจัยข้อใดมีอิทธิพลต่อวัฒนธรรมไทยโบราณมากที่สุด

1. พระมหากษัตริย์
2. การเกษตรกรรม
3. พระพุทธศาสนา
4. การค้าขายกับต่างประเทศ

118. วัฒนธรรมไทยในข้อใดไม่ได้รับอิทธิพลมาจากต่างประเทศ

1. การแต่งกายแบบไทย
2. ดนตรีไทย
3. ขนมไทย
4. อักษรไทย

119. ข้อแตกต่างที่เด่นชัดที่สุดระหว่างภูมิปัญญาเกี่ยวกับวัฒนธรรมคืออะไร

1. เป็นการปรับตัวเข้ากับสภาพธรรมชาติและสิ่งแวดล้อมของบรรพบุรุษ
2. บรรพบุรุษในแต่ละท้องถิ่นเป็นผู้ถ่ายทอดให้กับลูกหลาน
3. เป็นแนวปฏิบัติที่ทำให้คนในท้องถิ่นดำรงชีวิตได้อย่างมีความสุข
4. มีการคัดสรร เลือกรร และถ่ายทอดสืบต่อกันมา

120. ภูมิปัญญาไทยไม่ปรากฏลักษณะสำคัญในข้อใด

1. มีเอกลักษณ์เฉพาะของตนเอง
2. สอดคล้องกับวิถีชีวิตของชุมชนในแต่ละท้องถิ่น
3. การยึดมั่นในหลักการสิทธิเสรีภาพและประชาธิปไตย
4. เป็นลักษณะองค์รวม คือเกี่ยวกับกิจกรรมทุกอย่างในชีวิตมนุษย์

121. ข้อใดไม่ปรากฏในหลักเบญจศีล

1. ใจร้าย
2. ใจร้อน
3. ใจไม่ซื่อตรง
4. ใจเร็ว



wondershare™

PDF Editor

122. ภูมิปัญญาไทยปรากฏความสัมพันธ์ระหว่างมนุษย์กับสิ่งเหนือธรรมชาติในลักษณะใดเด่นชัดที่สุด

1. ภาษาและวรรณกรรม
2. ศิลปกรรมและสถาปัตยกรรม
3. การเกษตรกรรม
4. การเมืองการปกครอง

123. ข้อใดกล่าวถูกต้องเกี่ยวกับ “ครุภูมิปัญญา”

1. เป็นผู้สืบสานภูมิปัญญาด้านใดด้านหนึ่งของไทยและต่างชาติ
2. เป็นผู้มีความเชื่อชาติและสัญชาติไทย
3. เป็นผู้บูรณาการการอนุรักษ์และพัฒนาภูมิปัญญาหนึ่ง ๆ เข้าด้วยกัน
4. เป็นผู้สร้างสรรค์ภูมิปัญญาหนึ่ง ๆ อย่างต่อเนื่องจนเป็นที่ยอมรับของสังคม

124. ผู้สนใจศึกษาภูมิปัญญาท้องถิ่นควรศึกษาจากที่ใดดีที่สุด

1. คติชาวบ้าน
2. การท่องเที่ยวเชิงอนุรักษ์
3. หนังสือประวัติศาสตร์ไทย
4. พิพิธภัณฑ์สถานแห่งชาติ

125. ข้อใดไม่ใช่ภูมิปัญญาที่มีพื้นฐานจากการเกษตร

1. การใช้เกวียนขนส่งผลผลิต
2. การเลือกที่ดินทำการกสิกรรม
3. การใช้เครื่องมือจับปลา
4. การใช้สมุนไพรรักษาโรค

126. เพราะเหตุใดเรือนไทยภาคกลางจึงมีหลังคาเป็นรูปจั่ว

1. ช่วยผ่อนคลายความร้อน
2. ช่วยระบายน้ำฝน
3. เพื่อความคงทนและสวยงาม
4. เนื่องจากน้ำท่วมบ่อย จึงยกใต้ถุนสูง

127. ความเชื่อในข้อใดปรากฏในสังคมไทยปัจจุบันน้อยที่สุด

1. พระพุทธศาสนา
2. ไสยศาสตร์
3. ธรรมราชา
4. หลักการและเหตุผล

128. ภูมิปัญญานานาชาติ หมายถึง

1. ภูมิปัญญาของชาวต่างชาติที่ไม่ใช่คนไทย
2. ภูมิปัญญาไทยที่ชาวต่างชาติยอมรับ
3. ภูมิปัญญาของแต่ละประเทศที่เป็นประโยชน์แก่นานาชาติ
4. ภูมิปัญญาทั้งหมดที่มนุษย์คิดค้นขึ้น

129. “สินค้าได้เปล่า” ตรงกับข้อใด

1. เป็นสินค้าที่สำคัญที่สุดในเศรษฐศาสตร์
2. เป็นสินค้าที่จัดสรรเพื่อมอบเป็นการกุศล
3. เป็นสินค้าที่ผู้ผลิตได้เปล่าจากธรรมชาติ
4. เป็นสินค้าที่ผู้บริโภคได้เปล่าจากธรรมชาติ

130. สิทธิแต่ผู้เดียวที่จะกระทำการใด ๆ เกี่ยวกับงานศิลปะที่ผู้สร้างสรรค์ได้ทำขึ้น เรียกว่า

1. สิทธิบัตร
2. ทรัพย์สินทางปัญญา
3. เอกสิทธิ์
4. ลิขสิทธิ์

131. ผู้สร้างสรรค์งานต่อไปนี้ ผู้ใดจะไม่ได้รับลิขสิทธิ์ในงานของตน

1. นาย ก เขียนสุนทรพจน์สำหรับพิธีเปิดงานลอยกระทง
2. นาย ข ออกแบบทำเต็นท์มิลิตรีดีโอ
3. นาย ค เขียนข่าวลงหนังสือพิมพ์
4. นาย ง เขียนแบบบ้านให้ลูกค้า

132. ข้อใดกล่าวถูกต้อง

1. การผสมผสานภูมิปัญญาไทยและนานาชาติเป็นสิ่งจำเป็นในทุก ๆ ด้าน
2. จำเป็นต้องแยกการอนุรักษ์ออกจากการพัฒนาให้ชัดเจน เพื่อกำหนดแนวปฏิบัติให้ถูกต้อง
3. ควรเลือกใช้ภูมิปัญญาที่ลงทุนน้อยที่สุด และก่อให้เกิดผลกระทบมากที่สุด
4. ผู้ทำชิ้นงานศิลปะโดยได้รับอนุญาตจากเจ้าของลิขสิทธิ์จะต้องชดใช้ค่าเสียหายให้แก่เจ้าของลิขสิทธิ์ตามจำนวนที่เจ้าของลิขสิทธิ์เห็นสมควร

133. ข้อใดไม่ใช่ข้อแตกต่างระหว่างผู้ประกอบการกับแรงงาน

1. เป็นผู้ลงมือทำงาน
2. เป็นผู้ลงทุน
3. เป็นผู้รับความเสี่ยง
4. เป็นผู้ตัดสินใจ

134. ข้อสมมติทางเศรษฐศาสตร์เปรียบได้กับข้อใด

1. การเดาสุ่ม
2. การเดาอย่างมีหลักการ
3. การประมาณทางวิทยาศาสตร์
4. การวิจัยตลาด

135. ข้อใดไม่เกี่ยวข้องกับเศรษฐศาสตร์

1. ผลิตรกรรม
2. ภาคีกรรม
3. อุปโภคบริโภค
4. บัฟฟาชนียกรรม

136. เศรษฐศาสตร์กล่าวถึงเรื่องใดมากที่สุด

1. การตอบสนองความต้องการของมนุษย์
2. การจัดสรรทรัพยากรให้กลุ่มคนตามอัตภาพ
3. การทำมาหากินของมนุษย์
4. ความสัมพันธ์ของหน่วยต่าง ๆ ในสังคมมนุษย์

137. การตัดสินใจว่าจะทำอะไรในทางเศรษฐศาสตร์ควรตั้งอยู่บนพื้นฐานในข้อใดมากที่สุด

1. ใช้ทรัพยากรน้อยที่สุด
2. ใช้ทรัพยากรคุ้มค่าที่สุด
3. ใช้ต้นทุนการผลิตต่ำที่สุด
4. ผู้บริโภคได้รับความพอใจสูงสุด

138. เศรษฐศาสตร์ภาคใดที่ ถึงขาดทุนแล้ว “ยังอยู่รอดได้”

1. เกษตรกรรม
2. อุตสาหกรรม
3. จุลภาค
4. มหาภาค

139. ข้อใดไม่ใช่ปัญหาพื้นฐานทางเศรษฐศาสตร์

1. ผลิตอะไร
2. ผลิตทำไม
3. ผลิตอย่างไร
4. ผลิตเพื่อใคร

140. ข้อสมมติทางเศรษฐศาสตร์ที่ก่อให้เกิดปัญหาในการประยุกต์ใช้เศรษฐศาสตร์มากที่สุดคือ

1. มนุษย์ทุกคนมีเหตุผล
2. มนุษย์มีอำนาจตัดสินใจ
3. สิ่งต่าง ๆ ที่ศึกษาอยู่ในภาวะคงที่
4. การตัดสินใจทุกครั้งต้องมีความเสี่ยง

141. “ค่าเสียโอกาส” เกิดจากข้อใด

1. ทรัพยากรมีไม่จำกัด
2. ความต้องการมีไม่จำกัด
3. การตัดสินใจเลือกทำตามความต้องการ
4. การใช้ทรัพยากรอย่างใดอย่างหนึ่งมากเกินไป

142. ระบบเศรษฐกิจแบบทุนนิยมกับสังคมนิยมแตกต่างกันในแง่ใด

1. ผู้ผลิตสินค้า
2. ปริมาณสินค้าในตลาด
3. ผู้กำหนดราคาสินค้า
4. ผู้ตัดสินใจบริโภค

143. ข้อใดกล่าวไม่ถูกต้องเกี่ยวกับอุปสงค์อุปทาน

1. เป็นกลไกที่ใช้ในตลาดทุกประเภท
2. เป็นส่วนประกอบของกลไกราคา
3. ใช้กำหนดราคาสินค้าในระบบทุนนิยม
4. เรียกอีกอย่างว่ามือที่มองไม่เห็น

144. ข้อใดไม่เกิดในตลาด

1. การซื้อสินค้าจากผู้ผลิต
2. การขายปัจจัยการผลิต
3. การแลกเปลี่ยน
4. การจัดสรรปัจจัยการผลิต

145. ข้อใดคืออุปสงค์

1. ความต้องการสินค้า
2. ความจำเป็นที่จะต้องซื้อสินค้า
3. ความขาดแคลนสินค้า
4. การซื้อสินค้า

146. สถานการณ์ต่อไปนี้ ข้อใดก่อให้เกิดอุปสงค์ต่อสินค้า

1. สมชายเป็นนักเรียนจึงจำเป็นต้องใช้คอมพิวเตอร์
2. สมพรซื้อข้าวจากร้านขายของ
3. สมหญิงเดินผ่านร้านรองเท้าแล้วรู้สึกอยากได้
4. บริษัทแห่งหนึ่งสำรวจความต้องการใช้ยาสีฟันของประชาชน

147. ตัวแปรในข้อใดไม่สามารถบอกได้จากอุปสงค์และอุปทาน

1. การขาดแคลนและล้นเกิน
2. ภาวะดุลยภาพ
3. ความคาดหวังของผู้บริโภค
4. การตอบรับและแปรผันของราคาสินค้า

148. ข้อใดไม่ใช่ตัวแปรที่ต้องสมมติให้คงที่จากการศึกษาเส้นกราฟอุปสงค์อุปทาน

1. การกระจายรายได้
2. รสนิยมของผู้บริโภค
3. ปริมาณและราคาของสินค้าทดแทน
4. รายจ่ายของผู้บริโภค

149. การเก็บหน่อไม้ในป่ามาขายจัดเป็นกิจกรรมทางเศรษฐกิจแบบใด

1. การยั้งชีพ
2. การหารายได้
3. การผลิต
4. การแลกเปลี่ยน

150. ถ้าราคาเนื้อหมูในตลาดลดลงจากราคาดุลยภาพ จะส่งผลตามข้อใด

1. ราคาเนื้อไก่ลดลง
2. คนอิสลามบริโภคหมูเพิ่มขึ้น
3. เกิดอุปสงค์ส่วนเกินของเนื้อหมู
4. เกิดอุปทานส่วนเกินของเนื้อไก่

151. ข้อใดคือภาวะดุลยภาพ

1. อุปสงค์ส่วนเกินเท่ากับอุปทานส่วนเกิน
2. ราคาซื้อเท่ากับราคาขาย
3. ปริมาณเสนอซื้อเท่ากับราคาขาย
4. เกิดอุปสงค์และอุปทานต่อสินค้าในอัตราส่วนคงที่

152. ข้อใดเกิดอุปทานต่อสินค้า

1. แดงเห็นหน้าร้องรวยจึงอยากเป็นนักร้อง
2. ชาวต้องการปลูกข้าวแต่ยังไม่มีเงินซื้อที่ดิน
3. ดำอยากไปซื้อของมาขายแต่ต้องรอเงินเดือนออก
4. เขียวตัดสินใจเป็นคณงานเนื่องจากค่าแรงเพิ่มขึ้น

153. หากเปรียบเทียบอารยธรรมเมโสโปเตเมียเป็นรากแก้วของอารยธรรมตะวันตก อารยธรรมกรีกโรมันจะเปรียบได้กับส่วนใด

1. ลำต้น
2. รากแขนง
3. กิ่งก้านสาขา
4. ผล

154. ยุคสมัยประวัติศาสตร์ของตะวันตกเริ่มต้นเมื่อใด

1. ชาวอียิปต์ประดิษฐ์ตัวอักษร
2. ชาวสุเมเรียนประดิษฐ์ตัวอักษร
3. ชาวฟินิเซียนประดิษฐ์ตัวอักษร
4. ชาวกรีกประดิษฐ์ตัวอักษร

155. ความเชื่อสำคัญในอารยธรรมโบราณคือ

1. เชื่อในผีสิงเทวดา
2. เชื่อในพระคัมภีร์พันธสัญญาเดิม
3. เชื่อในเทพเจ้า
4. เชื่อในกฎธรรมชาติ

156. สภาพภูมิศาสตร์ในข้อใดมีผลต่อการสร้างสรรค์อารยธรรมของคนอียิปต์มากที่สุด

1. แม่น้ำไนล์
2. ทะเลทรายซาฮารา
3. เทือกเขาแอตลาส
4. ทะเลเมดิเตอร์เรเนียน

157. การรู้จักสังเกตรวมชาติของชาวอียิปต์มีอิทธิพลต่อการสร้างวิทยาการด้านใดมากที่สุด

1. แพทยศาสตร์
2. ไลยศาสตร์
3. ดนตรี
4. ดาราศาสตร์

158. ข้อใดไม่ใช่ความเชื่อของชาวอียิปต์

1. เทพเจ้าสูงสุดคือสุริยเทพ
2. โอซิริสเป็นเทพเจ้าแห่งแม่น้ำไนล์
3. ฟาโรห์เป็นเทพเจ้าพระองค์หนึ่ง
4. นับถือเทพเจ้าเพียงพระองค์เดียว

159. กษัตริย์พระองค์ใดของกรีกที่มีอิทธิพลต่อการสร้างสรรค์อารยธรรม การเมือง และการปกครองของอียิปต์มากที่สุด

1. พระเจ้าดาร์อุส
2. พระเจ้าอเล็กซานเดอร์
3. จูเลียส ซีซาร์
4. พระเจ้าคอนสแตนติน

160. ข้อใดไม่เกี่ยวข้องกับความเชื่อหลังความตาย

1. คัมภีร์ของผู้ตาย
2. การสร้างพีระมิด
3. ไฮโรกลิฟฟิค
4. การทำมัมมี่

161. มรดกทางวัฒนธรรมตามข้อใดของชาวอียิปต์ที่ยังคงใช้มาจนถึงปัจจุบันมากที่สุด

1. ปฏิทินแบบสุริยคติ
2. พีระมิด
3. กระดาษปาปิรุส
4. การต่อเรือ

 Wondershare™

PDF Editor

162. เหตุใดอารยธรรมอียิปต์จึงเหลือร่องรอยทางโบราณคดีมากกว่าอารยธรรมเมโสโปเตเมีย

1. สร้างสิ่งก่อสร้างด้วยอิฐ
2. สร้างสิ่งก่อสร้างด้วยหิน
3. ทำเลที่ตั้งเหมาะสม
4. สิ่งก่อสร้างมีขนาดใหญ่กว่า

163. ข้อใดไม่ใช่ข้อแตกต่างระหว่างอารยธรรมอียิปต์กับอารยธรรมเมโสโปเตเมีย

1. การสร้างภาษาและการใช้โลหะ
2. จำนวนชนชาติที่สร้างสรรค์อารยธรรม
3. อิทธิพลของศาสนาต่อชีวิตคน
4. วัสดุที่ใช้ในการสร้างสิ่งก่อสร้าง

164. ดินแดนเมโสโปเตเมียปัจจุบันอยู่ในประเทศใด

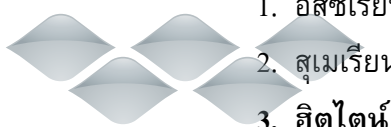
1. อิหร่าน
2. อิรัก
3. ซาอุดีอาระเบีย
4. ตุรกี

165. เฮียโรกลิฟของอียิปต์เทียบได้กับสิ่งใดของสุเมเรียน

1. ซิกกูรัต
2. คูนิฟอร์ม
3. กิลกาเมส
4. หินโรเซตตา

166. ชนชาติแรกที่ใช้เหล็กคือ

1. อัสซีเรียน
2. สุเมเรียน
3. ฮิตไตน์
4. บาบิโลเนียน



Wondershare™

PDF Editor

167. ศาสนาในข้อใดไม่ได้มีรากฐานความคิดมาจากศาสนาของพวกฮีบรู

1. ศาสนายูดาห์
2. ศาสนาคริสต์
3. ศาสนาอิสลาม
4. **ศาสนาฮินดู**

168. ตัวอักษรของชนชาติใดที่เป็นต้นแบบของภาษาละติน

1. บาบิโลเนียน
2. **อัสซีเรียน**
3. คาลเดียน
4. ฟินีเซียน

169. สิ่งก่อสร้างส่วนใหญ่ของอารยธรรมเมโสโปเตเมียมักจะใช้วัสดุชนิดใดก่อสร้าง

1. หิน
2. **อิฐ**
3. ทองแดง
4. สำริด

170. ข้อใดเป็นผลงานสร้างสรรค์ของชาวอัสซีเรียน

1. ชิกกูรัต
2. สวนลอย
3. **พระราชวัง**
4. ประมวลกฎหมาย

171. รูปแบบการปกครองแบบใดถือกำเนิดขึ้นแรกสุดในอาณาจักรเมโสโปเตเมีย

1. **นครรัฐ**
2. จักรวรรดิ
3. ประชาธิปไตย
4. สมบูรณาญาสิทธิราช

 Wondershare™

PDF Editor

172. ชนิดใดเป็นต้นกำเนิดความรู้ทางดาราศาสตร์

1. คาลเดียน
2. เปอร์เซีย
3. ฟินีเชีย
4. อีปรุ

173. ผลงานของบุคคลใดเกี่ยวข้องกับวิชาเศรษฐศาสตร์น้อยที่สุด

1. จอห์น เมนาร์ด เคน
2. คาร์ล มาร์กซ์
3. โรเบิร์ต โอเวน
4. ลีโอ ตอลสตอย

174. ในการพัฒนาเศรษฐกิจ รัฐบาลต้องรักษาสิ่งใดต่อไปนี้อยู่ในระดับต่ำ

1. ทุนทางสังคม
2. มาตรฐานการครองชีพ
3. ดัชนีราคาผู้บริโภค
4. ต้นทุนทางสังคม

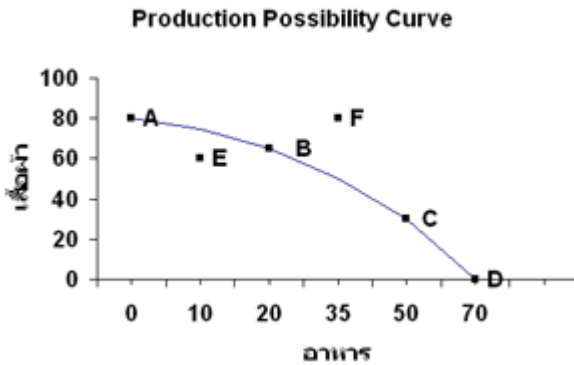
175. สินค้าประเภทใด จะไม่เป็นไปตามกฎของเองเกล

1. สินค้าด้อยคุณภาพ
2. สินค้าจำเป็น
3. สินค้าฟุ่มเฟือย
4. สินค้าปกติ

176. เส้นการผลิตที่เป็นไปได้บอกถึงสิ่งใดต่อไปนี้

1. ความสามารถในการผลิตสัมพันธ์กับอัตราว่างงาน
2. ความสามารถในการผลิตสัมพันธ์กับอัตราเงินเฟ้อ
3. ระดับผลผลิตสูงสุดภายใต้การว่างงานจำกัด
4. ระดับผลผลิตสูงสุดภายใต้เทคโนโลยีจำกัด

จากกราฟต่อไปนี้ จงตอบคำถามข้อ 177-180



177. ณ จุดใดของการผลิตที่การผลิตมีประสิทธิภาพน้อยที่สุด

1. A 2. B 3. E 4. F

178. ที่จุด D แสดงว่าการผลิตของประเทศเป็นอย่างไร

1. มีแนวโน้มจะผลิตเสื้อผ้ามากขึ้น
2. มีแนวโน้มจะผลิตเสื้อผ้าน้อยลง
3. มีการผลิตอาหารมากกว่าเสื้อผ้า
4. มีการผลิตเสื้อผ้ามากกว่าอาหาร

179. ณ จุดใดที่มีการผลิตจริงในทางปฏิบัติ

1. B 2. C 3. E 4. F

180. ณ จุดใดที่เทคโนโลยีในปัจจุบันยังไปไม่ถึง

1. A 2. C 3. E 4. F

181. ข้อใดไม่ถูกต้อง

1. ถ้าความสามารถในการผลิตของประเทศเพิ่มขึ้น เส้นความเป็นไปได้ในการผลิตจะเลื่อนไปทางขวามือ
2. ถ้าประเทศมีการลงทุนมากขึ้น เส้นความเป็นไปได้ในการผลิตจะเลื่อนไปทางขวามือ
3. ถ้าประเทศมีระดับเทคโนโลยีสูงขึ้น เส้นความเป็นไปได้ในการผลิตจะเลื่อนไปทางขวามือ
4. ถ้าประเทศมีอัตราการว่างงานธรรมชาติสูงขึ้น เส้นความเป็นไปได้ในการผลิตจะเลื่อนไปทางขวามือ

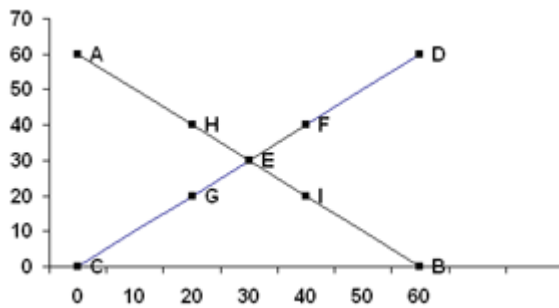
182. ข้อใดเกี่ยวข้องกับ "มือที่มองไม่เห็น" น้อยที่สุด

1. กลไกราคา
2. ภาวะดุลยภาพ
3. อดัม สมิท
4. รสนิยมผู้บริโภค

183. ปริมาณความต้องการซื้อที่ระดับราคาหนึ่งเรียกว่า

1. อุปสงค์
2. ปริมาณอุปสงค์
3. อุปทาน
4. ปริมาณอุปทาน

จากข้อมูลต่อไปนี้ ตอบคำถามข้อ 184-186



184. ที่จุดใดทำให้อุปสงค์ส่วนเกินเท่ากับอุปทานส่วนเกิน

1. E
2. F
3. G
4. H

185. ที่จุดใดราคาสินค้า "ถูกเกินไป"

1. E
2. F
3. G
4. H

186. ที่จุดใดทำให้เกิดอุปทานส่วนเกิน

1. E
2. F
3. G
4. H



PDF Editor

187. การเปลี่ยนแปลงของอุปสงค์เกิดจากปัจจัยต่อไปนี้ ยกเว้นข้อใด

1. ราคาสินค้า
2. รายได้ของผู้บริโภค
3. สินค้าทดแทน
4. รสนิยมของผู้บริโภค

188. หากมีการเปลี่ยนแปลงปริมาณอุปสงค์ เส้นอุปสงค์จะเปลี่ยนแปลงอย่างไร

1. ไม่เปลี่ยนแปลง
2. เลื่อนไปทางซ้าย
3. เลื่อนไปทางขวา
4. ข้อมูลไม่เพียงพอ

189. ข้อใดต่อไปนี้ทำให้ราคาน้ำตาลทรายสูงขึ้น

1. ราคากาแฟสำเร็จรูปต่ำลง
2. ราคาอ้อยสดสูงขึ้น
3. จำนวนผู้ป่วยเบาหวานเพิ่มขึ้น
4. อัตราดอกเบี้ยสูงขึ้น

190. การเปลี่ยนแปลงของอุปทานต่างจากการเปลี่ยนแปลงของปริมาณอุปทานอย่างไร

1. การเปลี่ยนแปลงของอุปทานเกิดจากการเปลี่ยนแปลงของราคาสินค้า
2. การเปลี่ยนแปลงของปริมาณอุปทานเกิดจากปัจจัยอื่น ๆ ที่ไม่ใช่ราคา
3. การเปลี่ยนแปลงของอุปทานทำให้เกิดการเลื่อนตำแหน่งของเส้นอุปทาน
4. การเปลี่ยนแปลงของอุปทานทำให้เกิดการเลื่อนจุดบนเส้นอุปทาน

191. การเปลี่ยนแปลงอุปทานไม่ทำให้สิ่งใดต่อไปนี้เปลี่ยนแปลง

1. ราคาดุลยภาพ
2. ปริมาณดุลยภาพ
3. อุปสงค์ตลาด
4. อุปทานตลาด



PDF Editor

192. ถ้ามีการวิจัยพบว่ากระเทียมสามารถรักษาโรคมะเร็งได้ ข้อใดต่อไปนี้จะไม่เกิดขึ้น

1. อุปสงค์กระเทียมจะสูงขึ้น
2. แนวโน้มราคาหอมแดงจะสูงขึ้น
3. ปริมาณกระเทียมในตลาดจะเพิ่มขึ้น
4. แนวโน้มราคากระเทียมจะสูงขึ้น

193. ในตลาดประเภทใดที่ผู้ผลิตสามารถรวมตัวกันกำหนดราคาสินค้าได้

1. ตลาดแข่งขันสมบูรณ์
2. ตลาดกึ่งแข่งขันกึ่งผูกขาด
3. ตลาดผู้ขายน้อยราย
4. ตลาดผูกขาด

194. ตลาดประเภทใดไม่จำเป็นต้องมีการโฆษณาสินค้า

1. ตลาดแข่งขันสมบูรณ์
2. ตลาดกึ่งแข่งขันกึ่งผูกขาด
3. ตลาดผู้ขายน้อยราย
4. ตลาดผูกขาด

195. ตลาดประเภทใดที่ผู้ผลิตสามารถประหยัดต้นทุนในการผลิตได้มากที่สุด

1. ตลาดแข่งขันสมบูรณ์
2. ตลาดกึ่งแข่งขันกึ่งผูกขาด
3. ตลาดผู้ขายน้อยราย
4. ตลาดผูกขาด

196. ตลาดชนิดใดที่มีสินค้าคล้ายคลึงกัน

1. ตลาดแข่งขันสมบูรณ์
2. ตลาดกึ่งแข่งขันกึ่งผูกขาด
3. ตลาดผู้ขายน้อยราย
4. ตลาดผูกขาด



Wondershare™

PDF Editor

197. การซื้อขายสินค้าผ่านอินเทอร์เน็ตจัดเป็นตลาดประเภทใด

1. ตลาดผูกขาด
2. ตลาดผู้ขายน้อยราย
3. ตลาดกึ่งแข่งขันกึ่งผูกขาด
4. **ข้อมูลไม่เพียงพอ**

198. นโยบายใดของรัฐบาลทำให้ราคาสินค้าต่ำกว่าราคาดุลยภาพ

1. การประกันราคาขั้นต่ำ
2. **การกำหนดราคาขั้นสูง**
3. การแทรกแซงตลาด
4. การขายสินค้าในตลาดมืด

199. เมื่อเกิดภาวะสงคราม รัฐบาลต้องใช้นโยบายใดต่อไป

1. ภาวะตลาดมืด
2. การประกันราคาขั้นต่ำ
3. **การกำหนดราคาขั้นสูง**
4. การปันส่วนผลผลิตส่วนเกิน

200. การหาค่าจ้างที่แท้จริงต้องคำนึงถึงสิ่งใดต่อไปนี้ด้วย

1. ดัชนีราคาผู้ผลิต
2. **ดัชนีราคาผู้บริโภค**
3. ความยืดหยุ่นของสินค้าต่อราคา
4. สัมประสิทธิ์จีพี

201. การกำหนดค่าจ้างขั้นต่ำมีผลทำให้

1. อุปทานแรงงานต่ำลง
2. **อุปสงค์แรงงานสูงขึ้น**
3. เกิดอุปสงค์แรงงานส่วนเกิน
4. **เกิดภาวะว่างงาน**



PDF Editor

202. ข้อใดแสดงให้เห็นว่ารายได้ที่แท้จริงเพิ่มขึ้น

1. รายได้ที่เป็นตัวเงินเพิ่มขึ้น
2. รายได้เพิ่มขึ้นเท่ากับอัตราเงินเฟ้อ
3. รายได้เพิ่มขึ้นมากกว่าดัชนีราคา
4. อัตราดอกเบี้ยเงินฝากเพิ่มขึ้น

203. ศาสนาพราหมณ์ช่วงที่เปลี่ยนเป็นเอกเทวนิยมนับถือสิ่งใดเป็นสิ่งศักดิ์สิทธิ์สูงสุด

1. โมกษะ
2. พระเวท
3. พรหมัน
4. ตรีมูรติ

204. ความหมายของคำว่า มุสลิม ในข้อใดถูกต้องที่สุด

1. ผู้รักความสงบ
2. ผู้มีศรัทธาต่อพระเจ้า
3. ผู้ยอมมอบตนต่อพระเจ้า
4. ผู้ปฏิบัติตามโองการของพระเจ้า

205. ในตอนแรก ชาวฮิวเชื่อว่าพระเยซูคือใคร

1. เมสสิอาห์
2. ศาสดาพยากรณ์
3. พระบุตรของพระเจ้า
4. พระเจ้า

206. พระพุทธเจ้าทรงบรรลุญาณใด ที่ทำให้ตรัสรู้ร้อยสี่ 4

1. จุตูปปัตต
2. อาสวัภย
3. อานาปานสติ
4. ปุพเพนิวาสานุสสติ



PDF Editor

207. หน้าที่ต่อพระเป็นเจ้าในศาสนาอิสลามคืออะไร

1. การไม่บูชารูปเคารพใดๆ
2. การปฏิบัติตามหลักปฏิบัติ 5
3. การช่วยเหลือเกื้อกูลเพื่อนมนุษย์ร่วมโลก
4. การเชื่อว่ามิพระเจ้าองค์เดียวเป็นผู้บันดาลสรรพสิ่ง

208. พิธีกรรมใดที่คริสต์ศาสนิกชนได้แสดงความเป็นอันหนึ่งอันเดียวกับพระเจ้า

1. ศีลบวช
2. ศีลกำลัง
3. ศีลล้างบาป
4. ศีลมหาสนิท

209. คัมภีร์อุปนิษัตมีสาระสำคัญเรื่องใด

1. คู่มือการทำพิธีบูชาัญญ
2. ปรัชญาว่าด้วยวิญญาณสากล
3. บทเพลงสวดสรรเสริญเทพเจ้า
4. คู่มือการประกอบพิธีกรรมและบูชาของพราหมณ์

210. กฎแห่งกรรมอยู่ในหลักธรรมใด

1. นิยาม 5
2. ชั้น 5
3. พละ 5
4. วิมุตติ 5

211. ถ้าเราเห็นวัตถุสิ่งหนึ่งแล้วจำได้ว่าสิ่งนั้นคือดอกกุหลาบแดง ขั้นตอนนี้คือส่วนใดของขั้นที่

5

1. เวทนา
2. สังขาร
3. สัญญา
4. วิญญาณ

wondershare™

PDF Editor

212. ผู้ที่ได้รับยกย่องว่าเป็นเสมือนเสนาบดีแห่งกองทัพธรรมในยุคกึ่งพุทธกาลคือใคร

1. พระอาจารย์มั่น ภูริทตฺโต
2. พระธรรมโกศาจารย์ (ปัญญานันทภิกขุ)
3. พระธรรมโกศาจารย์ (พุทธทาสภิกขุ)
4. สมเด็จพระวันรัต (เฮง เขมจารี)

213. หน้าที่ที่สำคัญที่สุดของพุทธศาสนิกชนคือข้อใด

1. รักษาศีล
2. ศึกษาพระไตรปิฎก
3. เผยแผ่พระพุทธศาสนา
4. ทำนุบำรุงพระพุทธศาสนา

214. เรื่องภาพ - ภูมิ สัมพันธ์กับหลักพระพุทธศาสนาเรื่องใด

1. กรรม
2. กิเลส
3. นิพพาน
4. อริยสัจ

215. การสังคายนาพระไตรปิฎกครั้งใด เริ่มจารึกเป็นลายลักษณ์อักษรภาษาบาลีและทำที่ใด

1. ครั้งที่ 2 อินเดีย
2. ครั้งที่ 3 อินเดีย
3. ครั้งที่ 4 ศรีลังกา
4. ครั้งที่ 5 ศรีลังกา

216. ศาสนพิธีใดเป็นเรื่องของพระสงฆ์ล้วนๆ ไม่มีฆราวาสเกี่ยวข้อง

1. พิธีอุปสมบท
2. พิธีปวารณา
3. พิธีมหากรฐิน
4. พิธีรักษาอุโบสถศีล



PDF Editor

217. ในวันอาสาฬหบูชา พระพุทธเจ้าทรงแสดงพระธรรมเทศนาเรื่องใด

1. อนัตตา และ นิพพาน
2. ไตรลักษณ์ และ รัตนตรัย
3. มัชฌิมาปฏิปทา และ อริยสัจ
4. โพธิปักขิยธรรม และ อปริหานิยธรรม

218. การบริหารจัดการโดยวิธีอานาปานสติ อยู่ในสติปัฏฐานใด

1. กายานุปัสสนา
2. เวทนานุปัสสนา
3. จิตตานุปัสสนา
4. ธัมมานุปัสสนา

219. วิธีคิดแบบสามัญญลักษณะคือการคิดแบบใด


1. มัชฌิมาปฏิปทา
2. ไตรลักษณ์
3. อานาปานสติ
4. ปฏิจจสมุปบาท

220. การรู้แจ้งในอริยสัจ 4 สัมพันธ์กับสติปัฏฐานข้อใด

1. กายานุปัสสนา
2. เวทนานุปัสสนา
3. จิตตานุปัสสนา
4. ธัมมานุปัสสนา

221. ในแนวทางพระพุทธศาสนา เราจะสร้างคุณภาพชีวิตได้อย่างไร

1. มีสติ สมาธิ และปัญญา
2. มีมารยาทชาวพุทธ และสมาธิ
3. ยึดไตรลักษณ์ และโยนิโสมนสิการ
4. ยึดทิวฏฐัมมิกัตถสังวัตตนิกขธรรม และฆราวาสธรรม

 UnderShare™

PDF Editor

222. หลักปฏิบัติเพื่อการพัฒนาที่ยั่งยืนในพระพุทธศาสนาคือหลักใด

1. ฌราวาสธรรม สาราณียธรรม
2. ปฏิจสุมุปาท อิทัปปัจจตา
3. มงคล 38 ประการ อริยมรรค
4. **ทิวฐธัมมิกัตถสังวัตตนิทธรรม มัชฌิมาปฏิปทา**

223. กิจกรรมใดแสดงถึงการมีส่วนร่วมในการปกครองท้องถิ่น

1. การรวมกลุ่มรณรงค์คัดค้านรัฐบาล
2. **การเข้าชื่อเสนอถอดถอนนายกเทศมนตรี**
3. การออกเสียงเลือกตั้งสมาชิกสภาผู้แทนราษฎร
4. การสนับสนุนการจัดตั้งสาขาของพรรคการเมือง

224. การใช้หลักการใดก่อให้เกิดความยุติธรรมในสังคมได้ดีที่สุด

1. หลักภราดรภาพ
2. หลักเสียงข้างมาก
3. หลักการมีส่วนร่วม
4. **หลักความเสมอภาค**

225. ข้อใดกล่าวถูกต้องเกี่ยวกับการแต่งตั้งคณะกรรมการสิทธิมนุษยชนแห่งชาติตามรัฐธรรมนูญแห่งราชอาณาจักรไทย พุทธศักราช 2550

1. **พระมหากษัตริย์ทรงแต่งตั้งตามคำแนะนำของวุฒิสภา**
2. รัฐสภาแต่งตั้งตามความเห็นชอบของสภาผู้แทนราษฎรและวุฒิสภา
3. สภาผู้แทนราษฎรมีมติแต่งตั้งตามคำแนะนำของคณะกรรมการสรรหา
4. คณะรัฐมนตรีมีมติแต่งตั้งตามคำแนะนำของกระทรวงการพัฒนาสังคมและความมั่นคงของมนุษย์

226. ประเภทของกฎหมายในข้อใดเกิดจากการแบ่งประเภทตามลักษณะความสัมพันธ์ของคู่กรณี

1. กฎหมายอาญาและกฎหมายแพ่ง
2. **กฎหมายสารบัญญัติและกฎหมายวิธีสบัญญัติ**

3. กฎหมายลายลักษณ์อักษรและกฎหมายจารีตประเพณี
 4. กฎหมายเอกชน กฎหมายมหาชน และกฎหมายระหว่างประเทศ
227. กฎหมายในข้อใดอยู่ในลำดับศักดิ์ของกฎหมายชั้นเดียวกัน
1. พระราชกฤษฎีกา และ พระราชบัญญัติ
 2. พระราชบัญญัติ และ ประมวลกฎหมาย
 3. พระราชกำหนด และ พระราชกฤษฎีกา
 4. ประมวลกฎหมาย และ พระราชกฤษฎีกา
228. ตามกฎหมายว่าด้วยมรดก ใครคือทายาทโดยธรรมลำดับแรก
1. คู่สมรส
 2. บิดามารดา
 3. ผู้สืบสันดาน
 4. ผู้รับพินัยกรรม
229. ข้อใดกล่าวไม่ถูกต้องเกี่ยวกับการละเมิดลิขสิทธิ์
1. เป็นความผิดอันยอมความได้
 2. ผู้เสียหายจะฟ้องร้องได้ต่อเมื่อจดทะเบียนลิขสิทธิ์แล้ว
 3. หากกระทำเพื่อการค้า อาจต้องระวางโทษทั้งจำทั้งปรับ
 4. ผู้เสียหายสามารถฟ้องคดีต่อศาลได้ทั้งทางแพ่งและอาญา
230. สถาบันใดสามารถทำหน้าที่ของสถาบันอื่นๆ ในสังคมได้ด้วย
1. สถาบันการเมือง
 2. สถาบันเศรษฐกิจ
 3. สถาบันการศึกษา
 4. สถาบันครอบครัว
231. ข้อใดคือองค์ประกอบที่สำคัญของโครงสร้างทางสังคม
1. กลุ่มและสถาบัน
 2. อำนาจและกลไก
 3. ทัศนคติและพฤติกรรม
 4. วัฒนธรรมและประเพณี



PDF Editor

232. เรือเครื่องสับเป็นเรือไทยที่มีลักษณะสอดคล้องกับข้อใด

1. เรือไม้ไผ่
2. เรือผ่าซัดตะ
3. เรือฝากระดาน
4. เรือหลังคาจาก

233. พฤติกรรมใดของพลเมืองที่ขัดขวางการพัฒนาทางการเมืองตามระบอบประชาธิปไตย

1. การรณรงค์หาเสียง
2. การชุมนุมประท้วง
3. การนอนหลับทับสิทธิ์
4. การเรียกร้องสิทธิประโยชน์

234. ช่องกบเป็นรัฐหรือไม่ เพราะเหตุผลใด

1. เป็นรัฐ เพราะมีการปกครองตนเองอย่างอิสระ
2. เป็นรัฐ เพราะมีดินแดนที่มีอาณาเขตแน่นอน
3. ไม่เป็นรัฐ เพราะไม่มีรัฐบาลเป็นของตนเอง
4. ไม่เป็นรัฐ เพราะไม่มีอำนาจอธิปไตย

235. การปกครองตนเองของประชาชนแบบประชาธิปไตยเริ่มปรากฏขึ้นตั้งแต่เมื่อใด

1. สมัยกลาง
2. สมัยโรมัน
3. สมัยกรีกโบราณ
4. สมัยฟื้นฟูศิลปวิทยา

236. ความข้อใดอธิบายได้ถึงสาเหตุที่ประเทศไทยจัดการปกครองตามแบบอังกฤษแทนที่จะจัดแบบฝรั่งเศส ภายหลังจากการเปลี่ยนแปลงการปกครอง พ.ศ. 2475

1. ประเทศไทยมีกษัตริย์เช่นเดียวกับอังกฤษ
2. อังกฤษมีรัฐบาลที่มีเอกภาพและเสถียรภาพสูง
3. ระบบขุนนางของไทยและอังกฤษมีลักษณะคล้ายคลึงกัน
4. กลุ่มผู้นำในการเปลี่ยนแปลงการปกครองสำเร็จการศึกษาจากอังกฤษ

237. ในระบอบประชาธิปไตยอันมีพระมหากษัตริย์ทรงเป็นประมุข ใครคือผู้มีอำนาจสูงสุดของประเทศ

1. พระมหากษัตริย์
2. ประชาชน
3. รัฐบาล
4. รัฐสภา

238. ข้อใดกล่าวถูกต้องเกี่ยวกับพระมหากษัตริย์ของไทยในระบอบประชาธิปไตยอันมีพระมหากษัตริย์ทรงเป็นประมุข

1. ทรงดำรงฐานะองค์อธิปัตย์แห่งรัฐ
2. ทรงดำรงตำแหน่งสูงสุดของกองทัพ
3. ทรงดำรงฐานะประมุขแห่งพระศาสนา
4. ทรงดำรงตำแหน่งสูงสุดของฝ่ายบริหาร

239. ประเทศใดเป็นทั้งสมาชิกกลุ่ม ASEAN และ APEC

1. ลาว
2. พม่า
3. กัมพูชา
4. เวียดนาม

240. ตามรัฐธรรมนูญแห่งราชอาณาจักรไทย พุทธศักราช 2550 ผู้ที่มีสัญชาติไทยหากกระทำความผิดร้ายแรง สามารถเนรเทศออกนอกประเทศได้หรือไม่

1. เนรเทศได้ทั้งกรณีความผิดทางอาญาและทางแพ่ง
2. เนรเทศได้เฉพาะกรณีความผิดทางอาญา
3. เนรเทศได้เฉพาะเป็นการชั่วคราว
4. เนรเทศไม่ได้

241. สมาชิกผู้แทนราษฎร ตามรัฐธรรมนูญแห่งราชอาณาจักรไทย พุทธศักราช 2550 ประกอบด้วยสมาชิกจำนวนเท่าใด

1. 420 คน
2. 440 คน
3. 460 คน
4. 480 คน

242. ข้อใดกล่าวถูกต้องเกี่ยวกับการดำรงตำแหน่งนายกรัฐมนตรี ตามรัฐธรรมนูญแห่งราชอาณาจักรไทย พุทธศักราช 2550

1. จะดำรงตำแหน่งติดต่อกัน 2 วาระ ไม่ได้
2. จะดำรงตำแหน่งติดต่อกันเกินกว่า 4 ปี ไม่ได้
3. จะดำรงตำแหน่งติดต่อกันเกินกว่า 8 ปี ไม่ได้
4. จะดำรงตำแหน่งติดต่อกันเกินกว่า 2 วาระ ไม่ได้

243. ข้อความใดเกี่ยวกับเศรษฐศาสตร์มหภาค

1. ปีนี้โรงสีขายข้าวเปลือกในราคาตันละ 9,500 บาทต่ำกว่าราคาที่รัฐบาลรับจำนำ
2. ร้านค้าทองขายทองคำแท่งในราคาที่สูงกว่าเมื่อเดือนที่แล้วร้อยละ 5
3. สินค้าออกของไทยมีมูลค่าเพิ่มขึ้นจากปีที่แล้วร้อยละ 10
4. ผลผลิตเงาะปีนี้เพิ่มขึ้นมาก ทำให้ราคาตกเหลือเพียงกิโลกรัมละ 5 บาท

244. วิชาเศรษฐศาสตร์เป็นศาสตร์ในสาขาใด เพราะเหตุใด

1. สังคมศาสตร์ เพราะศึกษาพฤติกรรมของมนุษย์
2. วิทยาศาสตร์ประยุกต์ เพราะสามารถใช้อธิบายปรากฏการณ์ที่เกิดขึ้นจริงได้
3. ศีกษาศาสตร์ เพราะไม่ต้องใช้คณิตศาสตร์เป็นเครื่องมือในการวิเคราะห์
4. ตรรกวิทยา เพราะผลการศึกษาดำเนินการสอดคล้องกับหลักเหตุและผล

245. ปัญหาข้อใดไม่ได้เกิดจากการที่ผู้ผลิตใช้ทรัพยากรการผลิตอย่างไรประสิทธิภาพ

1. สิ่งแวดล้อมเสื่อมโทรม
2. ทรัพยากรธรรมชาติหมดไป
3. ต้นทุนทางสังคมสูงเกินไป
4. คุณภาพของสินค้าต่ำกว่ามาตรฐาน

246. ปริมาณเงินในความหมายกว้างได้รับผลกระทบจากการดำเนินธุรกิจของสถาบันการเงินใดมากที่สุด

1. ธนาคารเพื่อการเกษตรและสหกรณ์การเกษตร และสหกรณ์ออมทรัพย์
2. ธนาคารออมสิน และบริษัทหลักทรัพย์จัดการกองทุนรวม
3. ธนาคารอาคารสงเคราะห์ และบริษัทประกันภัย
4. ธนาคารพาณิชย์ และบริษัทเงินทุน

247. รัฐบาลต้องจัดทำงบประมาณแผ่นดินลักษณะใดในการดำเนินนโยบายการคลังแบบหดตัว

1. กำหนดรายรับเท่ากับรายจ่าย
2. กำหนดรายได้เท่ากับรายจ่าย
3. กำหนดรายจ่ายต่ำกว่ารายรับ
4. กำหนดรายจ่ายต่ำกว่ารายได้

248. แนวคิดเกี่ยวกับสหกรณ์เริ่มขึ้นในประเทศใดเป็นประเทศแรก

1. อังกฤษ
2. เยอรมนี
3. สวีเดน
4. รัสเซีย

249. สหกรณ์ประเภทใดเปิดกว้างให้ผู้ประกอบอาชีพใดก็ได้เข้าเป็นสมาชิก

1. สหกรณ์นิคม
2. สหกรณ์ร้านค้า
3. สหกรณ์บริการ
4. สหกรณ์ออมทรัพย์

250. ผู้ใดนำแนวทางเศรษฐกิจพอเพียงไปประยุกต์ใช้

1. นายเจียมลดรายจ่ายได้มาก เพราะงดการดื่มสุราตามคำแนะนำของแพทย์ประจำตัว
2. นายจิตทำตามสัญญาที่ให้ไว้กับบุตร โดยหาเงินมาซื้อรถยนต์ให้เป็นรางวัลที่สอบเข้ามหาวิทยาลัยได้
3. นายสุขใช้เวลาว่างวันอาทิตย์ ทำงานเป็นพนักงานเสิร์ฟอาหารเพื่อหารายได้พิเศษมาเลี้ยงครอบครัว
4. นายแสงลดการปลูกพืชหลายชนิด หันมาปลูกพืชหลักเพียงชนิดเดียว เพื่อจะได้เกิดความชำนาญในการปลูกพืชชนิดนั้น

251. การแข่งขันกันอย่างรุนแรงในการผลิตสินค้าและบริการขายในตลาด จะทำให้เกิดผลเสียที่สำคัญข้อใด

1. มีการผลิตสินค้าและบริการมากเกินไป ทำให้เกิดการบริโภคที่ฟุ่มเฟือย
2. มีการใช้ปัจจัยการผลิตมาก ทำให้ประเทศต้องประสบปัญหาการขาดแคลนปัจจัยการผลิต

3. มีการนำเครื่องจักรมาใช้ในการผลิตแทนการใช้แรงงานมากขึ้น ทำให้นายจ้างสามารถกดค่าจ้างให้ต่ำลง
4. มีผู้ผลิตจำนวนน้อยที่สามารถดำเนินธุรกิจต่อไปได้ ทำให้เขามีอำนาจการผูกขาดสูงขึ้น

252. การที่ผู้บริโภครู้สึกสนใจผิดพลาดในการซื้อสินค้า เกิดจากอิทธิพลของข้อใดมากที่สุด

1. การได้รับแจกสินค้าตัวอย่าง
2. การสาธิตวิธีการใช้สินค้า
3. การแนะนำของเพื่อน
4. การโฆษณาผ่านสื่อต่าง ๆ

253. ข้อใดไม่ใช่สิทธิขั้นพื้นฐานของผู้บริโภคตามพระราชบัญญัติคุ้มครองผู้บริโภค

พ.ศ. 2522 แก้ไขเพิ่มเติม (ฉบับที่ 2) พ.ศ. 2541

1. การได้ซื้อสินค้าในราคาที่เป็นธรรม
2. การได้รับค่าชดเชยความเสียหาย
3. การได้รับความปลอดภัยจากการใช้บริการ
4. การได้รับข่าวสารรวมทั้งคำพรรณนาคุณภาพที่ถูกต้อง

254. ข้อใดไม่ใช่ลักษณะของรัฐบาลในระบบเศรษฐกิจแบบสังคมนิยมคอมมิวนิสต์

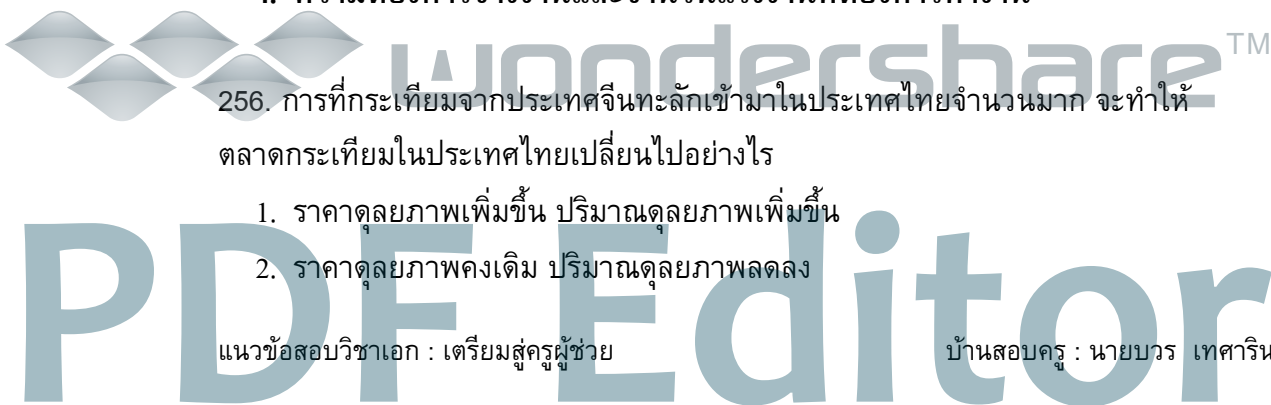
1. มีการวางแผนเศรษฐกิจ
2. เป็นเจ้าของปัจจัยการผลิตทุกชนิด
3. ออกกฎหมายห้ามการผูกขาดการผลิต
4. จำกัดเสรีภาพของประชาชนในการเลือกบริโภค

255. การกำหนดค่าจ้างในระบบเศรษฐกิจแบบทุนนิยมขึ้นกับปัจจัยในข้อใด

1. ผู้ผลิตที่ต้องการรับแรงงานเข้าทำงาน และจำนวนแรงงานที่ต้องการจ้าง
2. จำนวนคนว่างงาน และคุณสมบัติของผู้สมัครเข้าทำงาน
3. การเลือกทำงานของแรงงานและตำแหน่งงานว่าง
4. ความต้องการจ้างงานและจำนวนแรงงานที่ต้องการทำงาน

256. การที่กระเทียมจากประเทศจีนทะลักเข้ามาในประเทศไทยจำนวนมาก จะทำให้ตลาดกระเทียมในประเทศไทยเปลี่ยนแปลงไปอย่างไร

1. ราคาคุณภาพเพิ่มขึ้น ปริมาณคุณภาพเพิ่มขึ้น
2. ราคาคุณภาพคงเดิม ปริมาณคุณภาพลดลง



3. ราคาคุณภาพลดลง ปริมาณคุณภาพเพิ่มขึ้น
4. ราคาคุณภาพเพิ่มขึ้น ปริมาณคุณภาพลดลง
257. นายวิทย์ซื้อกระเป๋าถือสตรีจากพ่อค้าในประเทศอิตาลีเป็นมูลค่า 1 ล้านบาท เพื่อนำมาขายในประเทศ รายการดังกล่าวต้องบันทึกในบัญชีใดของการชำระเงิน
1. บัญชีการเงิน
 2. บัญชีรายได้
 3. บัญชีเงินโอน
 4. บัญชีเดินสะพัด
258. วิธีการใดส่งเสริมการค้าระหว่างประเทศได้อย่างมีประสิทธิภาพมากที่สุด
1. เข้าเป็นสมาชิกองค์การการค้าโลก
 2. ร่วมกันจัดตั้งเขตการค้าเสรี
 3. ยกเลิกโควตาสินค้าออกและสินค้าเข้า
 4. ลดมาตรฐานคุณภาพสินค้าเข้าและสินค้าออก
259. สินค้าหรือบริการใดจัดว่าเป็นสินค้าสาธารณะ
1. รถโดยสารระหว่างจังหวัด
 2. สถานสงเคราะห์ผู้สูงอายุ
 3. มหาวิทยาลัยของรัฐ
 4. การป้องกันประเทศ
260. เงินที่รัฐบาลได้รับจากการออกตั๋วเงินคลังเป็นองค์ประกอบของข้อใด
1. รายได้
 2. รายรับ
 3. เงินคงคลัง
 4. เงินกู้ระยะยาว
261. แผนพัฒนาเศรษฐกิจและสังคมแห่งชาติฉบับใด อัญเชิญ “ปรัชญาเศรษฐกิจพอเพียง” ตามพระราชดำริของพระบาทสมเด็จพระเจ้าอยู่หัวมาเป็นปรัชญานำทางในการพัฒนาประเทศเป็นฉบับแรก
1. แผนพัฒนาฯ ฉบับที่ 7
 2. แผนพัฒนาฯ ฉบับที่ 8
 3. แผนพัฒนาฯ ฉบับที่ 9
 4. แผนพัฒนาฯ ฉบับที่ 10



262. ชนชาติใดที่เข้าสู่สมัยประวัติศาสตร์ในโลกตะวันตกเป็นกลุ่มแรก

1. ชาวอียิปต์
2. ชาวสุเมเรียน
3. ชาวเปอร์เซีย
4. ชาวบาบิโลเนียน

263. หลักฐานประเภทใดที่ทำให้การศึกษาเรื่องอาณาจักรต่างๆ ในดินแดนประเทศไทย น่าเชื่อถือมากที่สุด

1. ตำนาน
2. จารึก
3. เอกสารจีน
4. จดหมายเหตุ

264. ในดินแดนเอเชียตะวันออกเฉียงใต้ปัจจัยใดมีความหลากหลายมากที่สุด

1. ศาสนา
2. กลุ่มชาติพันธุ์
3. การประกอบอาชีพ
4. สภาพภูมิศาสตร์

265. นักมนุษยนิยมเป็นผลผลิตของโลกตะวันตกในยุคใด

1. Romantic
2. Realistic
3. Reformation
4. Renaissance

266. เมืองหลวงใดที่มีอายุใกล้เคียงกับกรุงเทพมหานครมากที่สุด

1. ปักกิ่ง
2. ปารีส
3. ลอนดอน
4. วอชิงตัน ดี.ซี.

267. ข้อใดไม่ใช่คุณสมบัติของชนชั้นกลางในสังคมยุโรปช่วงคริสต์ศตวรรษที่ 16 - 17 TM

1. เป็นผู้รักความอิสระเสรี
2. เป็นผู้ที่มีความเชื่อมั่นในตัวเอง
3. เป็นผู้บุกเบิกความรู้ทางวิทยาศาสตร์
4. เป็นผู้ที่ต้องการความเสมอภาค

268. เหตุใดการต่อสู้เพื่อเอกราชของชาวอาณานิคมในทวีปอเมริกาใต้จึงเป็นไปด้วยความยากลำบาก

1. กลุ่มผู้นำในการต่อสู้ขาดเอกภาพ
2. สภาพภูมิประเทศเป็นภูเขาและป่าทึบ
3. อำนาจในการปกครองตกอยู่ในมือของกลุ่มชนชั้นสูง
4. การต่อต้านของกลุ่มผู้ที่มีทาสไว้ในครอบครอง

269. การประกาศหลักการมอนโรของสหรัฐอเมริกาใน ค.ศ. 1823 เพื่อวัตถุประสงค์ใด

1. ต่อด้านการใช้แรงงานทาส
2. สนับสนุนการขยายดินแดนไปทางฝั่งตะวันตก
3. ห้ามประเทศในยุโรปเข้ามาแสวงหาผลประโยชน์
4. ส่งเสริมให้ชาวอเมริกันออกไปทำธุรกิจในต่างแดน

270. กิจกรรมใดนำไปสู่การปฏิวัติอุตสาหกรรมระยะที่สอง

1. การผลิตเหล็กกล้า
2. การใช้เครื่องจักรไอน้ำ
3. การประดิษฐ์เครื่องปั่นด้าย
4. การวางสายโทรเลขข้ามทวีป

271. การปฏิวัติฝรั่งเศส ค.ศ. 1789 ทำให้เกิดการเปลี่ยนแปลงในเรื่องใด

1. เกิดความรู้สึกราชาตินิยมอย่างรุนแรง
2. ทุกคนได้รับสิทธิในการออกเสียงเลือกตั้ง
3. ยกเลิกระบอบอภิสิทธิ์อย่างเป็นทางการ
4. ฝรั่งเศสเป็นประชาธิปไตยอย่างสมบูรณ์

272. ประเทศใดไม่ได้เกิดจากการล่มสลายของสหพันธรัฐยูโกสลาเวียระหว่าง

ค.ศ. 1991 - 1995

1. โครเอเชีย
2. บัลแกเรีย
3. มาซิโดเนีย
4. สโลวีเนีย

 Wondershare™

PDF Editor

273. การแข่งขันกีฬาโอลิมปิกในสมัยโบราณจัดขึ้นเพื่อถวายเทพเจ้าองค์ใด

1. ซูส (Zeus)
2. อพอลโล (Apollo)
3. เฮอร์เมส (Hermes)
4. โพซายดอน (Poseidon)

274. พระราชกรณียกิจใดที่พระบาทสมเด็จพระจุลจอมเกล้าเจ้าอยู่หัวทรงปฏิบัติก่อนพระราชกรณียกิจอื่นหลังจากขึ้นครองราชย์

1. เสด็จประพาสต้น
2. ตั้งหอรัษฎากรพิพัฒน์
3. เสด็จพระราชดำเนินต่างประเทศ
4. ตั้งสภาที่ปรึกษาราชการแผ่นดิน

275. ข้อใดไม่ได้เกิดขึ้นในรัชสมัยพระบาทสมเด็จพระจุลจอมเกล้าเจ้าอยู่หัว

1. การปฏิรูปการศึกษา
2. การจัดตั้งกระทรวง
3. การปรับปรุงกองทัพให้ทันสมัย
4. การประกาศใช้ประมวลกฎหมายแพ่งและพาณิชย์

276. ประเทศไทยได้เผชิญปัญหาเศรษฐกิจอย่างรุนแรงเป็นครั้งแรกในช่วงเวลาใด

1. หลังสงครามโลกครั้งที่ 1
2. หลังสงครามโลกครั้งที่ 2
3. หลังวิกฤตการณ์ ร.ศ. 112
4. หลังการลงนามในสนธิสัญญาเบาว์ริง

277. พระราชบัญญัติว่าด้วยพรรคการเมืองในประเทศไทยประกาศใช้เป็นครั้งแรกในสมัยที่ใครเป็นนายกรัฐมนตรี

1. พระยามโนปกรณนิติธาดา
2. พระยาพหลพลพยุหเสนา
3. จอมพล ป. พิบูลสงคราม
4. จอมพลสฤษดิ์ ธนะรัชต์



PDF Editor

278. หากต้องการชมปราสาทหินที่สร้างตามคติพุทธศาสนานิกายมหายาน ท่านจะไปได้ที่

1. ปราสาทพนมรุ้ง จังหวัดบุรีรัมย์
2. ปราสาทหินพิมาย จังหวัดนครราชสีมา
3. ปราสาทพระวิหาร จังหวัดศรีสะเกษ
4. ปราสาทตาเมือนธม จังหวัดสุรินทร์

279. การผลิตครกหินควรถูกตั้งอยู่ในแหล่งหินประเภทใด

1. แกรนิต
2. ฟิลไลต์
3. บะซอลต์
4. ควอตไซต์

280. ข้อใดกล่าวถูกต้องเกี่ยวกับพายุหมุนเขตร้อนที่เคลื่อนเข้าสู่ประเทศไทย

1. ไม่เคยก่อตัวในอ่าวไทย
2. หากก่อตัวในอ่าวเบงกอลจะมาถึงประเทศไทย
3. มีแหล่งกำเนิดในทะเลจีนใต้มากกว่าในทะเลอันดามัน
4. ที่ก่อตัวในอ่าวตังเกี๋ยจะส่งผลกระทบต่อสภาพอากาศในประเทศไทยมากที่สุด

281. เหตุใดเขตที่ราบลุ่มในออสเตรเลียส่วนใหญ่จึงนำมาใช้ในการเลี้ยงปศุสัตว์

1. เพราะแห้งแล้งเกินกว่าจะใช้เพาะปลูกได้
2. เพราะเกษตรกรมีความเชี่ยวชาญ
3. เพราะรัฐบาลให้เงินสนับสนุน
4. เพราะดินมีสารอาหารน้อย

282. เขตภูมิลักษณะที่เป็นทิวเขาและที่ราบระหว่างภูเขาหมายถึงภาคใดของประเทศไทย

1. ภาคใต้
2. ภาคเหนือ
3. ภาคตะวันตก
4. ภาคตะวันออก

283. การที่พระมหากษัตริย์ไทยทรงมีฐานะเป็นสมมติเทพ เป็นคติความเชื่อใด

1. พราหมณ์ - ฮินดู
2. พุทธศาสนาแบบเถรวาท
3. พุทธศาสนาแบบมหายาน
4. คติดั้งเดิม

284. ระบบใดที่สะท้อนให้เห็นว่ากำลังคนเป็นทรัพยากรสำคัญในดินแดนไทยสมัยโบราณ

1. ระบบไพร่
2. ระบบขุนนาง
3. ระบบอุปถัมภ์
4. ระบบศักดินา

285. การที่อัครมหาเสนาบดี 2 ตำแหน่ง แบ่งเขตดูแลรับผิดชอบหัวเมืองฝ่ายเหนือและฝ่ายใต้ ทั้งฝ่ายพลเรือนและทหารเกิดขึ้นในสมัยใด

1. สมัยสมเด็จพระบรมไตรโลกนาถ
2. สมัยสมเด็จพระเจ้าปราสาททอง
3. สมัยสมเด็จพระนารายณ์มหาราช
4. สมัยสมเด็จพระเพทราชา

286. ข้อใดกล่าวถูกต้องเกี่ยวกับเส้นวันที่

1. เวลาของเมืองที่ตั้งอยู่ทางทิศเหนือของเส้นวันที่จะช้ากว่าที่กรีนนิช
2. เวลาของเมืองที่ตั้งอยู่ทางทิศตะวันออกของเส้นวันที่จะเร็วกว่าที่กรีนนิช
3. เวลาของเมืองที่ตั้งอยู่ทางทิศใต้ของเส้นวันที่จะช้ากว่าที่กรีนนิช
4. เวลาของเมืองที่ตั้งอยู่ทางทิศตะวันตกของเส้นวันที่จะเร็วกว่าที่กรีนนิช

287. ข้อใดไม่ใช่ประโยชน์ของรีโมตเซนซิง

1. การพยากรณ์อากาศ
2. การสำรวจการใช้ที่ดิน
3. การเตือนภัยจากธรรมชาติ
4. การทำแบบจำลองความสูงเชิงเลข

288. ข้อใดกล่าวถูกต้องเกี่ยวกับไซโครมิเตอร์

1. เป็นเครื่องมือสำหรับวัดความชื้นสัมพัทธ์เท่านั้น
2. ประกอบด้วยเทอร์โมมิเตอร์แบบตุ้มแห้งและตุ้มเปียก
3. เทอร์โมมิเตอร์ตุ้มเปียกมีอุณหภูมิสูงกว่าเทอร์โมมิเตอร์ตุ้มแห้ง
4. อุณหภูมิเทอร์โมมิเตอร์ตุ้มแห้งกับตุ้มเปียกจะเท่ากันเมื่อมีการระเหยของน้ำอย่าง

รวดเร็ว

289. ข้อใดไม่ใช่แผนที่เฉพาะเรื่อง

1. แผนที่ใช้ที่ดิน
2. แผนที่แสดงความลาดชัน
3. แผนที่แสดงชั้นบรรยากาศ
4. **แผนที่ภูมิประเทศ**

290. วิกฤตการณ์ด้านทรัพยากรธรรมชาติที่ส่งผลกระทบต่อภารกิจของมนุษย์มากที่สุด คือข้อใด

1. **การขาดแคลนน้ำจืด**
2. การสูญเสียป่าไม้และสัตว์ป่า
3. การลดลงของปริมาณแร่ธาตุ
4. การชะล้างและการพังทลายของดิน

291. ในฐานะสมาชิกคนหนึ่งของสังคม ท่านจะมีส่วนแก้ไขปัญหาวิกฤตการณ์ด้านทรัพยากรป่าไม้ได้ดีที่สุดอย่างไร

1. ปลุกป่าทดแทน
2. ป้องกันการเกิดไฟป่า
3. ผลักดันให้มีการออกกฎหมายอนุรักษ์ป่าชุมชน
4. **ช่วยกันรณรงค์เพื่อสร้างจิตสำนึกให้แก่ประชาชน**

292. องค์การสหประชาชาติมีความสำคัญด้านสิ่งแวดล้อมอย่างไร

1. ผลักดันให้มีการก่อตั้งองค์การปกป้องสิ่งแวดล้อมในหลายประเทศ
2. **จัดการประชุมเรื่องสิ่งแวดล้อมของมนุษย์ซึ่งนำไปสู่การก่อตั้ง UNEP**
3. เป็นแกนนำในการร่างพิธีสารเกียวโตเพื่อจำกัดการปล่อยก๊าซเรือนกระจก
4. จัดตั้งคณะกรรมการคุณภาพสิ่งแวดล้อมเพื่อค้นคว้าวิจัยการแก้ปัญหาด้านสิ่งแวดล้อม

293. ผู้ที่เข้าไปทำลายโบราณวัตถุในบริเวณปราสาทหินพนมรุ้งจะต้องระวางโทษอย่างไรตามพระราชบัญญัติส่งเสริมและรักษาคุณภาพสิ่งแวดล้อมแห่งชาติ พ.ศ. 2535

1. จำคุกไม่เกิน 2 ปี หรือปรับไม่เกิน 200,000 บาท หรือทั้งจำทั้งปรับ
2. จำคุกไม่เกิน 3 ปี หรือปรับไม่เกิน 300,000 บาท หรือทั้งจำทั้งปรับ
3. จำคุกไม่เกิน 4 ปี หรือปรับไม่เกิน 400,000 บาท หรือทั้งจำทั้งปรับ
4. **จำคุกไม่เกิน 5 ปี หรือปรับไม่เกิน 500,000 บาท หรือทั้งจำทั้งปรับ**

294. ข้อใดไม่ใช่วิธีการจัดการคุณภาพดิน

1. การปรับปรุงบำรุงดิน
2. การปลูกพืชหลากหลายชนิด
3. การป้องกันการพังทลายของดิน
4. การวิเคราะห์ผลกระทบจากการใช้ดิน

295. ข้อใดไม่ใช่การใช้ประโยชน์จากสิ่งแวดล้อมเพื่อสร้างสรรค์วัฒนธรรม

1. สวนผักผลไม้ในแอ่งแม่ยาย
2. พุณัร้อหสันกำแพง
3. ปราสาทหินพิมาย
4. วัดถ้ำกลองเพล

296. ตามแนวการเกษตรทฤษฎีใหม่ พื้นที่ทำการเกษตรต้องมีน้ำใช้ในฤดูแล้งประมาณเท่าใดต่อไร่

1. 1,000 ลูกบาศก์เมตร
2. 2,000 ลูกบาศก์เมตร
3. 3,000 ลูกบาศก์เมตร
4. 4,000 ลูกบาศก์เมตร

297. ดอนหอยหลอดสมุทรสงครามเกี่ยวข้องกับอนุสัญญาฉบับใด

1. CITES
2. Kyoto Protocol
3. UNFCCC
4. Ramsar

298. การปฏิบัติตนเพื่อการอนุรักษ์และพัฒนาคุณภาพสิ่งแวดล้อมทำได้หลายวิธี ยกเว้นข้อใด

1. การหลีกเลี่ยงไม่ใช้สินค้าที่เป็นอันตรายต่อสิ่งแวดล้อม
2. การล้างรถยนต์ด้วยการตักน้ำใส่ถังแทนการใช้น้ำจากสายยาง
3. การเลือกใช้เครื่องใช้ไฟฟ้าให้เหมาะสมกับฐานะของครอบครัว
4. การใช้หนังสือพิมพ์ห่อเศษอาหารก่อนนำไปทิ้งในถังขยะสีเขียว

299. Agenda 21 เป็นแผนแม่บทของโลกสำหรับการดำเนินงานด้านใด

1. การพัฒนาที่ยั่งยืน
2. การอนุรักษ์สิ่งแวดล้อม
3. การประหยัดพลังงาน
4. การจัดการทรัพยากรธรรมชาติ

300. การพัฒนาที่จะก่อให้เกิดผลที่ยั่งยืนยาวนาน หมายถึงข้อใด

1. การพัฒนาที่ไม่ก่อให้เกิดค่านิยมที่ฟุ่มเฟือย
2. การพัฒนาที่ลดปริมาณการใช้ทรัพยากรธรรมชาติ
3. การพัฒนาที่มีการฟื้นฟูสภาพแวดล้อมอย่างต่อเนื่อง
4. การพัฒนาที่ไม่ก่อให้เกิดความเสื่อมโทรมแก่คุณภาพสิ่งแวดล้อม

301. องค์กรเอกชนใหญ่ที่สุดที่เฝ้าระวังและดูแลทรัพยากรธรรมชาติทั่วโลก คือองค์กรใด

1. Greenpeace International
2. **World Wide Fund for Nature**
3. Global Environmental Facility
4. United Nations Environment Programme

302. คำกล่าวที่ว่า พระพุทธศาสนา เป็นศูนย์รวมจิตใจของพุทธศาสนิกชน มีความหมายอย่างไร

1. พระมหากษัตริย์ไทยทุกพระองค์นับถือพระพุทธศาสนา
2. คนไทยส่วนใหญ่ นับถือพระพุทธศาสนา
3. ชีวิตคนไทยผูกพันกับพระพุทธศาสนาตั้งแต่เกิดจนตาย
4. **ถูกหมดทั้ง 3 ข้อ**

303. พระพุทธศาสนากำเนิดขึ้นในประเทศใด

1. อินเดีย
2. **อินเดีย**
3. เวียดนาม
4. ไทย



PDF Editor

304. เจ้าชายสิทธัตถะ สัมพันธ์กับข้อใด ในฐานะผู้ให้กำเนิด

1. พระเจ้าสุทโธทนะ - พระนางสิริมหามายา
2. พระเจ้าพิมพิสาร - พระนางโกศลเทวี
3. พระเจ้าอโศกมหาราช - พระนางหัตถา
4. พระเจ้ารามมา - พระนางปิยา

305. มूलเหตุในข้อใดที่ทำให้เจ้าชายสิทธัตถะ ตัดสินพระทัยออกผนวช

1. รู้คำทำนายของพราหมณ์ 108 คน
2. เบื่อหน่วยชีวิตในพระราชวัง
3. ทอดพระเนตรเห็นเทวทูต 4
4. **ปรารถนาที่จะหาทางช่วยให้มวลมนุษย์ทุกคนพ้นทุกข์**

306. หลังจากออกผนวชแล้วทรงศึกษาหาทางพ้นทุกข์อย่างไรจึงจะสำเร็จ

1. บำเพ็ญเพียรทางจิตแน่นแนวจนรู้แจ้ง
2. ศึกษาอยู่ในสำนักของดาบส
3. **บำเพ็ญทุกรกิริยา (ทรมานร่างกาย)**
4. ศึกษาจากอาจารย์สำนักต่างๆ

307. ธรรมอันประเสริฐที่พระพุทธเจ้าตรัสรู้คือข้อใด

1. อกุศลมูล
2. **อริยสัจ 4**
3. อริยมรรค
4. อิทธิบาท 4

308. ความสำคัญของงานทุกชนิดคือผลของหลักธรรมในข้อใด

1. ความพอใจ
2. **ความอดทน**
3. ความสามัคคี
4. ความเกรงกลัว

309. ข้อใดคือความหมายของ ปณฺหา โลกสมิ ปชฺโชโต

1. ปัญญาประเสริฐกว่าทรัพย์
2. คนล่วงทุกข์ได้เพราะความเพียร
3. **ปัญญาเป็นแสงสว่างในโลก**
4. บัณฑิตยอมฝืนตน

310. ทุกศาสนามีคัมภีร์หรือตำราทางศาสนาเป็นหลักในการสั่งสอน คัมภีร์ทาง พระพุทธศาสนา เรียกว่า

1. อัลกุรอาน
2. ไบเบิล
3. พระไตรปิฎก
4. พระอภิธรรม

311. ในเรื่องนารัจจ์พระไตรปิฎกกล่าวถึงบุคคลที่เปรียบเหมือนอสรพิษร้าย 4 ตัว ซึ่งสรุปได้ว่าเป็นเรื่องของอะไร

1. ความโกรธเป็นพิษที่ทำร้ายตนเองและผู้อื่น
2. ความโกรธเป็นตะขบที่ทำร้ายตนเองและผู้อื่น
3. ความโกรธเป็นแมงป่องที่ทำร้ายตนเองและผู้อื่น
4. ความโกรธเป็นจระเข้ที่ทำร้ายตนเองและผู้อื่น

312. พระโศภโกปิวิสะเป็นพุทธสาวกที่พระพุทธเจ้าทรงสอนโดยใช้หลักกรรมใดสอน จนบรรลุเป็นพระอรหันต์

1. ความเพียร
2. ความพอดี
3. ความยินดี
4. ความเข้มแข็ง

313. ซาดกเรื่องจุฬเสฏฐิ (จุลกเศรษฐีซาดก) เป็นตัวอย่างที่ดีของการนำหลักกรรมใน ข้อใดมาใช้

1. ผู้ขยันหมั่นเพียรจะร่ำรวย
2. มีความเพียรจะมีความสุข
3. ผู้มีปัญญาย่อมชนะอุปสรรค
4. ผู้มีปัญญาย่อมหาทรัพย์ได้ง่าย

314. เจ้าชายสิทธัตถะทรงอุทานว่า ราชูล์ ซาดต์ เมื่อพระโอรสประสูติมีความหมาย ตรงกับข้อใด

1. ทุกข์เกิดแล้ว
2. บ่วงเกิดแล้ว
3. ความสุขเกิดแล้ว
4. ดีใจจึ่งที่เป็นพระโอรส

315. เจ้าชายสิทโธตถะทรงใช้เวลาในการบำเพ็ญเพียรเป็นเวลานานเท่าใดจึงตรัสรู้

1. 4 ปี
2. 5 ปี
3. **6 ปี**
4. 10 ปี

316. หลังตรัสรู้แล้วทรงเสด็จประกาศธรรมแก่ใคร

1. พระราชบิดา
2. โปรตชฎิล
3. พระเจ้าพิมพิสาร
4. **ปัญจวัคคีย์ทั้ง 5**

317. เหตุผลในข้อใดที่บ่งบอกความสำคัญของพระพุทธศาสนาต่อวิถีชีวิตของคนไทย

1. **กิจกรรมตั้งแต่เกิดจนตายล้วนเกี่ยวข้องกับพระพุทธศาสนา**
2. วัดเป็นศูนย์กลางการศึกษาของสังคมไทย
3. วัดเป็นศูนย์รวมจิตใจของคนไทย
4. วัดเป็นแหล่งเรียนรู้ที่สำคัญ

318. หลักฐานใดที่ยืนยันว่าพระพุทธศาสนาเป็นศาสนาประจำชาติไทย

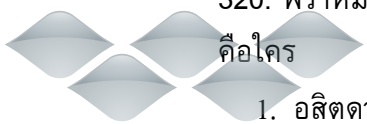
1. กำหนดไว้ในรัฐธรรมนูญ
2. มีวัดอยู่มากมายในประเทศไทย
3. **คนไทยกว่าร้อยละ 90 เป็นพุทธศาสนิกชน**
4. วันหยุดราชการล้วนเป็นวันสำคัญทางพระพุทธศาสนา

319. หลักธรรมใดที่พระมหากษัตริย์ไทยใช้เป็นหลักในการปกครอง

1. รัฐธรรมนูญ
2. พระราชบัญญัติ
3. พระราชกฤษฎีกา
4. **ทศพิธราชธรรม**

320. พราหมณ์หนุ่มที่ทำนายพระกুমารสิทโธตถะว่าจะได้เป็นศาสดาเอกของโลก เพียงอย่างเดียวคือใคร

1. อสิตดาบส
2. **โกณฑัญญะพราหมณ์**
3. วิศวามิตร
4. อาหารดาบส กาลามโคตร



321. พระเจ้าสุทโธทนะทรงมีพระประสงค์ให้เจ้าชายสิทธัตถะครองราชสมบัติ มากกว่าออกผนวชทรงทำอย่างไร

1. สร้างปราสาท 3 หลัง เพื่อให้ประทับในแต่ฤดู
2. ให้อภิเษกสมรสกับพระนางพิมพา
3. ให้เฟลิดเฟลินกับเหล่าสนมนางกำนัลเล่นระบำรำฟ้อน
4. ถูกทุกข้อ

322. ข้อใดมีความหมายว่าเสรีภาพ

1. ทำสิ่งใดสิ่งหนึ่งตามสิทธิที่มีอยู่โดยไม่ละเมิดสิทธิของผู้อื่น
2. ทุกคนจะทำอะไรก็ได้ตามใจชอบ
3. เราจะเปิดวิทยุโทรทัศน์เสียงดังเท่าไรก็ได้
4. เราจะขับรถยนต์โดยไม่มีใบขับขี่ก็ได้

323. คำโกรธที่แม่ไม่ให้สตาจไปเล่นเกมจึงด่าแม่ด้วยคำหยาบคาย คำทำผิดในข้อใด

1. บรรทัดฐาน
2. วิถีชาวบ้าน
3. จารีต
4. กฎหมาย

324. การปฏิบัติที่มีศีลธรรมไปเกี่ยวข้องคือข้อใด

1. จารีต
2. วิถีชาวบ้าน
3. บรรทัดฐาน
4. กฎหมาย

325. ข้อใดกล่าวถูกต้อง

1. บรรทัดฐาน คือกฎหมาย
2. จารีต คือประเพณี
3. กฎหมาย คือบทบัญญัติที่ใช้บริหารบ้านเมือง
4. วิถีชาวบ้าน คือความเชื่อทางศาสนา

326. การรดน้ำขอพรผู้ใหญ่สัมพันธ์กับข้อใด

1. วิถีชาวบ้าน
2. บรรทัดฐาน
3. กฎหมาย
4. วัฒนธรรม

327. สุริย์พรุ่งผ้าขึ้นตีนจกงดงาม เป็นที่ชื่นชอบของผู้พบเห็น เขาแต่งกายตาม วัฒนธรรมภาคใด

1. ภาคใต้
2. ภาคเหนือ
3. ภาคกลาง
4. ภาคอีสาน

328. การปฏิบัติตนโดยยึดหลักการของประชาธิปไตยได้แก่ข้อใด

1. คารวธรรม
2. สามัคคี
3. ปัญญาธรรม
4. ถูกทุกข้อ

329. หลักการของประชาธิปไตยในข้อที่ 1 เป็นหลักธรรมคำสอนของศาสนาใด

1. ศาสนาคริสต์
2. ศาสนาพุทธ
3. ศาสนาอิสลาม
4. ทุกศาสนา

330. ธีระชัยรถยนต์มานานถึง 20 ปี แต่ไม่เคยประสบอุบัติเหตุหรือถูกตำรวจว่ากล่าว ตักเตือน แสดงว่าเขาปฏิบัติตนตามหลักประชาธิปไตยข้อใด

1. เคารพกฎหมายจราจร
2. ระมัดระวังตัวตลอดเวลา
3. แก้ไขปรับปรุงการขับรถ
4. ตั้งสติก่อนขับรถ

331. ข้อใดเป็นลักษณะของครอบครัวประชาธิปไตยที่แท้จริง

1. รับฟังเหตุผลซึ่งกันและกัน
2. ไม่ละเมิดสิทธิของคนในครอบครัว
3. รับผิดชอบหน้าที่ของตน
4. ทุกข้อถูกต้อง

332. สถานภาพของศักดิ์คือเป็นคนไทย เป็นสถานภาพประเภทใด

1. สถานภาพที่เป็นตำแหน่งของบุคคลในสังคม
2. สถานภาพที่ได้มาโดยกำเนิด
3. สถานภาพที่ได้มาด้วยความสามารถ
4. สถานภาพที่ได้มาโดยบทบาทหน้าที่

333. ข้อใดเป็นเครื่องมือขัดเกลาทางสังคม

1. สถานภาพ
2. เสรีภาพ
3. **ค่านิยม**
4. ความรับผิดชอบ

334. กฎหมายกับชีวิตประจำวันสัมพันธ์กับข้อใด

1. ทำบัตรประจำตัวประชาชนเมื่ออายุครบ 15 ปี
2. เข้าเรียนหนังสือตามที่กฎหมายกำหนด
3. ปฏิบัติตามกฎหมายจราจร
4. **ถูกทุกข้อ**

335. พระราชบัญญัติการศึกษาแห่งชาติมีลักษณะใดบ้าง

1. เด็กอายุ 9 ปี เข้าเรียนในโรงเรียน
2. ต้องเรียนในโรงเรียน 15 ปี
3. **เป็นการจัดการศึกษาตลอดชีวิตสำหรับประชาชน**
4. มุ่งเน้นการศึกษานอกระบบ

336. ถ้านักเรียนมีความจำเป็นในการขี่รถจักรยานไปโรงเรียน ควรปฏิบัติอย่างไร

1. ปฏิบัติตามกฎหมายจราจรทั่วไป
2. **ศึกษาและปฏิบัติตามกฎหมายจราจรทางบก**
3. ควรเกาะหรือพ่วงรถอื่นที่กำลังแล่นอยู่
4. ขับขึ้นบนท้องถนนเหมือนรถยนต์ทั่วๆ ไป

337. ข้อใดปฏิบัติตามกฎหมายจราจรของคนเดินเท้า

1. **ข้ามถนนตรงทางม้าลาย**
2. ข้ามถนนขณะที่สัญญาณไฟเขียว
3. วิ่งข้ามถนนช่วงที่รถว่าง
4. วิ่งข้ามถนนขณะสัญญาณไฟสีเหลือง

338. ทุกข้อเป็นข้อสัตว์ป่าสงวน ยกเว้นข้อใด

1. แรด
2. กระซู่
3. **นกเจ้าฟ้าหญิงสิรินธร**
4. เสือ

339. ในหมวดที่ 3 รัฐธรรมนูญบัญญัติไว้ในเรื่องใด

1. บททั่วไป
2. สิทธิและเสรีภาพของชนชาวไทย
3. หน้าที่ของประชาชนชาวไทย
4. การปกครองส่วนท้องถิ่น

340. สิทธิในการรับบริการทางสาธารณสุขที่ได้มาตรฐานจากสถานบริการของรัฐโดยไม่เสียค่าใช้จ่าย สิทธินี้ใครเป็นผู้ได้รับ

1. ประชาชนทุกคน
2. ผู้มีฐานะปานกลาง
3. ผู้มีฐานะยากไร้
4. เด็กและเยาวชน

341. ข้อใดเป็นหน้าที่ของประชาชนชาวไทยที่ระบุไว้เฉพาะเกี่ยวกับการศึกษา

1. หน้าที่ปฏิบัติตามกฎหมาย
2. หน้าที่รับการศึกษาอบรมตามกฎหมาย
3. หน้าที่อนุรักษ์ทรัพยากรธรรมชาติและสิ่งแวดล้อม
4. หน้าที่ปกป้องและสืบสานศิลปวัฒนธรรมของชาติ

342. เรื่องเกี่ยวกับมนุษย์ เป็นการนำเอาทรัพยากรธรรมชาติมาผลิตสินค้าและบริการ เพื่อสนองความต้องการของมนุษย์ เป็นคำอธิบายในวิชาใด

1. ประวัติศาสตร์
2. ภูมิศาสตร์
3. เศรษฐศาสตร์
4. พระพุทธศาสนา

343. เพราะเหตุใดเราจึงต้องเรียนวิชาเศรษฐศาสตร์

1. เพราะเศรษฐศาสตร์เป็นเรื่องราวที่เกี่ยวข้องกับชีวิตเรา
2. เพราะต้องการอนุรักษ์ทรัพยากร
3. เพราะสิทธิและหน้าที่ของพลเมืองดี
4. เพราะเป็นกฎหมายเกี่ยวกับชีวิตประจำวัน

344. ในชีวิตประจำวันนักเรียนต้องบริโภคสินค้าและบริการอะไรบ้างที่เรียกว่าปัจจัย 4

1. แปรงสีฟัน ยาสีฟัน
2. จาน ชาม ช้อนส้อม
3. อาหารแห้ง เช่น ขนมกรอบต่างๆ
4. อาหาร เสื้อผ้า บ้าน และยารักษาโรค

345. เมื่อมนุษย์จำเป็นต้องบริโภคปัจจัย 4 แต่ทุกคนไม่สามารถทำเองได้ จึงเป็นมูลเหตุ ที่ทำให้มีการทำสิ่งใด

1. การบริโภค
2. การผลิต
3. การต้องการความสะดวก
4. การขายสินค้า

346. ข้อใดเป็นความหมายของการผลิต

1. การแปรสภาพทรัพยากรให้เปลี่ยนเป็นสินค้าและบริการ
2. วิธีการจำหน่ายผลิตภัณฑ์
3. การโฆษณา
4. การประกอบการ

347. ข้อใดเป็นตัวอย่างของการผลิต

1. พิมพ์ซื้อแปรงสีฟัน
2. พลอยใช้สบู์เหลวจากขมิ้นชัน
3. แพรวชอบใช้โทรศัพท์มือถือ
4. เพชรถักกระเป๋าโดยใช้ผักตบชวา

348. ข้อใดไม่ใช่ปัจจัยในการผลิต

1. ทรัพยากรธรรมชาติ
2. ทุน
3. แรงงาน
4. การบริโภค

349. ใครเป็นผู้บริโภคที่ดี

1. แพร่คำนึงถึงความจำเป็นในการซื้อสินค้า
2. ปองอยากได้รองเท้ารุ่นใหม่ราคาแพง
3. อ้อมซื้อโทรศัพท์มือถือใหม่ทั้งที่มีอยู่แล้ว
4. อุ่มซื้อเสื้อผ้าชุดใหม่ตามแฟชั่นล่าสุด

350. ข้อใดจัดว่าเป็นแรงงาน

1. การบริหารจัดการ
2. แรงสมองในการประดิษฐ์คิดค้น
3. การดำเนินการผลิต
4. การลงทุน

351. ข้อใดเป็นแรงจูงใจในการใช้ทรัพยากรมากที่สุด

1. การผลิตสินค้าจำนวนมาก
2. การผลิตสินค้าส่งออกไปขายต่างประเทศ
3. การเพิ่มของประชากรอย่างรวดเร็ว
4. การใช้แรงงานราคาถูก

352. ข้อใดกล่าวไม่ถูกต้องตามความเป็นจริง

1. มนุษย์เป็นสัตว์สังคมที่ชอบอยู่กันเป็นกลุ่ม
2. การอยู่ร่วมกันของมนุษย์ก่อให้เกิดกฎระเบียบ
3. มนุษย์ทำให้เกิดสังคม สังคมทำให้เกิดมนุษย์
4. เมื่อมนุษย์อยู่ร่วมกันความประพฤติจะเปลี่ยนไป

353. สัตว์ในข้อใดที่เลี้ยงลูกด้วยนมเหมือนมนุษย์

1. ปลาวาฬ
2. ปลาตาว
3. ผึ้ง
4. แตน

354. ลักษณะเด่นของสัตว์สังคมคือข้อใด

1. สามารถแบ่งหน้าที่ต่าง ๆ ได้ดี
2. สามารถปรับตัวเข้ากับสภาพแวดล้อมต่าง ๆ ได้ดี
3. สามารถอยู่ร่วมกันและพึ่งพากันได้เป็นกลุ่มได้
4. สามารถหาอาหารได้ดี

355. ข้อใดกล่าวถึงความสัมพันธ์ระหว่างมนุษย์ สังคม วัฒนธรรม ได้ไม่ถูกต้อง

1. มนุษย์เป็นผู้สร้างสังคม วัฒนธรรม
2. สังคม วัฒนธรรม สร้างมนุษย์ให้เป็นคนที่มีบุคลิก
3. มนุษย์เป็นผู้เปลี่ยนแปลงสังคม วัฒนธรรม
4. มนุษย์ควรแยกตัวออกจากสังคม วัฒนธรรม

356. เมื่อใดที่แสดงว่าสังคมเริ่มเกิดขึ้น

1. เริ่มมีหัวหน้าปกครอง
2. รวมกันเป็นหมู่เป็นพวก
3. เริ่มมีการบันทึกประวัติศาสตร์
4. เริ่มมีการใช้ภาษาพูด

357. ปัจจัยข้อใดที่ไม่เกี่ยวข้องกับการอยู่รวมกันเป็นกลุ่มของมนุษย์

1. ต้องการอาหาร
2. ต้องการเป็นผู้นำ
3. ต้องการป้องกันภัย
4. ต้องการการสืบพันธุ์

358. มนุษย์มีลักษณะต่างจากสัตว์ ข้อใดถูกต้องที่สุด

1. 1 มีมันสมองที่ใหญ่กว่า
2. รู้จักการใช้สัญลักษณ์
3. ลูกหลายมีลักษณะคล้ายพ่อแม่
4. ปรับตัวเข้ากับสิ่งแวดล้อมได้ดี

359. ลักษณะพิเศษของมนุษย์ที่แตกต่างจากสัตว์คือข้อใด

1. มีวัฒนธรรม
2. มีสัญชาตญาณในการหาอาหาร
3. มีมันสมองที่ฉลาด
4. มีการปรับตัวได้ดี

360. ลักษณะที่มนุษย์คล้ายคลึงกับสัตว์มากที่สุดคือข้อใด

1. มีสติปัญญา
2. มีลักษณะคล้ายกับผู้ให้กำเนิด
3. มีวัฒนธรรม
4. มีร่างกายตั้งตรงกับพื้นโลก

361. ประเทศใดให้กำเนิดระบบการปกครองแบบกึ่งประธานาธิบดีกึ่งรัฐสภา

1. อังกฤษ
2. ฝรั่งเศส
3. เยอรมนี
4. อิตาลี

wondershare™

PDF Editor

362. หากผู้นำประเทศประสงค์จัดทำอนุสรณ์แห่งชัยชนะในการรบโดยเลียนแบบสมัยโบราณเขาจะสั่งการให้ทำสิ่งใด

1. สร้างประตูดุชย
2. ประพันธ์เพลงสดุดี
3. ประพันธ์มหากาพย์
4. สลักรูปแห่งชัยชนะ

363. ถ้าจำนวนประชากรของประเทศไทยเพิ่มมากขึ้นเรื่อย ๆ จะเป็นผลดีต่อเศรษฐกิจได้ใ
กรณีใด

1. การนำเข้าสินค้าใหม่ๆ จากต่างประเทศจะมากขึ้น
2. เศรษฐกิจของไทยจะมีเสถียรภาพและมั่นคง
3. การส่งออกของไทยจะเพิ่มมากขึ้น
4. ตลาดสินค้าบางชนิดในประเทศจะขยายตัวได้

364. การที่ค่าของเงินเยนแข็งตัวขึ้นกว่าเดิม มีผลต่ออะไร

1. การชำระเงินกู้ของไทยต่อประเทศญี่ปุ่นเพิ่มขึ้น
2. ดุลการค้าของประเทศไทยจะเกินดุลเพิ่มขึ้น
3. ราคาสินค้าที่นำเข้าจากประเทศญี่ปุ่นจะแพงขึ้น
4. ดุลการชำระเงินของไทยจะเกินดุล

365. ในรัชสมัยของพระบาทสมเด็จพระพุทธเลิศหล้านภาลัยเป็นยุคแห่งการกล่าวขวัญในเรื่อง
ใด

1. ยุคแห่งการพระศาสนารุ่งเรือง
2. ยุคแห่งนักรบผู้แกร่งกล้า
3. ยุคแห่งศิลปกรรม
4. ยุคแห่งการปฏิรูปสังคม

366. ข้อใดเป็นปัจจัยสำคัญที่สนับสนุนการเป็นโลกาภิวัตน์

1. การพัฒนาทางเศรษฐกิจ
2. ความเป็นนานาชาติของการศึกษา
3. การมั่นคงทางการเมือง
4. การพัฒนาทางวิชาการ

367. ถ้าป่าไม้ถูกทำลายมากจะทำให้เกิดภัยธรรมชาติชนิดใดตามมา

1. อุทกภัย
2. วัตภัย
3. อัคคีภัย
4. โจรภัย

368. นิกายซุนนีย์ (ซุนนะห์) กับนิกายชีอะฮ์ (ชีอิต์) ของศาสนาอิสลาม แตกต่างกันในเรื่องใด

1. การจาริกแสวงบุญ
2. การปฏิบัติละหมาดต่างกัน
3. การให้ความสำคัญแก่คัมภีร์อัลกุรอาน
4. การกำหนดตำแหน่งผู้นำต่อจากท่านศาสดา

369. ข้อใดคือประเทศในภูมิภาคเอเชียตะวันออกเฉียงใต้ทั้งหมด

1. เลบานอน อิหร่าน ปากีสถาน
2. จอร์แดน ตุรกี โอมาน
3. กาตาร์ เนปาล จอร์แดน
4. ตุรกี บาห์เรน ปากีสถาน

370. ปัจจุบันผลิตผลจากการเกษตรตามภูมิศาสตร์ข้อใด ที่ทำรายได้แก่ประเทศสูงสุด

1. ข้าว พืชไร่ และผลไม้ของภาคเหนือ
2. ข้าว มันสำปะหลัง และปศุสัตว์ของภาคตะวันออกเฉียงเหนือ
3. ข้าว พืชไร่ และผลไม้ ของภาคกลางและภาคตะวันออก
4. ยางพารา กาแฟ และมะพร้าวของภาคใต้

371. วิชาเศรษฐศาสตร์มีความสำคัญและเป็นประโยชน์ต่อหน่วยงานรัฐบาลอย่างไร

1. วิเคราะห์ความต้องการของผู้บริโภคเพื่อกำหนดการผลิตในปริมาณที่เหมาะสม
2. วิเคราะห์ปัญหาทางเศรษฐกิจเพื่อใช้กำหนดนโยบายทางเศรษฐกิจที่เหมาะสม
3. วิเคราะห์ปัญหาทางเศรษฐกิจให้ประชาชนทราบเพื่อให้ประชาชนร่วมมือต่อส่วนรวม
4. วิเคราะห์ปัญหาเศรษฐกิจเพื่อกำหนดแนวทางการจัดบริการสาธารณสุขปโภคที่เหมาะสม

372. ข้อใดต่อไปนี้เป็นชื่อเมืองประเทศราชในสมัยพ่อขุนรามคำแหง

1. หงสาวดี หลวงพระบาง และนครศรีธรรมราช
2. ศรีสัชนาลัย สองแคว และสระหลวง
3. นครธม โพธิสัตว์ และจำปาศักดิ์
4. พะเยา และเชียงใหม่

373. "ขุนเวียง" เป็นผู้กำกับดูแลรับผิดชอบในหน้าที่ต่อไปนี้ ยกเว้นข้อใด

1. ปกครองท้องถิ่น
2. ดูแลความทุกข์สุขของราษฎร
3. จัดระเบียบเกี่ยวกับราชสำนัก
4. ปราบปรามโจรผู้ร้ายลงโทษผู้กระทำผิด

374. การทำผ้าไหมแถบภาคอีสานควรจัดเข้าอุตสาหกรรมประเภทใด

1. ครั้วเรือน
2. ขนาดย่อม
3. ขนาดกลาง
4. ขนาดใหญ่

375. สาเหตุใดที่เป็นชนวนก่อให้เกิดสงครามโลกครั้งที่ 1 มากที่สุด

1. การแข่งขันกันล่าอาณานิคมของชาติมหาอำนาจ
2. ความขัดแย้งระหว่างประเทศที่ปกครองในระบอบประชาธิปไตยกับระบอบราชาธิปไตย
3. ความขัดแย้งของคนในจักรวรรดิเดียวกันซึ่งมีเชื้อชาติแตกต่างกัน
4. ความขัดแย้งของคนในจักรวรรดิเดียวกันซึ่งนับถือศาสนาต่างกัน

376. ภาคใดของประเทศไทยที่มีอุณหภูมิไม่แตกต่างกันมากนักระหว่างฤดูร้อนและฤดูหนาว

1. ภาคใต้
2. ภาคกลาง
3. ภาคเหนือ
4. ภาคตะวันออกเฉียงเหนือ

377. ปัจจัยสำคัญที่ทำให้อยุธยา มีความเจริญรุ่งเรืองด้านศิลปวัฒนธรรมมากน้อยเพียงใดนั้นขึ้นอยู่กับข้อใด

1. พุทธศาสนา
2. การเกษตรกรรม
3. ความเจริญทางเศรษฐกิจ
4. การสงบเรียบร้อยของสังคม

 Undershare™

PDF Editor

378. วิชาเศรษฐศาสตร์ไม่มีความจำเป็นในสังคมลักษณะใด

1. ในสังคมที่มีทรัพยากรเหลือเฟือ ทุกสิ่งทุกอย่างไม่มีราคา
2. ในสังคมที่มีการปกครองโดยผู้เผด็จการเพราะเขาจะไม่ฟังนักเศรษฐศาสตร์
3. ในสังคมที่เป็นระบบสังคมนิยมเพราะทุกอย่างถูกกำหนดมาจากรัฐบาลส่วนกลาง
4. ในสังคมที่มีความต้องการอย่างไม่มีขีดจำกัดเพราะเราจะไม่สามารถจัดสรรทรัพยากรได้อย่างทั่วถึง

379. แหล่งที่มีอิทธิพลมากที่สุดในการปลูกฝังค่านิยมใหม่ ๆ แก่เยาวชนในสังคมสมัยใหม่ได้แก่ข้อใด

1. ครอบครัวและวัด
2. วัดและโรงเรียน
3. กลุ่มเพื่อนและสื่อมวลชน
4. ครอบครัวและสื่อมวลชน

380. ระบบเศรษฐกิจแบบทุนนิยมดีกว่าระบบเศรษฐกิจแบบสังคมนิยมในเรื่องใด

1. ความเป็นธรรมในสังคม
2. การกระจายรายได้
3. การใช้ทรัพยากร
4. แรงจูงใจและความคิดริเริ่ม

381. ประเทศไทยใช้ระบอบประชาธิปไตยแบบใดในปัจจุบัน

1. ประชาธิปไตยโดยตรง
2. ประชาธิปไตยโดยอ้อม
3. ประชาธิปไตยแบบครึ่งใบ
4. ประชาธิปไตยแบบเต็มใบ

382. ข้อใดเป็นศิลปะทัศนศิลป์สำคัญของศาสนาคริสต์นิกายโปรเตสแตนต์

1. ศิลล้างบาปกับศีลมหาสนิท
2. ศิลล้างบาปกับศีลกำลัง
3. ศิลล้างบาปกับศีลสารภาพบาป
4. ศิลล้างบาปกับศีลเจิมครั้งสุดท้าย

383. การปลงศพนาคหมายถึงการกระทำในข้อใด

1. โคนผนาค
2. กั้นผนาค
3. เล็มผนาค
4. กลั่นผนาค

384. ผู้ที่นำเอาอารยธรรมแบบตะวันตกเข้ามาเผยแพร่ในประเทศไทยเป็นครั้งแรกสมัยรัชกาลที่ 3 คือพวกใด

1. พ่อค้าชาวอังกฤษ
2. บาทหลวงชาวโปรตุเกส
3. คณะมิชชันนารีอเมริกัน
4. คณะมิชชันนารีฮอลันดา

385. แร่ธาตุที่พบมากในทะเลทรายโกบี คือแร่อะไร

1. ทองคำ น้ำมัน
2. เหล็ก ถ่านหิน
3. บอแรกซ์ ดีบุก
4. พรอท กำมะถัน

386. ข้อใดคือวัตถุประสงค์ในการจัดเก็บภาษีค่านาที่เรียกว่า "หางข้าว"

1. ไว้เป็นเสบียงในยามศึกสงคราม
2. ไว้เป็นพันธุ์ในงานพิธีวันพีชมงคล
3. ไว้แจกจ่ายแก่คนยากจนในวันสำคัญ
4. ไว้เป็นสินค้าออกไปขายยังต่างประเทศ

387. แร่ดีบุกของประเทศไทยส่วนใหญ่ได้จากการทำเหมืองแร่แบบใด

1. เหมืองฉีด
2. โรงงานทอผ้าฝ้าย
3. โรงงานปูนซีเมนต์
4. โรงงานทอกระสอบ

388. การผูกขาดทางเศรษฐกิจ จะก่อให้เกิดผลเสียด้านใดมากที่สุด

1. มีผู้ประกอบการเพียงไม่กี่ราย
2. ต้นทุนการผลิตสูงขึ้น
3. ค่าครองชีพสูงขึ้น
4. ลดอำนาจการต่อรองของผู้ซื้อ

389. ข้อความใดไม่ถูกต้อง

1. อัตราส่วนเพศของประชากรไทยไม่สมดุล
2. ประชากรเพิ่มขึ้นอย่างรวดเร็วมีผลต่อการขาดแคลนครูและที่เรียน
3. คนที่อยู่เป็นโสดจะมีอายุสั้นกว่าคนที่สมรสแล้วและอยู่ร่วมกัน
4. อัตราการตายลดต่ำลงเพราะผลจากความเจริญทางการแพทย์และสาธารณสุข

390. ทำไมภาคตะวันตกจึงมีเขื่อนเก็บกักน้ำขนาดใหญ่อยู่มากกว่าภาคอื่น ๆ

1. เพื่อแก้ไขการขาดแคลนน้ำ
2. เพื่อป้องกันอุทกภัย
3. มีแหล่งน้ำตกขนาดใหญ่มาก
4. มีองค์ประกอบธรรมชาติเหมาะสม

391. ข้อใดคือคำตอบเกี่ยวกับบอริยะสัจ4 ที่ถูกต้อง

1. รู้ทุกข์ ละสมุทัย ทำนิโรธให้แจ้ง ทำมรรคให้เกิดมี
2. ละทุกข์ รู้สมุทัย ทำนิโรธให้เกิดมี ทำมรรคให้แจ้ง
3. ละทุกข์สมุทัย ทำนิโรธให้แจ้ง ทำมรรคให้เกิดมี
4. ละทุกข์สมุทัย ทำนิโรธกับมรรคให้แจ้ง

392. การแบ่งแยกนิกายต่าง ๆ ในศาสนาอิสลาม เกิดจากสาเหตุข้อใดเป็นสำคัญ

1. ความเชื่อว่าเป็นพระประสงค์ของพระเจ้า
2. ความคิดแตกต่างกันทางการเมืองเกี่ยวกับผู้นำในศาสนา
3. ความแตกต่างกันทางด้านสังคม เชื้อชาติ และวัฒนธรรม
4. ความแตกต่างกันทางภูมิประเทศ ภาษาและสิ่งแวดล้อม

393. นิพพานสุข คืออย่างไร

1. ความสุขที่เกิดจากการละกิเลสได้
2. ความสุขที่เกิดจากการควบคุมกิเลสได้
3. ความสุขที่เกิดจากการตายแล้วไม่เกิด
4. ความสุขที่เกิดจากการที่สนองกิเลสได้

394. ข้อใดคือความหมายของคำว่า “วันมหาปวารณา”

1. วันที่พระสงฆ์ให้โอกาสครั้งสำคัญในการว่ากล่าวกันได้
2. วันที่พระสงฆ์ให้โอกาสครั้งสำคัญในการขอพรและให้พรกัน
3. วันที่พระสงฆ์ให้โอกาสครั้งสำคัญให้ฆราวาสปวารณาตนรับใช้พระสงฆ์
4. วันที่ฆราวาสเปิดโอกาสครั้งสำคัญให้พระสงฆ์กล่าวสอนตน

395. วันสำคัญทางพระพุทธศาสนาที่องค์การสหประชาชาติประกาศให้เป็นวันสันติภาพโลก คือวันใด

1. วันอาสาฬหบูชา
2. วันวิสาขบูชา
3. วันมาฆบูชา
4. วันอัฐมีบูชา



PDF Editor

396. ศาสนาใดสอนว่า “ถ้าเขาตบแก้มขวา จงเอียงแก้มซ้ายให้เขาตบ”

1. ศาสนาฮินดู
2. ศาสนาอิสลาม
3. **ศาสนาคริสต์**
4. พระพุทธศาสนา

397. หลักธรรมที่เน้นการละชั่ว ทำดี และชำระจิตใจให้บริสุทธิ์ ตรงกับข้อใดมากที่สุด

1. อริยสัจ 4
2. อิทธิบาท 4
3. กัลยาณมิตตธรรม
4. **โอวาทปาฏิโมกข์**

398. ศาสนาใดสอนให้มองเยาวชนว่าเป็นผ้าที่ขาวบริสุทธิ์

1. **พระพุทธศาสนา**
2. ศาสนาคริสต์
3. ศาสนาอิสลาม
4. ศาสนาฮินดู

399. ศาสนาใดที่ชื่อเรียกศาสนาแปลว่าสันติ

1. ศาสนาฮินดู
2. พระพุทธศาสนา
3. ศาสนาคริสต์
4. **ศาสนาอิสลาม**

400. ข้อใดคือเหตุผลที่พระพุทธเจ้าตรัสเรียกพ่อแม่ว่าเป็นพระพรหมของลูก

1. **เป็นผู้ให้กำเนิด**
2. เป็นผู้เลี้ยงดูลูก
3. เป็นผู้พร่ำสอนลูก
4. เป็นผู้พิทักษ์รักษาลูก

401. ข้อใดเป็นธรรมปฏิสังขารในการต้อนรับแขก

1. การหาน้ำให้ดื่ม
2. การยกเก้าอี้ให้นั่ง
3. การหาของมาเลี้ยง
4. **การยกมือไหว้ทักทาย**

 Wondershare™

PDF Editor

402. พิธีการรับคนเข้าเป็นสมาชิกของสังคมสงฆ์ เรียกว่าอย่างไร

1. พิธีบวช
2. พิธีบรรพชา
3. บิณฑูอุปสมบท
4. **พิธีบรรพชาอุปสมบท**

403. ลูกบางคนเกิดมารักษาวงศ์ตระกูลไว้ได้ในระดับที่พ่อแม่รักษา เรียกว่าอย่างไร

1. อภิชาติบุตร
2. **อนุชาติบุตร**
3. อวชาติบุตร
4. ปิยบุตร

404. สัมมาอาชีวะ หมายถึงข้อใด

1. ชอบด้วยธรรมชาติ
2. ชอบด้วยกฎหมาย
3. ชอบด้วยเหตุและผล
4. **ชอบด้วยกฎหมายและธรรมชาติ**

405. ข้อใดไม่ใช่ความหมายของคำว่า “พอเพียง”

1. สันโดษ
2. สมชีวิตา
3. มัตตัญญูตา
4. **มัชฌิมาปฏิปทา**

406. บรรดาสิ่งที่เกื้อกูลให้คนได้รับความสำเร็จ ข้อใดสำคัญที่สุด

1. คบคนดี
2. มีบุญเก่าหนุน
3. **ตั้งตนไว้ชอบ**
4. อยู่ในถิ่นที่เหมาะสม

407. องค์ประกอบของวัฒนธรรมในข้อใดเปลี่ยนแปลงยากที่สุด

1. ประเพณี
2. **ความเชื่อ**
3. ทัศนคติ
4. บรรทัดฐาน



PDF Editor

408. กระบวนการใดทำให้วัฒนธรรมเป็นมรดกของสังคม

1. การขัดเกลาทางสังคม
2. การจัดระเบียบทางสังคม
3. การผสมผสานทางสังคม
4. การผสมกลมกลืนทางวัฒนธรรม

409. ข้อใดคือวัฒนธรรมที่ไม่ใช่วัตถุ

1. ครูใหญ่ขับรถปิคอัพมาโรงเรียน
2. สมชายสวมสร้อยคอห้อยพระสมเด็จเลี่ยมทองมาทำงาน
3. ชูชัยขายข้าวได้ราคาดี จึงซื้อรถอีแต๋นไว้ใช้งาน
4. ง.เจ้าคุณปู่ทำพินัยกรรมยกที่ดินให้วัดเป็นสาธารณกุศล

410. ข้อใดเป็นกระบวนการขัดเกลาทางสังคมทางอ้อม

1. พี่สอนน้องทำการบ้าน
2. หนึ่งเล่นฟุตบอลกับเพื่อน
3. แดงถูกครูทำโทษเพราะไม่ส่งงาน
4. ตำรวจจับตำรวจหาเมาแล้วขับ

411. หากอัตราการเพิ่มประชากรในประเทศไทยลดลงเรื่อยๆ เหตุการณ์ใดที่คาดว่าจะเกิดขึ้น

1. ประชากรวัยทำงานจะมีผู้สูงอายุเพิ่มมากขึ้น
2. ประชากรเพศหญิงจะมีน้อยกว่าประชากรเพศชาย
3. ปัญหาการว่างงานจะหมดไปจากสังคมไทย
4. คุณภาพชีวิตประชากรจะดีขึ้น

412. สภาพปัญหาการฉ้อราษฎร์บังหลวงที่เกิดขึ้นในสังคมไทยปัจจุบันควรแก้ไขด้วยวิธีการใดจึงจะเป็นการแก้ปัญหาแบบยั่งยืน

1. รัฐควรออกกฎหมายป้องกันและลงโทษอย่างรุนแรง
2. สื่อมวลชนคอยสอดส่องดูแล และนำเสนอข่าวการฉ้อราษฎร์บังหลวงอย่างจริงจัง
3. ประชาชนให้ความร่วมมือไม่ให้สินบน และไม่ยกย่องผู้ที่รับสินบนจากการคดโกง
4. ผู้บังคับบัญชาปฏิบัติตนเป็นแบบอย่างที่ดี และไม่ส่งเสริมผู้ใต้บังคับบัญชาที่ประพฤติมิชอบ

413. ข้อใดต่อไปนี้เป็นกรปกครองท้องถิ่นที่ใช้อยู่ในปัจจุบันทั้งหมด

1. เทศบาลเมือง องค์การบริหารส่วนตำบล สุขาภิบาล
2. เทศบาลนคร องค์การบริหารส่วนจังหวัด กรุงเทพมหานคร
3. เทศบาลเมือง สภาตำบล สุขาภิบาล
4. เทศบาลอำเภอ องค์การบริหารส่วนจังหวัด หมู่บ้าน

414. นโยบาย “เปลี่ยนสนามรบเป็นสนามการค้า” เป็นนโยบายของนายกรัฐมนตรีท่านใด และใช้กับภูมิภาคใด

1. พล.อ.เปรม ติณสูลานนท์ ใช้กับ กลุ่มประเทศอินโดจีน
2. พล.อ.เปรม ติณสูลานนท์ ใช้กับ ประเทศตะวันออกกลาง
3. พล.อ.ชาติชาย ชุณหะวัณ ใช้กับ กลุ่มประเทศอินโดจีน
4. พล.อ.ชาติชาย ชุณหะวัณ ใช้กับ ประเทศตะวันออกกลาง

415. การกระทำใดไม่ได้แสดงถึงการมีส่วนร่วมทางการเมืองในระบอบประชาธิปไตย

1. การชุมนุมของกลุ่มพันธมิตร
2. การร้องทุกข์ต่อหน่วยงานของรัฐ
3. การรวมกลุ่มเศรษฐกิจเพื่อการพึ่งตนเอง
4. การฟ้องร้องรัฐวิสาหกิจ

416. รูปแบบความสัมพันธ์ระหว่างประเทศแบบใดที่ครอบคลุมประเทศต่าง ๆ จากหลายทวีปมากที่สุด

1. AFTA
2. NAFTA
3. ASEM
4. APEC

417. บุคคลที่เกี่ยวข้องในการกระทำความผิดอาญาคู่ใด ที่กฎหมายกำหนดให้รับโทษในอัตราเดียวกัน

1. ตำรวจ – ผู้สนับสนุน
2. ผู้ลงมือกระทำความผิด – ผู้สนับสนุน
3. ผู้ใช้ – ผู้สนับสนุน
4. ผู้ใช้ – ตำรวจ

418. นายเขียวอายุ 16 ปี ได้เล่นการพนันฟุตบอลจนเป็นหนี้พนัน 1 ล้านบาท เจ้าหนี้ได้ทวงถามและข่มขู่จะเอาชีวิตหากไม่นำเงินมาชำระหนี้ภายใน 7 วัน ด้วยความกลัวเจ้าหนี้ที่จะเอาชีวิต นายเขียวจึงจำเป็นต้องเข้าไปลักทรัพย์ในบ้านของนายฟ้ามูลค่า 1 ล้านบาท เมื่อได้ทรัพย์มาแล้วนายเขียวรู้สึกสงสารเจ้าของทรัพย์ จึงลอบนำทรัพย์สินนั้นไปคืนไว้ที่เดิม เช่นนี้ นายเขียวจะมีความผิดในทางกฎหมายอาญาประการใดหรือไม่ เพราะเหตุใด

1. ไม่มีความผิดทางอาญา เพราะเป็นการกระทำโดยจำเป็นเพื่อให้ตนพ้นจากภัยอันตรายที่ใกล้จะถึง
2. ไม่มีความผิดทางอาญา เพราะได้นำทรัพย์สินคืนแก่เจ้าของแล้ว
3. มีความผิดอาญาฐานลักทรัพย์ เพราะได้นำเอาทรัพย์สินของผู้อื่นไปแล้ว
4. มีความผิดอาญาฐานลักทรัพย์ แต่ได้รับการยกเว้นโทษเพราะได้นำทรัพย์สินไปคืนแก่เจ้าของแล้ว

419. ข้อใดเป็นจารีตประเพณีไม่มีการบัญญัติไว้เป็นลายลักษณ์อักษร แต่ได้รับการยอมรับประพฤติปฏิบัติตามกันมานาน จนเป็นที่ยอมรับกันว่ามีความศักดิ์สิทธิ์เสมอด้วยกฎหมายในประเทศไทย

1. การที่คนในสังคมสามารถพาปศุสัตว์ของตนผ่าน หรือเข้าไปในที่ดินของผู้อื่นซึ่งมีได้กัน เพื่อให้ปศุสัตว์กินหญ้า
2. การที่นักมวยไทยได้ไปชกมวยสากล แล้วใช้เท้าเตะอีกฝ่ายจนถึงแก่ความตาย
3. การที่บิดามารดาเขียนบุตรตามสมควร เพื่ออบรมสั่งสอนให้บุตรเป็นคนดี
4. การที่แพทย์ตัดแขนขาคนไข้เพื่อช่วยชีวิตโดยไม่ได้รับความยินยอมจากญาติของคนไข้ เพราะไม่อาจรอช้าได้อีกต่อไป

420. นายแสงชัย และนายแสงทอง ทำสัญญาจำนองโดยตกลงกันว่า หากนายแสงทองบังคับจำนองแล้วได้เงินไม่พอชำระหนี้ นายแสงชัยจะต้องรับผิดชอบในส่วนที่ขาดอยู่ ซึ่งข้อตกลงดังกล่าวเป็นข้อตกลงที่ขัดต่อบทบัญญัติของกฎหมาย ดังนั้นข้อตกลงเช่นนี้มีผลอย่างไร

1. ใช้บังคับได้ เพราะไม่ขัดต่อความสงบเรียบร้อย หรือศีลธรรมอันดีของประชาชน
2. ใช้บังคับไม่ได้ เพราะขัดต่อความสงบเรียบร้อย หรือศีลธรรมอันดีของประชาชน
3. ใช้บังคับไม่ได้ เพราะวัตถุประสงค์ต้องห้ามขัดแย้งโดยกฎหมาย
4. ใช้บังคับได้ เพราะวัตถุประสงค์ไม่เป็นการฝ่าฝืน



PDF Editor

421. นายซีฟ เจ้าหนี้ ได้ข่มขู่ นายสรยุทธ ลูกหนี้ว่า ถ้านายสรยุทธไม่ชำระหนี้จำนวน 100,000 บาทที่ยืมไปจะฟ้องศาลให้นายสรยุทธเป็นบุคคลล้มละลาย นายสรยุทธกลัวจึงได้ใช้หนี้ให้นายซีฟไป การชำระหนี้ของนายสรยุทธมีผลเป็นอย่างไร

1. โมฆะ เพราะเป็นนิติกรรมที่เกิดจากการถูกข่มขู่ให้เกิดภัยอันใกล้จะถึง
2. โมฆียะ เพราะเป็นนิติกรรมที่เกิดจากการข่มขู่
3. ไม่บริบูรณ์ เพราะเป็นนิติกรรมที่เกิดจากความนับถือยำเกรง
4. สมบูรณ์ เพราะการข่มขู่นั้นเป็นการใช้สิทธิตามปกติห้าม

422. นายธงชัยอยู่ตัวคนเดียว ไม่มีทายาท จึงรับเด็กชายจรมาเป็นบุตรบุญธรรมของตน ดังนี้ เด็กชายจรจะมีสิทธิเหมือนกับบุตรชอบด้วยกฎหมายทุกๆ อย่าง ยกเว้นสิทธิใด

1. สิทธิในการได้รับค่าอุปการะเลี้ยงดูจากนายธงชัย
2. สิทธิในการได้รับการศึกษาขั้นพื้นฐาน
3. สิทธิในการได้รับมรดกในฐานะทายาทโดยธรรม
4. สิทธิในการใช้ชื่อสกุลของบิดา

423. จากข้อความในข้อ ก. ข. และ ค. บุคคลในข้อใดคือหน่วยครัวเรือนในระบบเศรษฐกิจ

- ก. นายสมานนำผักและผลไม้จากสวนออกไปจำหน่ายในตลาดทุกเช้า
- ข. นายเสมอรับจ้างเข็นรถบรรทุกผักและผลไม้ให้นายสมานทุกวัน
- ค. นางสมัยแวะมาซื้อผักและผลไม้จากแผงร้านของนายสมานเป็นประจำ

1. ก. และ ข.
2. ก. และ ค.
3. ข. และ ค.
4. ก. ข. และ ค.

424. ปัจจัยการผลิตในข้อใดเป็นปัจจัยผันแปรของการผลิตในระยะยาว

1. ที่ดิน
2. เครื่องจักร เครื่องมือ
3. วัตถุดิบ
4. แรงงาน

425. ข้อใดกล่าวถึงระบบเศรษฐกิจได้ถูกต้อง

1. ข้อเสนอแนะต่อระบบเศรษฐกิจสังคมนิยม คือความมีเสถียรภาพในการดำเนินกิจกรรมทางเศรษฐกิจ
2. การจัดสรรสินค้าในระบบเศรษฐกิจทุนนิยมจะเป็นไปตามความสามารถในการซื้อของผู้บริโภค
3. ปัจจัยทุนเป็นปัจจัยการผลิตที่สำคัญที่สุดในการผลิตสินค้าในระบบเศรษฐกิจทุนนิยม

4. ปัญหาพื้นฐานทางเศรษฐกิจของระบบเศรษฐกิจสังคมนิยม คือเอกชนขาดเสรีภาพในการผลิตและการบริโภค

426. ในการผลิตสินค้าจำนวน 500 หน่วย นายประพจน์มีวิธีการผลิตให้เลือก 4 วิธี ด้วยกัน ถ้าอัตราค่าจ้างในตลาดเท่ากับ 120 บาทต่อชั่วโมง และค่าเช่าเครื่องจักรเท่ากับ 200 บาทต่อชั่วโมง วิธีการผลิตที่มีประสิทธิภาพคือข้อใด

1. ใช้แรงงาน 5 ชั่วโมง ร่วมกับเครื่องจักร 2 ชั่วโมง
2. ใช้แรงงาน 3 ชั่วโมง ร่วมกับเครื่องจักร 3 ชั่วโมง
3. ใช้แรงงาน 1 ชั่วโมง ร่วมกับเครื่องจักร 5 ชั่วโมง
4. ใช้แรงงานอย่างเดียว 10 ชั่วโมง

427. ผู้ผลิตที่มีคุณธรรมแสวงหากำไรโดยวิธีใด

1. ผลิตในปริมาณที่ทำให้เสียต้นทุนเฉลี่ยต่ำที่สุด โดยปรับขนาดการผลิตให้เหมาะสม
2. ปรับปรุงประสิทธิภาพการผลิตโดยใช้เทคโนโลยีที่เหมาะสม
3. ลดต้นทุนการผลิตโดยเลือกใช้วัตถุดิบที่มีราคาต่ำกว่า แทนวัตถุดิบที่มีราคาแพงกว่า
4. ขยายตลาดสินค้าหรือบริการโดยตั้งราคาขายต่ำกว่าราคาของผู้ผลิตรายอื่นๆ ในตลาด

428. นางสมศรีชื้อน้ำตาลทราย 5 ถุง ขนาดบรรจุถุงละ 1 กิโลกรัม จากห้างสะดวกซื้อแห่งหนึ่ง แต่เมื่อกลับไปบ้านและทดสอบชั่งน้ำหนักใหม่ ปรากฏว่ามีน้ำตาลทราย 2 ถุง มีน้ำหนักเพียง 0.8 กิโลกรัมเท่านั้น นางสมศรีต้องการรักษาสิทธิของตน จะต้องนำเรื่องและหลักฐานไปร้องเรียนหน่วยงานที่รับผิดชอบโดยตรงหน่วยงานใด

1. สำนักงานคณะกรรมการคุ้มครองผู้บริโภค
2. สำนักงานคณะกรรมการอาหารและยา
3. สำนักงานมาตรฐานผลิตภัณฑ์อุตสาหกรรม
4. กรมการค้าภายใน

429. สถาบันการเงินใดมีความสำคัญมากที่สุดในตลาดทุน เพราะเหตุผลใด

1. ธนาคารพาณิชย์ เพราะปล่อยสินเชื่อสูงกว่าสถาบันการเงินอื่น
2. ธนาคารอาคารสงเคราะห์ เพราะปล่อยสินเชื่อให้ธุรกิจอสังหาริมทรัพย์เป็นส่วนใหญ่
3. บริษัทหลักทรัพย์ เพราะเป็นตัวแทนซื้อขายหลักทรัพย์ในตลาดหลักทรัพย์
4. บริษัทเงินทุน เพราะเป็นแหล่งจัดหาเงินกู้ให้หน่วยธุรกิจ

430. สหกรณ์ประเภทใดไม่ให้บริการเงินกู้แก่สมาชิก

1. สหกรณ์บริการ
2. สหกรณ์ร้านค้า
3. สหกรณ์การเกษตร
4. สหกรณ์ออมทรัพย์

431. พฤติกรรมของบุคคลใดสอดคล้องกับแนวพระราชดำริเศรษฐกิจพอเพียง

1. นางสาวชานันท์ในตลาดโดยไม่มีวันหยุด เพื่อให้มีเงินพอชำระค่าผ่อนรถจักรยานยนต์ที่ซื้อให้ลูกชายขี่ไปโรงเรียน
2. นางจันทร์ชนเพื่อที่บ้านที่มีเวลาว่างมาร่วมกลุ่มกันสานกระบุงไม้ไผ่ส่งขายร้านค้าในเมือง และนำรายได้มาแบ่งปันกัน
3. นายเอกประกาศขายบ้านที่อยู่อาศัยมานาน 25 ปี เพื่อรวบรวมเงินไว้รักษาพยาบาลมารดาที่ป่วยเป็นโรคไตต้องเสียค่าใช้จ่ายฟอกไตทุกสัปดาห์
4. นายวิทย์หาเลี้ยงตัวเองด้วยการขับรถแท็กซี่รับจ้าง สัปดาห์ใดได้รับรายได้มากก็จะหยุดขับรถในบางวันสัปดาห์ใดได้รายได้น้อยไม่พอค่าใช้จ่าย ก็จะออกขับรถทุกวัน

432. ถ้าอัตราเงินเฟ้อของปีนี้เท่ากับร้อยละ 4.8 แต่คาดว่าจะสูงขึ้นเป็นร้อยละ 6.5 ในปีหน้า และมีแนวโน้มสูงขึ้นอีกในปีต่อไป รัฐบาลควรดำเนินนโยบายการคลังในปีหน้าอย่างไรเพื่อแก้ปัญหาเงินเฟ้อ

1. กำหนดวงเงินงบประมาณรายจ่ายในปีหน้าลดลง จากปีนี้ร้อยละ 1.7 หรือมากกว่า
2. จัดทำงบประมาณรายจ่ายในปีหน้าไม่ให้สูงกว่าประมาณการรายได้
3. กู้ยืมเงินจากต่างประเทศมาใช้จ่ายแทนการกู้ยืมเงินจากประชาชนในประเทศ
4. เพิ่มอัตราภาษีสินค้าเข้า และลดอัตราภาษีมูลค่าเพิ่มเป็นการชดเชย

433. กฎของอุปทานคือข้อใด

1. เมื่อปริมาณเสนอซื้อสินค้าชนิดหนึ่งเพิ่มขึ้น ปริมาณเสนอขายสินค้าชนิดนั้นจะเพิ่มขึ้น
2. เมื่อปัจจัยที่ใช้ในการผลิตสินค้าชนิดหนึ่งเพิ่มขึ้น ปริมาณเสนอขายสินค้าชนิดนั้นจะเพิ่มขึ้น
3. เมื่อราคาสินค้าชนิดหนึ่งสูงขึ้น ปริมาณเสนอขายสินค้าชนิดนั้นจะเพิ่มขึ้น
4. เมื่อรายได้ของผู้บริโภคสูงขึ้น ปริมาณเสนอขายสินค้าจะเพิ่มขึ้น

434. การปรับค่าจ้างขั้นต่ำสูงขึ้น จะทำให้เกิดผลกระทบต่อตลาดแรงงานอย่างไร

1. ระดับค่าจ้างดูคุณภาพต่ำลง
2. อุปทานแรงงานส่วนเกินเพิ่มขึ้น
3. ความต้องการจ้างงานเพิ่มขึ้น
4. **ปัญหาการขาดแคลนแรงงานลดลง**

435. ข้อใดไม่ใช่ประโยชน์จากการดำเนินนโยบายการค้าเสรีต่อประเทศที่ทำการค้าระหว่างประเทศ

1. การจัดสรรทรัพยากรของประเทศเป็นไปอย่างมีประสิทธิภาพ
2. เกิดความก้าวหน้าทางด้านวิทยาการและเทคโนโลยี
3. ประชาชนของประเทศมีโอกาสได้บริโภคสินค้ามากขึ้น
4. **ตลาดกว้างขึ้น เปิดโอกาสให้ผลิตสินค้าได้หลากหลายชนิดขึ้น**

436. การที่เงินบาทมีค่าแข็งขึ้นมากเมื่อเทียบกับเงินดอลลาร์สหรัฐอเมริกา จะทำให้เกิดผลข้อใด

1. **ราคาสินค้าส่งออกลดลง**
2. กำไรของผู้นำเข้าลดลง
3. ดุลการค้าขาดดุลลดลง
4. ความสามารถในการแข่งขันกับต่างประเทศลดลง

437. นับตั้งแต่ พ.ศ. 2544 เป็นต้นมา ประเทศไทยมีทุนสำรองเงินตราต่างประเทศเพิ่มขึ้นมาก สภาพการณ์ดังกล่าวเป็นผลมาจากปัจจัยข้อใด

1. ดุลการค้าเงินเกินดุล
2. **หนี้ต่างประเทศลดลงมาก**
3. เงินทุนไหลเข้าประเทศมากกว่าไหลออก
4. อัตราการขยายตัวของสินค้าออกสูงกว่าอัตราการขยายตัวของสินค้าเข้า

438. ถ้าสหรัฐอเมริกามีปัญหาขัดแย้งกับประเทศไทย โดยกล่าวหาว่าประเทศไทยทำการทุ่มตลาดสิ่งทอในประเทศสหรัฐอเมริกา จึงต้องเก็บภาษีนำเข้าสิ่งทอจากประเทศไทยในอัตราสูงกว่าสิ่งทอจากประเทศอื่น ประเทศไทยจะต้องเสนอให้องค์กรใดดำเนินการแก้ปัญหาขัดแย้งดังกล่าว

1. **WTO**
2. APEC
3. NAFTA
4. UNCTAD

439. การวิเคราะห์ตามวิธีการทางประวัติศาสตร์ มีลักษณะอย่างไร

1. สรุปเหตุการณ์ที่เกิดขึ้นว่าคืออะไร
2. การเล่าเหตุการณ์ที่เกิดขึ้นตามข้อมูลที่มีอยู่
3. การจัดเรียงลำดับเวลาก่อนหลังของเหตุการณ์ที่เกิดขึ้น
4. การหาความสัมพันธ์ของข้อมูลที่ผ่านมาการตีความอย่างมีเหตุผล

440. นับตั้งแต่มีการเปลี่ยนแปลงการปกครองใน พ.ศ. 2475 เป็นต้นมาจนถึงสมัยที่ประเทศไทยต้องเข้าสู่สงครามมหาเอเชียบูรพา รัฐบาลไทยในขณะนั้นมีแนวคิดในการนำเศรษฐกิจแบบทุนนิยม

โดยรัฐมาใช้ เป็นเพราะเหตุใด

1. เตรียมตัวให้พร้อมกัับสถานการณ์ของโลกในขณะนั้น
2. ต้องการขัดขวางการครอบงำทางเศรษฐกิจของหมู่ชนชั้นศักดินา
3. เพื่อสกัดกั้นการเข้ามาครอบงำทางเศรษฐกิจและสังคมของชาวต่างชาติ
4. ต้องการตอบแทนผลประโยชน์ทางเศรษฐกิจให้กับผู้คุมกำลังหน่วยทหาร

441. พระบาทสมเด็จพระจุลจอมเกล้าเจ้าอยู่หัวมีพระบรมราโชบายในการรักษาเอกราช และอธิปไตยของชาติบ้านเมืองจนประสบผลสำเร็จเทียบได้กับพระบรมราโชบายของพระมหากษัตริย์พระองค์ใด

1. สมเด็จพระนเรศวรมหาราช
2. สมเด็จพระนารายณ์มหาราช
3. สมเด็จพระเจ้าตากสินมหาราช
4. พระบาทสมเด็จพระพุทธยอดฟ้าจุฬาโลกมหาราช

442. เมื่อเปรียบเทียบกับอารยธรรมลุ่มแม่น้ำอื่นๆ เรื่องที่อารยธรรมลุ่มแม่น้ำสินธุไม่มีหลักฐานชัดเจนคือเรื่องใด

1. การวางผังเมือง
2. การจัดระเบียบการปกครอง
3. การมีบันทึกที่เป็นลายลักษณ์อักษร
4. การแยกแยะอาชีพของพลเมือง

443. การใช้กระดาษเงินหรือธนบัตรแทนโลหะ เป็นภูมิปัญญาที่ชาติใดเริ่มใช้ก่อน

1. จีน
2. อินเดีย
3. เปอร์เซีย
4. อียิปต์



PDF Editor

444. ความแตกต่างของการที่ปากีสถานแยกออกจากอินเดีย กับบังคลาเทศแยกออกจากปากีสถานคือเรื่องใดตามลำดับ

1. ศาสนากับเศรษฐกิจ
2. เศรษฐกิจกับการปกครอง
3. การปกครองกับศาสนา
4. ศาสนากับการปกครอง

445. ภูมิภาคเอเชียตะวันออกเฉียงใต้ เริ่มมีความสำคัญต่อโลกตะวันตกในเรื่องใด

1. เมื่อจักรวรรดิโรมันต้องการทองคำจากสุวรรณภูมิ
2. เมื่อโปรตุเกสแสวงหาเส้นทางเดินเรือไปหมู่เกาะเครื่องเทศ
3. เมื่อโปรตุเกสกับสเปนแบ่งเขตสำรวจทางทะเล
4. เมื่อชาติตะวันตกพากันเข้ามายึดครองดินแดนในเอเชียตะวันออกเฉียงใต้

446. ข้อใดไม่อยู่ในขอบข่ายวัตถุประสงค์ของการก่อตั้งสมาคมอาเซียน (ASEAN)

1. การร่วมมือกันกำจัดหรือยับยั้งโรคระบาด
2. การร่วมมือกันทางทหารปราบปรามชนกลุ่มน้อย
3. การร่วมมือกันจัดตั้งเขตการค้าเสรี
4. การร่วมมือกันด้านวิชาการแลกเปลี่ยนนักเรียนนักศึกษา

447. เหตุการณ์ในวันที่ 14 ตุลาคม 2516 มีความสัมพันธ์กับประเด็นที่สำคัญในทางการเมืองไทยในลักษณะใด

1. การเรียกร้องรัฐธรรมนูญที่เป็นประชาธิปไตย
2. การดำรงตำแหน่งนายกรัฐมนตรีที่ได้มาจากสมาชิกสภาผู้แทนราษฎร
3. การเดินทางกลับคืนสู่ประเทศไทยของอดีตนายกรัฐมนตรีที่เป็นเผด็จการ
4. การก่อความวุ่นวายทางการเมืองของสมาชิกพรรคคอมมิวนิสต์แห่งประเทศไทย

448. เศรษฐกิจของสาธารณรัฐประชาชนจีนก้าวหน้าอย่างรวดเร็วตั้งแต่ช่วงเวลาใดและโดยนโยบายใด

1. ปลายทศวรรษ 1950 ก้าวกระโดดไปข้างหน้า
2. ต้นทศวรรษ 1960 จัดตั้งคอมมูน
3. ปลายทศวรรษ 1970 เปิดประเทศ
4. ต้นทศวรรษ 1990 สี่ทันสมัย



PDF Editor

449. การเรียกสมัยแห่งการค้นพบ (Age of Discovery) ที่เริ่มปลายคริสต์ศตวรรษที่ 15 นั้น เกิดจากเหตุผลใด

1. การพบแหล่งแร่เงิน และทองคำจากกินี แอฟริกา
2. การพบอารยธรรมแอซเทค (Aztec) และอินคา (Inca) ในทวีปอเมริกาใต้
3. การพบเส้นทางเดินเรือไปยังทวีปอเมริกา และทวีปเอเชียโดยไม่ผ่านทะเลเมดิเตอร์เรเนียน
4. การพบหลักฐานความรุ่งโรจน์ของอารยธรรมกรีก – โรมันที่คนในยุคกลางปิดบัง

450. ข้อใดไม่ใช่ใช้ลักษณะเด่นของสังคมยุโรปในสมัยฟื้นฟูศิลปวิทยาการ

1. การเผยแพร่ความคิดของนักมนุษยนิยมคริสเตียน
2. การศึกษาผลงานและความคิดของสมัยกรีก – โรมัน
3. ชนชั้นกลางมีบทบาทในทางสังคมและเศรษฐกิจ
4. คริสต์ศาสนามีบทบาทสูงต่อความคิดและการดำเนินชีวิตของชาวตะวันตก

451. ข้อใดที่แสดงให้เห็นถึงลักษณะเด่นของศิลปะในสมัยฟื้นฟูศิลปวิทยาการ

1. ศิลปินยังคงอยู่ใต้อำนาจและอิทธิพลของคริสต์ศาสนา
2. กิลด์ยังมีอิทธิพลในการควบคุมงานของศิลปินในแขนงต่างๆ
3. งานศิลปะมีลักษณะที่เป็นธรรมชาติ เน้นความสวยงามละเอียดอ่อน
4. ความสามารถของศิลปินในการลอกเลียนงานศิลปะของกรีก – โรมัน

452. ข้อใดไม่เกี่ยวข้องกับการล่มสลายของสหภาพโซเวียต และการยุติของสงครามเย็น

1. การพังทลายกำแพงเบอร์ลิน
2. การใช้นโยบายเปิด – ปรับของมีฮาอิล กอร์บาชอฟ
3. การหันสู่ระบอบประชาธิปไตยของประเทศยุโรปตะวันออก
4. การใช้หลักการอยู่ร่วมกันโดยสันติของนีกิตา ครุชชอฟ

453. ใน ค.ศ. 2006 อดีตประธานาธิบดีซัดดัม ฮุสเซน (Saddam Hussein) ถูกดำเนินคดีในข้อหากระทำอาชญากรรมต่อมนุษยชาติจากกรณีใด

1. การเข้ายึดครองคูเวต และสังหารพลเมือง
2. การปราบปรามชาวมุสลิมนิกายชีอะฮ์ทางภาคใต้
3. การปราบปรามชนกลุ่มน้อยชาวเคิร์ดทางภาคเหนือ
4. การกวาดล้างชาวมุสลิมนิกายซุนนีชานกรุงแบกแดด

454. ข้อใดคือปัญหาและอุปสรรคขององค์การสหประชาชาติในการรักษาสันติภาพโลกในปัจจุบัน

1. สหรัฐอเมริกามีบทบาทมากขึ้นในการดำเนินงานเพื่อรักษาสันติภาพของโลก
2. ความร่วมมือและความช่วยเหลือจากประเทศสมาชิกที่มีฐานะมั่นคงลดน้อยลง
3. องค์การระหว่างประเทศในภูมิภาคต่างๆ มีบทบาทขึ้นในการประสานความร่วมมือระหว่างประเทศเพื่อรักษาสันติภาพ
4. ขอบข่ายการดำเนินงานรักษาสันติภาพขององค์การสหประชาชาติกว้างขวางและมีปริมาณงานเพิ่มมากขึ้น

455. เหตุใดบริเวณที่กระแสน้ำอุ่นและกระแสน้ำเย็นไหลมาปะทะกันจึงมีปลาชุกชุม

1. อุณหภูมิแพลงตอนซึ่งเป็นอาหารของปลา
2. เป็นเขตลมสงบ เหมาะแก่การดำรงชีวิตของปลา
3. มักเป็นบริเวณน้ำตื้น ทำให้ปลามารวมกันอยู่เป็นฝูงใหญ่
4. ปลอดภัยจากสัตว์นักล่า เช่น ฉลามที่อาศัยอยู่เฉพาะเขตน้ำอุ่นเท่านั้น

456. ใครใช้อุปกรณ์ที่บอกตำแหน่งที่ตั้ง

1. นางแดงใช้จีพีเอสคู่กับเข็มทิศ
2. นายเขียวใช้แผนที่คู่กับภาพจากดาวเทียม
3. นายดำใช้รูปถ่ายทางอากาศคู่กับกล้องสามมิติ
4. นายขาวใช้อินเทอร์เน็ตคู่กับระบบสารสนเทศทางภูมิศาสตร์

457. ข้อใดเป็นเหตุผลที่ถูกต้องของมาตราส่วนใหญ่

1. แผนที่บ้าน 1 : 500 เป็นแผนที่มาตราส่วนใหญ่ เพราะเห็นตำแหน่งประตูหน้าต่างได้
2. แผนที่หมู่บ้าน 1 : 5000 เป็นแผนที่มาตราส่วนใหญ่ เพราะบอกเส้นทางเข้าได้ชัดเจน
3. แผนที่ธรณีวิทยา 1 : 500000 เป็นแผนที่มาตราส่วนใหญ่ เพราะครอบคลุมทั้งหมด
4. แผนที่ภูมิประเทศ 1 : 50000 เป็นแผนที่มาตราส่วนใหญ่ เพราะแสดงการใช้ที่ดินได้ชัดเจน

458. ในการวิเคราะห์ข้อมูล ควรใช้เครื่องมือทางภูมิศาสตร์ข้อใด

1. ลูกโลก รูปถ่ายทางอากาศ จีพีเอส
2. แผนที่ เข็มทิศ การติดตามเฝ้าระวัง
3. การสัมภาษณ์ สถิติ ระบบสารสนเทศทางภูมิศาสตร์
4. การจัดทำฐานข้อมูล ภาพจากดาวเทียม รีโมทเซนซิง

459. ข้อใดเป็นการสร้างสรรค์วัฒนธรรมที่เกิดจากอิทธิพลของสิ่งแวดล้อม

1. การทำเหมืองแร่ที่จังหวัดภูเก็ต
2. การปลูกสับปะรดที่จังหวัดเชียงราย
3. การทำนาเกลือที่จังหวัดสมุทรสาคร
4. การหมักก๋วยเตี๋ยวในถังไม้โอ๊กที่จังหวัดเลย

460. ข้อใดไม่เป็นการสร้างสรรค์ทางวัฒนธรรม

1. การทำเกลือสมุทรที่จังหวัดตราด
2. การทำเหมืองแร่ดีบุกที่จังหวัดภูเก็ต
3. การทำเรือกอลและที่จังหวัดนราธิวาส
4. การติดตลาดน้ำดำเนินสะดวกที่จังหวัดราชบุรี

461. ข้อใดเป็นการอนุรักษ์ทรัพยากรเพื่อสิ่งแวดล้อมที่ดี

1. เด็กชายมะริดเก็บเศษกระดาษทิ้งลงในถังขยะแห้ง
2. เด็กชายมะแมเก็บหนังสือเรียนเก่าไปบริจาคที่โรงเรียน
3. เด็กหญิงมะลิเก็บกล่องของขวัญไว้ใส่ของขวัญต่อให้มารดา
4. เด็กหญิงมะเหมี่ยวเก็บถั่วจากสวนครัวหลังบ้านมาปรุงอาหาร

462. ข้อใดไม่ใช่วิกฤตการณ์ด้านสิ่งแวดล้อมระดับโลกที่มีผลกระทบอย่างกว้างขวาง

1. ฝนกรด
2. ปรากฏการณ์เอลนีโญ
3. ปรากฏการณ์เรือนกระจก
4. การเกิดช่องโหว่ของชั้นโอโซน

463. ข้อใดไม่เกี่ยวข้องกับสิ่งแวดล้อมของไทย

1. พระราชบัญญัติ พุทธศักราช 2542
2. วันเฉลิมพระชนมพรรษา 5 ธันวาคม
3. กรมส่งเสริมคุณภาพสิ่งแวดล้อม และ UNEP
4. ผู้ว่าราชการจังหวัด และองค์การบริหารส่วนจังหวัด

464. ใครแสดงออกถึงภูมิปัญญาที่แท้จริง

1. นาย ข ย้อมผ้าฝ้ายด้วยน้ำใบมะเกลือ
2. นาย ก ปลูกบ้านใต้ถุนสูง มีกันสาดกว้างยาว
3. นาย ค ผลิตแชมพูสมุนไพรเสริมรายได้ครอบครัว
4. นาย ง ใช้เปลือกมังคุดทาลดอาการปวดแสบปวดร้อน

465. ข้อใดเป็นเอกลักษณ์ทางวัฒนธรรม

1. เกาะตะรุเตา จังหวัดสตูล
2. ดอยสุเทพ จังหวัดเชียงใหม่
3. เชื้อนป้าสักชลสิทธิ์ จังหวัดลพบุรี
4. มรดกโลกห้วยขาแข้ง จังหวัดอุทัยธานี

466. ข้อใดเป็นวิธีกำจัดขยะมูลฝอยอย่างยั่งยืน

1. reuse
2. repair
3. reduce
4. **recycle**

467. ใครเป็นผู้พัฒนาชุมชนอย่างยั่งยืน

1. นายวิภัทรสอนการปลูกบ้านด้วยไม้ท้องถิ่นให้ผู้แทนชุมชน
2. นายวิรัชเรียนการปลูกหม่อน เลี้ยงไหม และทอผ้าจากมารดา
3. นายวินัยบริจาคเงิน 15 ล้านบาทเพื่อสร้างถนนทางเข้าหมู่บ้าน
4. นายวิชัยนำต้นปาล์มห้ำมันเข้าไปปลูกในหมู่บ้านแทนสวนกล้วย

468. การติดตามข่าวสารสิ่งแวดล้อมหมายถึงข้อใด

1. การถ่ายภาพดินถล่มในภาคตะวันตกตลอดฤดูฝน
2. การอ่านข้อความเกี่ยวกับสึนามิที่เกิดขึ้นในภาคใต้จากแผ่นพับ
3. การวิเคราะห์พื้นที่ป่าไม้ที่ถูกทำลายในภาคเหนือจากภาพถ่ายดาวเทียม
4. การใช้อินเทอร์เน็ตศึกษาข้อมูลการกำจัดขยะมูลฝอยในภาคตะวันออก

469. ข้อใดไม่เป็นความจริง

1. ภาคกลางมีเขื่อนขนาดใหญ่ที่สุดของไทย
2. ภาคตะวันตกมีถ้ำธารลอดมากที่สุดที่จังหวัดตาก
3. ภาคตะวันออกเฉียงเหนือมีที่ราบกว้างใหญ่ที่สุด
4. ภาคตะวันออกเป็นภูมิภาคเดียวที่มีภูมิประเทศแบบที่รอบลอนลาด

470. การจัดกลุ่มประเทศด้วยลักษณะทางกายภาพในข้อใดที่ต่างจากข้ออื่น

1. อินเดีย เกาหลีใต้ ออสเตรเลีย
2. เกาหลีเหนือ เนปาล สเปน
3. ออสเตรเลีย จีน เนเธอร์แลนด์
4. อินโดนีเซีย ญี่ปุ่น สหราชอาณาจักร

471. การทำลายล้าง การสร้างและคุ้มครองโลกกับจักรวาลเป็นบทบาทของเทพองค์ใด
ในศาสนาพราหมณ์-ฮินดู

1. พระพรหม
2. พระศิวะ
3. พระนารายณ์
4. พระตรีมูรติ

472. ข้อใดไม่ตรงกับปรมาตมัน

1. พรหมัน
2. โมกษะ
3. ชีวาตมัน
4. วิญญาณสากล

473. ข้อใดไม่ถูกต้องเกี่ยวกับคัมภีร์อัลกุรอาน ตามความเชื่อของชาวมุสลิม

1. เป็นคัมภีร์สุดท้ายและสูงสุด
2. เป็นคัมภีร์ที่สมบูรณ์ที่สุด
3. เป็นคัมภีร์ศักดิ์สิทธิ์ที่แก้ไขเพิ่มเติมไม่ได้
4. เป็นคัมภีร์ที่พระเจ้าทรงประทานให้ก่อนหน้าหม่อมมัมมัด

474. ข้อความใดเกี่ยวกับนิกายในศาสนาอิสลามถูกต้องที่สุด

1. นิกายซุนหนี่มีบุบักร์เป็นคอลีฟะห์คนแรก
2. นิกายวาฮะบีเกิดขึ้นพร้อม ๆ กับนิกายชีอะฮ์
3. นิกายชีอะฮ์ถือว่า คอลีฟะห์ต้องมาจากการเลือกตั้ง
4. ทุกนิกายแตกต่างกันเฉพาะผู้ก่อตั้งนิกายเท่านั้น

475. คำสอนของพระเยซูไม่เน้นเรื่องใด

1. การทำพิธีกรรมบูชาพระเจ้า
2. จริยธรรมในการดำเนินชีวิต
3. ความรักในพระเจ้าและเพื่อนมนุษย์
4. การเสียสละโดยไม่หวังผลตอบแทน

476. ข้อใดถูกต้องที่สุดเกี่ยวกับศาสนาคริสต์

1. นิกายออร์ทอดอกซ์เป็นนิกายเก่าแก่ที่สุด
2. นิกายโรมันคาทอลิกอนุญาตให้พระชั้นผู้น้อยแต่งงานได้
3. นิกายโปรเตสแตนต์เชื่อว่าทุกคนสามารถติดต่อกับพระเจ้าโดยตรงได้
4. นิกายโรมันคาทอลิก ออร์ทอดอกซ์ และโปรเตสแตนต์ต่างก็เคารพยกย่องมารดาพระเยซู
ว่าเป็นแม่พระ

477. พระพุทธศาสนาต่างกับวิทยาศาสตร์ในด้านใด

1. การเน้นหลักเหตุผล
2. การมุ่งประโยชน์สุขแก่มนุษยชาติ
3. **ความเชื่อในกฎเกณฑ์แห่งธรรมชาติ**
4. ความเชื่อมั่นในศักยภาพทางปัญญาของมนุษย์

478. อริยสัจ 4 เป็นพื้นฐานของหลักธรรมทั้งหลายเพราะเหตุใด

1. เป็นหลักแสดงถึงกฎแห่งกรรม
2. เป็นหลักแสดงถึงการแก้ปัญหาชีวิต
3. **เป็นหลักแสดงถึงการแสวงหาความจริง**
4. เป็นหลักแสดงถึงความเป็นเหตุและผล

479. คำว่า “สังขาร” ในชั้น 5 หมายถึงข้อใด

1. ร่างกายและพฤติกรรมทั้งหมดของร่างกาย
2. การกำหนดรู้เพื่อแยกแยะกายและจิต
3. ประสาทสัมผัสต่าง ๆ ทางตา หู จมูก ลิ้น กาย
4. **แรงจูงใจที่ผลักดันให้มนุษย์กระทำการอย่างใดอย่างหนึ่ง**

480. จิตดี ทนดี สุขาวห : จิตที่ฝึกดีแล้วนำสุขมาให้ พุทธศาสนสุภาษิตบทนี้กล่าวถึง การฝึกจิตเพื่ออะไร

1. **ฝึกให้มีสติควบคุมจิต**
2. ฝึกให้สามารถปฏิบัติตามศีล 5
3. ฝึกให้อดทนต่อความผิดหวัง
4. ฝึกให้จิตใจอ่อนโยน

481. จุดเริ่มต้นของการถวายผ้าจีวรแก่พระสงฆ์เกิดจากการปฏิบัติของผู้ใด

1. หมอชีวกโกมารภัจจ์
2. **พระกัศิณโคตมิเถรี**
3. พระนางมัลลิกา
4. พระยามลิณท์

482. ข้อใดเป็นกุศลพิธี

1. **การเวียนเทียน**
2. การทำบุญวันเกิด
3. การทำบุญอัฐิ
4. การทอดกฐิน



483. วันอัฐมีบูชา มีสาระสำคัญให้ชาวพุทธพึงยึดถือหลักธรรมที่สำคัญเกี่ยวกับเรื่องใด

1. การทำบุญ
2. การเจริญภาวนา
3. การอยู่ร่วมกัน
4. **ความไม่ประมาท**

484. พระธรรมวินัยที่รวบรวมไว้ก่อนการสังคายนาครั้งที่ 5 ใช้วิธีการใด

1. **มุขปาฐะ**
2. จารึกในใบลาน
3. พระสงฆ์ประชุมกันแต่งเป็นร้อยกรอง
4. พระสาวกประมวลหลักคำสอนเป็นหมวดหมู่

485. วิธีคิดแบบโยนิโสมนสิการ ตรงกับข้อใดมากที่สุด

1. **เป็นความคิดเพื่อกำจัดอวิชชาและตัณหา**
2. เป็นความคิดวิเคราะห์เพื่อสร้างทฤษฎีสากล
3. เป็นพัฒนาการตามธรรมชาติที่เกิดจากการทำสมาธิ
4. เป็นความคิดที่เกิดจากการได้รับคำแนะนำสั่งสอนแล้ว

486. ข้อใดคือจุดมุ่งหมายที่สำคัญที่สุดของการอุปสมบทในพระพุทธศาสนา

1. ให้บิดามารดาได้รับส่วนบุญส่วนกุศล
2. ให้มีส่วนร่วมในการปฏิบัติธรรมอย่างถูกต้อง
3. **รู้จักสำรวมกาย วาจา ใจ เพื่อให้เกิดสมาธิและปัญญา**
4. ช่วยสืบทอดพระพุทธศาสนาให้ดำรงอยู่ตลอดไป

487. การมีวินัยของพลเมืองดี สอดคล้องกับหลักประชาธิปไตยประการใดมากที่สุด

1. **หลักนิติธรรม**
2. หลักการปกครองตนเอง
3. หลักการมีส่วนร่วมของประชาชน
4. หลักสิทธิและเสรีภาพของพลเมือง

488. ข้อใดเป็นการคุ้มครองสิทธิมนุษยชนอย่างเป็นรูปธรรมในประเทศไทย

1. การปราบปรามการค้าการร้าย
2. การปราบปรามบ่อนการพนัน
3. การปราบปรามยาเสพติดให้โทษ
4. **การปราบปรามการค้าประเวณี**

489. กรณีที่ข้าราชการต้องการฟ้องร้องผู้บังคับบัญชาเนื่องจากไม่เลื่อนขั้นเงินเดือนให้ จะต้องฟ้องศาลใด

1. ศาลแพ่ง
2. ศาลฎีกา
3. ศาลอุทธรณ์
4. ศาลปกครอง

490. ผู้เยาว์สามารถกระทำการใดได้ด้วยตนเองอย่างสมบูรณ์และถูกต้องตามกฎหมาย

1. ทำพินัยกรรมเมื่ออายุ 16 ปี
2. หมั้นเมื่ออายุ 17 ปี
3. จดทะเบียนสมรสเมื่ออายุ 18 ปี
4. ซื้อรถยนต์เมื่ออายุ 19 ปี

491. เด็กชายแดงอายุ 6 ขวบ ผลักเด็กชายเขียวล้มหัวแตก ต้องเย็บแผล 5 เข็ม เด็กชายแดงต้องรับผิดชอบหรือไม่ อย่างไร

1. รับผิดชอบทั้งในทางอาญาและทางแพ่ง
2. รับผิดชอบทางแพ่งแต่ไม่รับผิดชอบทางอาญา
3. รับผิดชอบทางอาญาแต่ไม่รับผิดชอบทางแพ่ง
4. ไม่ต้องรับผิดชอบทั้งทางอาญาและทางแพ่ง

492. สถานภาพในข้อใดที่ได้มาด้วยความสามารถ

1. เขียวเป็นบุตรของแดงและเป็นนายกเทศมนตรี
2. พลอยเป็นภรรยาของดำและเป็นแม่ของหนูเล็ก
3. เงินเป็นบุตรเขยของทองและเป็นนายธนาคาร
4. น้อยเป็นลูกของเศรษฐีและเป็นหลานของผู้มีอิทธิพล

493. ในอีก 10 ปีข้างหน้า ประเทศไทยจะมีแนวโน้มทางสังคมไปในลักษณะใด

1. ความต้องการบริการของประชากรวัยสูงอายุเพิ่มขึ้น
2. คนในชนบทกับคนในเมืองมีวิถีชีวิตที่แตกต่างกันมากขึ้น
3. อายุขัยโดยเฉลี่ยของประชากรจะลดลง
4. คนในเมืองและชนบทจะย้ายถิ่นน้อยลง

494. ลักษณะของวัฒนธรรมไทยตรงกับข้อใดมากที่สุด

1. สืบทอดมาจากวัฒนธรรมไทยดั้งเดิม
2. รับอิทธิพลมาจากอินเดียและจีน
3. มีอิทธิพลของพระพุทธศาสนาเป็นหลัก

4. มีอารยธรรมของขอมเป็นต้นแบบ

495. ข้อใดไม่ใช่องค์ประกอบสำคัญที่บ่งบอกความเป็น “รัฐ”

1. มีประชากรที่อาศัยอยู่ภายในรัฐ
2. มีรัฐบาลที่มาจากการเลือกตั้งของประชาชน
3. มีอำนาจอธิปไตยที่เป็นอิสระ
4. มีดินแดนที่มีอาณาเขตแน่นอน

496. การแยกใช้อำนาจอธิปไตยโดยมีองค์กร 3 ฝ่าย รับผิดชอบการใช้อำนาจแต่ละด้าน ก่อให้เกิดผลดีอย่างไร

1. เปิดโอกาสให้แต่ละฝ่ายใช้อำนาจได้อย่างมีประสิทธิภาพ
2. ก่อให้เกิดความร่วมมือระหว่างองค์กรแต่ละฝ่าย
3. ส่งเสริมให้แต่ละองค์กรมีระบบการทำงานที่คล่องตัว
4. ทำให้องค์กรแต่ละฝ่ายใช้อำนาจอย่างถูกต้องเหมาะสม

497. เติ็จการอำนาจนิยมและเผด็จการเบ็ดเสร็จนิยมมีความแตกต่างกันในเรื่องใดมากที่สุด

1. ที่มาของผู้ปกครอง
2. อำนาจของผู้ปกครอง
3. ความเสมอภาคของประชาชน
4. สิทธิและเสรีภาพของประชาชน

498. กรณีใดที่กำหนดให้รัฐสภาประชุมร่วมกัน

1. การแก้ไขเพิ่มเติมรัฐธรรมนูญ
2. การพิจารณาถอดถอนนายกรัฐมนตรีออกจากตำแหน่ง
3. การพิจารณาร่างพระราชบัญญัติงบประมาณประจำปี
4. การเปิดอภิปรายทั่วไปเพื่อลงมติไม่ไว้วางใจนายกรัฐมนตรี

499. ประชาชนกลุ่มใดที่มีสิทธิเข้าชื่อร้องขอต่อประธานวุฒิสภาเพื่อถอดถอนข้าราชการการเมืองชั้นผู้ใหญ่ออกจากตำแหน่งได้

1. ประชาชนที่มีสัญชาติไทย
2. ประชาชนที่มีสิทธิเลือกตั้ง
3. ประชาชนที่มีสัญชาติไทยโดยกำเนิด
4. ประชาชนที่บรรลุนิติภาวะแล้ว

500. เจตนารมณ์ของรัฐธรรมนูญแห่งราชอาณาจักรไทย พุทธศักราช 2540 ในการกำหนดให้มืองค์กรอิสระตรงกับข้อใด

1. เพื่อเป็นตัวแทนของประชาชน
2. เพื่อเป็นที่ปรึกษาของรัฐสภา
3. เพื่อตรวจสอบการใช้อำนาจของรัฐ
4. เพื่อสนับสนุนการบริหารงานของรัฐบาล

501. ผู้ใดไม่ต้องพ้นจากตำแหน่งเมื่อมีการยุบสภาผู้แทนราษฎร

1. ประธานรัฐสภา
2. รองประธานรัฐสภา
3. นายกรัฐมนตรี
4. รองนายกรัฐมนตรี

502. ด้วยเหตุผลใดไทยจึงยุติความเป็นปฏิปักษ์ต่อจีนและหันมาสถาปนาความสัมพันธ์ทางการทูตขึ้นใหม่

1. การเปลี่ยนแปลงนโยบายของสหรัฐอเมริกา
2. การเปลี่ยนแปลงทางการเมืองภายในประเทศจีน
3. การเปลี่ยนแปลงนโยบายของกลุ่มประเทศอาเซียน
4. การเปลี่ยนแปลงทางการเมืองภายในประเทศไทย

503. ข้อใดกล่าวเกี่ยวกับระบบเศรษฐกิจได้ถูกต้อง

1. ระบบเศรษฐกิจแบบทุนนิยมไม่ประสบปัญหาพื้นฐานทางเศรษฐกิจ
2. ทุกระบบเศรษฐกิจประสบปัญหาพื้นฐานทางเศรษฐกิจเหมือนกัน
3. ระบบเศรษฐกิจแบบผสมจะใช้กลไกราคาอย่างเดี่ยวในการแก้ไขปัญหาพื้นฐานทางเศรษฐกิจ
4. ระบบเศรษฐกิจแบบสังคมนิยมสามารถแก้ไขปัญหาพื้นฐานทางเศรษฐกิจได้ดีกว่าระบบเศรษฐกิจอื่น

504. ข้อใดเป็นไปตามกฎของอุปสงค์

1. ลองกองปีนี้ราคาไม่แพง คนจึงนิยมซื้อมากบริโภคกันมาก
2. แก้วมังกรเป็นผลไม้สุขภาพที่คนนิยมรับประทาน เกษตรกรจึงปลูกกันมาก
3. พ่อค้าส่งทุเรียนไปขายต่างประเทศมาก แต่ไม่ทำให้ราคาทุเรียนในประเทศแพงขึ้น
4. ง.น้ำมันราคาแพง รัฐบาลจึงมีนโยบายรณรงค์ให้ประชาชนช่วยกันลดการใช้พลังงาน

505. ในการผลิตสินค้าและบริการ ผู้ผลิตต้องคำนึงถึงข้อใดเป็นสำคัญ

1. ผลิตเพื่อสนองความต้องการของผู้บริโภคให้มากที่สุดและมีราคาต่ำ
2. ผลิตโดยคำนึงถึงการใช้จ่ายการผลิตอย่างมีประสิทธิภาพสูงสุด
3. ผลิตให้มีคุณภาพตามมาตรฐานและรับผิดชอบต่อผู้บริโภค
4. **ผลิตให้มีต้นทุนต่ำที่สุด เพื่อให้ได้กำไรสูงสุด**

506. ข้อใดคือผลของการที่รัฐบาลประกาศให้ราคาน้ำมันลอยตัว

1. ทำให้ราคาน้ำมันมีเสถียรภาพมากขึ้น ไม่เกิดปัญหาขาดแคลนน้ำมัน
2. ทำให้ผู้ขายสามารถกำหนดราคาน้ำมันที่ทำให้ตนเองมีกำไรตามที่ต้องการได้
3. **ทำให้ราคาน้ำมันปรับตัวขึ้นลงได้ตามสภาพของตลาด**
4. ทำให้ผู้บริโภคปรับการซื้อน้ำมันให้สอดคล้องกับราคาน้ำมันได้

507. การที่รัฐบาลออกกฎกระทรวงบังคับให้โรงงานอุตสาหกรรมน้ำตาลทรายต้องมีเครื่องบำบัดน้ำเสีย จะส่งผลกระทบต่อราคาและปริมาณดุลยภาพของน้ำตาลทรายอย่างไร

1. ทั้งราคาและปริมาณดุลยภาพลดลง
2. ทั้งราคาและปริมาณดุลยภาพเพิ่มขึ้น
3. ราคาดุลยภาพลดลง แต่ปริมาณดุลยภาพเพิ่มขึ้น
4. **ราคาดุลยภาพเพิ่มขึ้น แต่ปริมาณดุลยภาพลดลง**

508. เหตุใดรัฐบาลต้องกำหนดค่าจ้างขั้นต่ำ

1. เพราะไม่ต้องการให้เกิดปัญหาขาดแคลนแรงงาน
2. เพราะไม่ต้องการให้เกิดอุปทานส่วนเกินของแรงงาน
3. **เพราะต้องการให้ระดับค่าจ้างสูงกว่าระดับดุลยภาพ**
4. เพราะต้องการให้กลไกราคาทำงานได้อย่างสมบูรณ์

509. วิทยาการและเทคโนโลยีก่อให้เกิดผลกระทบต่อสังคมมนุษย์ในปัจจุบันอย่างไร

1. วิธีการดำเนินชีวิตของมนุษย์ยากลำบากมากขึ้น
2. **เกิดปัญหาด้านศีลธรรม จริยธรรม และอาชญากรรม**
3. มนุษย์สูญเสียอำนาจทางเศรษฐกิจและศักดิ์ศรีความเป็นมนุษย์
4. รัฐบาลจะมีบทบาททางเศรษฐกิจน้อยลง

510. มะลินาสร้อยคอตองคำไปจำหน่าย ได้เงิน 12,000 บาท นำไปจ่ายเป็นค่าเล่าเรียนบุตร 7,000 บาท ค่าอาหาร 2,000 บาท ค่าเสื้อผ้านักเรียน 2,500 บาท และค่ารองเท้า 500 บาท จากเหตุการณ์ดังกล่าวเงินไม่ได้ทำหน้าที่ข้อใด

1. เครื่องเก็บรักษาค่า
2. มาตรฐานวัดมูลค่า
3. มาตรฐานในการชำระหนี้
4. สื่อกลางในการแลกเปลี่ยน

511. การที่เอ็นพีแอล (NPL) รวมของธนาคารพาณิชย์ไทยทั้งระบบมีค่าเท่ากับร้อยละ 10 หมายความว่าอย่างไร

1. ธนาคารพาณิชย์ไทยทั้งระบบมีหนี้ที่ธนาคารไม่สามารถชำระได้เท่ากับร้อยละ 10 ของหนี้ทั้งหมด
2. หนี้ที่ไม่ก่อให้เกิดรายได้ของธนาคารพาณิชย์ไทยทั้งระบบเท่ากับร้อยละ 10 ของสินเชื่อทั้งหมดที่ธนาคารให้กู้
3. ร้อยละ 10 ของสินเชื่อทั้งหมดของธนาคารพาณิชย์ไทยทั้งระบบเป็นหนี้ที่เกิดจากการกู้ยืมจากต่างประเทศ
4. ร้อยละ 10 ของสินเชื่อทั้งหมดที่ธนาคารพาณิชย์ไทยทั้งระบบให้กู้ เป็นหนี้ที่ไม่มีหลักทรัพย์ค้ำประกัน

512. การก่อหนี้สาธารณะโดยการขายพันธบัตรให้ธนาคารพาณิชย์และเอกชน จะทำให้เกิดผลตามข้อใด

1. การเพิ่มขึ้นของอัตราดอกเบี้ยในตลาดเงิน
2. การเพิ่มขึ้นของการลงทุนของเอกชน
3. การเพิ่มขึ้นของระดับราคาสินค้าโดยทั่วไป
4. การเพิ่มขึ้นของปริมาณเงินในระบบเศรษฐกิจ

513. ข้อใดไม่ใช่หลักการที่สำคัญของสหกรณ์

1. การให้การศึกษ ฝึกอบรม และสารสนเทศแก่สมาชิก
2. การเป็นสมาชิกที่เปิดกว้างแก่บุคคลในกลุ่มอาชีพเดียวกัน
3. การมีส่วนร่วมทางเศรษฐกิจแก่สมาชิก
4. การควบคุมสมาชิกตามหลักประชาธิปไตย

514. ถ้าอัตราเงินเฟ้อสูงขึ้นมาก นโยบายในข้อใดจะช่วยแก้ปัญหานี้ได้ และเพราะเหตุใด

1. เพิ่มอัตราภาษีให้สูงขึ้น เพื่อลดอำนาจซื้อของประชาชน
2. ลดอัตราดอกเบี้ยเงินกู้ เพื่อจูงใจให้เอกชนกู้เงินไปลงทุนมากขึ้น
3. รัฐบาลเพิ่มเงินเดือนข้าราชการและลูกจ้าง เพื่อบรรเทาความเดือดร้อน
4. ลดอัตราเงินสำรองตามกฎหมายของธนาคารพาณิชย์ เพื่อกระตุ้นการปล่อยสินเชื่อ

515. ถ้าดุลบัญชีเดินสะพัดเกินดุล 1 พันล้านบาท แต่เงินทุนเคลื่อนย้ายสุทธิขาดดุลเป็นมูลค่าเท่ากัน คำตอบในข้อใดถูกต้อง

1. ดุลการชำระเงินสมดุลงบทุนสำรองระหว่างประเทศเป็นศูนย์
2. ดุลการชำระเงินสมดุลงบทุนสำรองระหว่างประเทศคงเดิม
3. ดุลการชำระเงินเกินดุล งบทุนสำรองระหว่างประเทศเพิ่มขึ้น
4. ดุลการชำระเงินขาดดุล งบทุนสำรองระหว่างประเทศลดลง

516. ข้อใดคือประโยชน์ของการทำการค้าระหว่างประเทศตามนโยบายการค้าเสรี

1. เศรษฐกิจของประเทศต่าง ๆ ที่ทำการค้ากัน จะมีเสถียรภาพมากขึ้น
2. แต่ละประเทศที่ทำการค้ากันจะไม่ประสบปัญหาการว่างงาน
3. ก่อให้เกิดการกระจายผลประโยชน์ไปยังประเทศที่ทำการค้ากันอย่างทั่วถึงและเท่าเทียมกัน
4. สินค้าที่แต่ละประเทศส่งออกเป็นสินค้าที่ประเทศมีความชำนาญในการผลิตและมีต้นทุนต่ำ

517. ข้อใดไม่ใช่ลักษณะของตลาดร่วม

1. ประเทศสมาชิกกำหนดนโยบายการเงินและนโยบายการคลังให้เป็นแนวเดียวกัน
2. ประเทศสมาชิกกำหนดอัตราภาษีศุลกากรกับประเทศนอกกลุ่มในอัตราเดียวกัน
3. มีการเคลื่อนย้ายปัจจัยการผลิตระหว่างประเทศสมาชิกอย่างเสรี
4. มีการปลอดภาษีศุลกากรระหว่างประเทศสมาชิก

518. วิฤติเศรษฐกิจของไทยที่เริ่มเมื่อ พ.ศ. 2540 มีสาเหตุสำคัญมาจากข้อใด

1. เงินบาทแข็งค่าเกินไป ทำให้ดุลการค้าขาดดุลมาก
2. เงินบาทอ่อนค่าเกินไป ทำให้ดุลงบประมาณขาดดุลมาก
3. เงินบาทแข็งค่าเกินไป ทำให้บัญชีเดินสะพัดขาดดุลมาก
4. เงินบาทอ่อนค่าเกินไป ทำให้ดุลการชำระเงินขาดดุลมาก

519. ที่กล่าวว่าศิลาจารึกสุโขทัย เป็นหลักฐานปฐมภูมิที่มีคุณค่า เพราะเหตุผลข้อใด

1. เป็นหลักฐานทางประวัติศาสตร์ที่เก่าแก่ที่สุด
2. เป็นบันทึกลายลักษณ์อักษรที่คงทนถาวร
3. เป็นบันทึกเหตุการณ์ที่เกิดจากความประสงค์ของพระมหากษัตริย์ในยุคนั้น
4. เป็นหลักฐานประวัติศาสตร์ที่มีความสมบูรณ์ไม่ต้องค้นคว้าจากหลักฐานอื่น ๆ อีก

520. สมชายและสมหญิงใช้ข้อมูลเดียวกันในการเขียนรายงานประวัติศาสตร์ เรื่องท้าวสุรนารี ผลปรากฏว่างานของสมชายมีคุณค่ามากกว่างานของสมหญิงเพราะเหตุใด

1. การตั้งสมมติฐาน
2. การคัดเลือกข้อมูล
3. การวิเคราะห์ข้อมูล
4. การตรวจสอบข้อมูล

521. ในยุคคลาสสิก จักรพรรดิโรมันสามารถสร้างสังคมนานาชาติภายใต้กฎหมายเดียวกัน โดยใช้ภาษาใดร่วมกัน

1. ภาษากรีก
2. ภาษาละติน
3. ภาษาฮีบรู
4. ภาษาเฮลเลนิก

522. เพราะเหตุใด จึงกล่าวว่า แมกนา คาร์ตา เป็นรัฐธรรมนูญฉบับแรกของโลก

1. เพราะระบุถึงสิทธิขั้นพื้นฐานของมนุษย์
2. เพราะระบุถึงสิทธิและเสรีภาพของประชาชน
3. เพราะระบุถึงกลไกในการปกครองประเทศ
4. เพราะระบุถึงอำนาจอธิปไตยที่มาจากมวลชน

523. ข้อใดไม่ใช่ลักษณะความโดดเด่นของสมัยกลาง

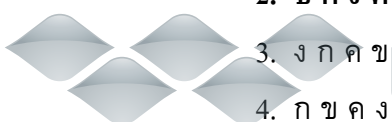
1. การก่อตั้งมหาวิทยาลัยในยุโรปตะวันตก
2. การจัดการศึกษาด้านศิลปศาสตร์อย่างมีระบบ
3. การมีระบบฝึกงานเพื่อพัฒนาฝีมือแรงงาน
4. การให้สิทธิเสมอภาคแก่ประชาชน

524. เหตุการณ์ในประวัติศาสตร์ต่อไปนี้

- ก. การปฏิวัติวิทยาศาสตร์ ข. การฟื้นฟูศิลปวิทยาการ
ค. การปฏิรูปสมัชชเมจิ ง. สงครามฝิ่น

ข้อใดจัดเรียงลำดับเหตุการณ์ก่อนหลังได้ถูกต้อง

1. ก ค ง ข
2. ข ก ง ค
3. ง ก ค ข
4. ก ข ค ง



Wondershare™

PDF Editor

525. ข้อใดไม่ใช่สาเหตุของการล่าอาณานิคม

1. ความต้องการแหล่งวัตถุดิบ และตลาด
2. ความต้องการสร้างความยิ่งใหญ่ของชาติจักรวรรดินิยม
3. ความขัดแย้งในอุดมการณ์ทางเศรษฐกิจและการเมือง
4. ความเชื่อของพวกจักรวรรดินิยมในเรื่อง “ภาระของคนผิวขาว”

526. ปัจจัยข้อใดทำให้การเรียกร้องเอกราชของอินเดียประสบผลสำเร็จ

1. การรวมพลังชาตินิยมชาวฮินดู
2. การต่อสู้อย่างสงบโดยยึดหลักอหิงสา
3. การสนับสนุนจากองค์กรสหประชาชาติ
4. ความร่วมมือกันระหว่างชาวฮินดูและมุสลิม

527. การถ่ายทอดผลงานด้านจิตรกรรมแนวสำนึกนิยมในคริสต์ศตวรรษที่ 19

จิตรกรมีวัตถุประสงค์สำคัญในข้อใด

1. เพื่อสะท้อนชีวิตในสังคมอุตสาหกรรม
2. เพื่อส่งเสริมการเมืองการปกครองแบบประชาธิปไตย
3. เพื่อสะท้อนความก้าวหน้าทางวิทยาศาสตร์และเทคโนโลยี
4. เพื่อสะท้อนบทบาทของศาสนจักรที่มีอิทธิพลต่อสังคม

528. เกณฑ์ใดที่ถือว่าเป็นช่วงเวลาแห่งการสิ้นสุดของประวัติศาสตร์สากลสมัยใหม่

1. การสิ้นสุดของสมัยจักรวรรดินิยม
2. การสิ้นสุดของสงครามโลกครั้งที่ 1
3. การสิ้นสุดของสงครามโลกครั้งที่ 2
4. การสิ้นสุดของสงครามเย็น

529. แนวคำสอนของขงจื้อเน้นความสำคัญในเรื่องใด

1. วิถีแห่งธรรมชาติ
2. การบูชาบรรพบุรุษ
3. ความสัมพันธ์ของคนในสังคม
4. ระเบียบแบบแผนการปกครอง



PDF Editor

530. กุศโลบายทางการเมืองใดที่พระมหากษัตริย์สุโขทัยทรงใช้ในการดำเนินนโยบายเสริมสร้างความเป็นปึกแผ่นของอาณาจักร

1. การควบคุมกำลังคนให้เป็นหมวดหมู่
2. การสร้างความสัมพันธ์ในระบบเครือญาติ
3. การสถาปนารูปแบบการปกครองตามระบบศักดินา
4. การส่งพระโอรสไปปกครองหัวเมืองประเทศราช

531. การปฏิรูปการปกครองในสมัยสมเด็จพระบรมไตรโลกนาถมีลักษณะอย่างไร

1. กระจายอำนาจ และ แบ่งแยกหน้าที่
2. รวมอำนาจเข้าสู่ศูนย์กลาง และ แบ่งแยกหน้าที่
3. รวมอำนาจเข้าสู่ศูนย์กลาง และ รวมหน้าที่
4. กระจายอำนาจ และ จัดลำดับชั้นการบังคับบัญชา

532. การเปิดโอกาสให้ชาวต่างชาติเข้ามาทำงานในประเทศสมัยรัชกาลที่ 3 ถึงรัชกาลที่ 5 ทำให้ไทยได้รับประโยชน์สูงสุดในเรื่องใด

1. การเรียนรู้วิทยาการสมัยใหม่
2. การเรียนรู้ระบบการค้ากับประเทศตะวันตก
3. การแก้ไขปัญหาเรื่องสิทธิสภาพนอกอาณาเขต
4. การรอดพ้นจากการคุกคามของลัทธิจักรวรรดินิยม

533. เย็นเป็นลูกทาสที่เกิดใหม่ และได้รับอิสรภาพโดยสมบูรณ์ตามกฎหมายใน พ.ศ. 2432 แสดงว่า เย็นเกิดในปีใด

1. ปีที่รัชกาลที่ 5 เสด็จเถลิงถวัลย์ราชสมบัติ
2. ปีที่รัชกาลที่ 5 ทรงประกาศใช้พระราชบัญญัติทาส
3. ปีที่รัชกาลที่ 5 ทรงประกาศใช้พระราชบัญญัติการเกณฑ์ทหาร
4. ปีที่รัชกาลที่ 5 ทรงประกาศพระราชบัญญัติพิกัดเกษียณอายุลูกทาสลูกไทย

534. อุบัติเหตุการรั่วไหลของแก๊สมันตภาพรังสี ที่โรงไฟฟ้านิวเคลียร์เชอร์โนบิลของสหภาพโซเวียตใน ค.ศ. 1986 ส่งผลต่อสังคมโลกอย่างไร

1. การเสนอแผนการใช้พลังงานนิวเคลียร์ในประเทศต่าง ๆ
2. การลงนามของประเทศมหาอำนาจในการจำกัดอาวุธนิวเคลียร์
3. การลงมติให้สหประชาชาติเข้าตรวจสอบการใช้นิวเคลียร์ของประเทศสมาชิก
4. การตื่นตัวของนานาชาติในการปฏิรูปเทคโนโลยีโรงไฟฟ้านิวเคลียร์

535. ถ้าวัดระยะทางจริงในภูมิประเทศได้ 2.5 กิโลเมตร และวัดระยะทางในแผนที่ได้ 5 เซนติเมตร แผนที่นี้ใช้มาตราส่วนใด

1. 1 : 5,000
2. **1 : 50,000**
3. 1 : 500,000
4. 1 : 5,000,000

536. ข้อมูลจากดาวเทียม NOAA เป็นประโยชน์ในด้านใด

1. การจัดการป่าไม้
2. การสำรวจทรัพยากรแร่
3. **การพยากรณ์อากาศ**
4. การวางผังเมือง

537. จากภาพ พิกัดภูมิศาสตร์ ก อ่านถูกต้องตรงกับข้อใด

1. **ละติจูด 15 องศาเหนือ ลองจิจูด 105 องศาตะวันออก**
2. ละติจูด 15 องศาใต้ ลองจิจูด 105 องศาตะวันออก
3. ละติจูด 15 องศาเหนือ ลองจิจูด 105 องศาตะวันตก
4. ละติจูด 15 องศาใต้ ลองจิจูด 105 องศาตะวันตก

538. ข้อใดคือประโยชน์ของการเรียกพายุหมุนเขตร้อนให้แตกต่างกันเป็น พายุดีเปรสชัน พายุโซนร้อน หรือพายุไต้ฝุ่น

1. เพื่อให้ทราบแหล่งกำเนิดของพายุ
2. เพื่อใช้ในการตั้งชื่อพายุอย่างเหมาะสม
3. เพื่อให้ทราบทิศทางและการเคลื่อนที่ของพายุ
4. **เพื่อให้ทราบกำลังความแรงและการป้องกัน**

539. เมืองหลวงใดมีทำเลที่ตั้งแตกต่างจากเมืองหลวงอื่น

1. ไคโร
2. ลาปาซ
3. **ลอนดอน**
4. กรุงเทพมหานคร

540. การบริหารจัดการของผู้ว่าราชการจังหวัดแบบบูรณาการควรรำเทคโนโลยีข้อใด มาช่วยในการพัฒนาและตัดสินใจเชิงพื้นที่

1. ระบบช่วยการพัฒนา (DS)
2. **ระบบสนับสนุนการตัดสินใจ (DSS)**

3. ระบบกำหนดตำแหน่งบนโลก (GPS)
4. ระบบสารสนเทศทางภูมิศาสตร์ (GIS)

541. ข้อใดเป็นวัฒนธรรมไทยที่เกิดจากความสัมพันธ์ระหว่างระบบธรรมชาติกับระบบมนุษย์

1. ประเพณีสงกรานต์
2. ประเพณีบวชลูกแก้ว
3. ประเพณีขึ้นบ้านใหม่
4. ประเพณีโกนจุก

542. การสลายตัวของหินบะซอลต์ แอนดีไซต์ และทัปต์ ทำให้เกิดลักษณะเฉพาะทางภูมิศาสตร์ที่เหมาะสมกับการผลิตในข้อใด

1. อุตสาหกรรมซีเมนต์ที่จังหวัดสระบุรี
2. อุตสาหกรรมเซรามิกที่จังหวัดลำปาง
3. การปลูกพืชไร่ที่จังหวัดกาญจนบุรี
4. การปลูกมะขามหวานที่จังหวัดเพชรบูรณ์

543. ถ้าน้ำในแม่น้ำพุทไธน้ำจะบอกประชากรริมฝั่งอย่างไร จึงจะให้น้ำและประชากรริมฝั่งมีความสุขยืนนาน

1. อย่าเอาฉันไปขังไว้ ปลอຍให้ฉันเป็นไปตามธรรมชาติเถิด
2. นำฉันไปใช้เท่าที่จำเป็นและช่วยดูแลความสะอาดให้ฉันด้วย
3. นำสิ่งต่าง ๆ มาตกแต่งให้ฉันสวยงามตามที่ท่านต้องการ
4. ฉันต้องการอยู่ตามลำพังไม่ยุ่งเกี่ยวกับใคร

544. "Give Earth a Chance" ซึ่งเป็นคำขวัญของวันสิ่งแวดล้อมโลกเมื่อวันที่ 5 มิถุนายน พ.ศ.

2545 ตรงกับข้อความใด

1. ให้โอกาสโลก พินคินความสดใสให้ชีวิต
2. โลกจะเสียโอกาส หากผิดพลาดด้านสิ่งแวดล้อม
3. ช่วยกันรักษาโลก ด้วยการให้โอกาสแก่สิ่งแวดล้อม
4. เชื่อมโยงโลกกว้าง สร้างโอกาสให้สิ่งมีชีวิต

545. ผู้ใดกระทำผิดตามพระราชบัญญัติคุ้มครองผู้ไม่สูบบุหรี่พุทธศักราช 2535

1. ฦรงค์นอนสูบบุหรี่ที่บ้านเพื่อน
2. พรชัยนั่งสูบบุหรี่ในรถยนต์ส่วนตัว
3. ไพบุลย์ยืนสูบบุหรี่ในตู้โทรศัพท์สาธารณะ
4. วิจิตรเดินสูบบุหรี่ที่ระเบียงบ้าน

546. ประเทศไทยมีนโยบายอย่างไรเกี่ยวกับอาหารที่มีพีซีดีเปลี่ยนแปลงพันธุกรรมเป็นส่วนประกอบ

1. ออกกฎหมายห้ามนำเข้า
2. สนับสนุนให้มีการผลิตภายในประเทศ
3. ให้นำเข้าเฉพาะผลิตภัณฑ์สำเร็จรูป
4. ออกกฎหมายให้มีการติดฉลากผลิตภัณฑ์ที่มีจีเอ็มโอเกินร้อยละ 5

547. ข้อใดไม่ใช่ลักษณะของพื้นที่สงวนชีวลัย

1. มีการรวบรวมพันธุ์ไม้ไว้เป็นหมวดหมู่
2. เป็นแหล่งศึกษาด้านวิทยาศาสตร์
3. มีความหลากหลายทางพันธุกรรม
4. เป็นระบบนิเวศวิทยาธรรมชาติ

548. “วิธีการแก้งดิน” ตามแนวพระราชดำริของพระบาทสมเด็จพระเจ้าอยู่หัวรัชกาลปัจจุบัน เป็นการแก้ปัญหาของดินประเภทใด

1. ดินเค็มจัด
2. ดินเปรี้ยวจัด
3. ดินถูกชะล้างพังทลาย
4. ดินขาดความอุดมสมบูรณ์

549. ภูมิปัญญาไทยในการจัดการทรัพยากรน้ำคือข้อใด

1. มาบ
2. บาราย
3. ชลัมพู
4. สรีดภงส์

550. ใครคือผู้ที่มีส่วนร่วมในการทำลายชั้นโอโซนของโลกมากที่สุด

1. นายแก่งใช้สีสเปรย์กระป๋องแต่งรถจักรยาน
2. นางสาวเนยฉีดฟันปุ๋ยเคมีในไร่ผัก
3. นายเอสใช้ทินเนอร์ผสมสีน้ำมันซ่อมแซมบ้าน
4. นางสาวอ่อมใช้สารกำจัดศัตรูพืชในสวนผลไม้

551. ข้อใดเป็นคำอธิบายเกี่ยวกับวัฒนธรรมได้ถูกต้องที่สุด

1. วัฒนธรรมไทยมีวิวัฒนาการแบบสายเดียว
2. วัฒนธรรมที่ดีต้องมีความคงที่ตลอดเวลา
3. วัฒนธรรมสามารถหยิบยืมและเปลี่ยนแปลงได้
4. วัฒนธรรมมีความหมายเฉพาะในทางวัตถุเท่านั้น

552.สถานการณ์ใดที่เป็นกระบวนการขัดเกลาทางสังคมทางอ้อม

1. ด.ช.ดําเล่นช้อยหาากับเพื่อนชั้นอนุบาล 3
2. น.ส.วาริฎกกลงโทษเนื่องจากทุจริตในการสอบ
3. ปู่และย่าสอนให้เด็กชายแดง เป็นผู้มีสัมมาคารวะ
4. ตำรวจจราจรออกไปสั่งแก่นายธรรมาซื้อหาฝ่าฝืนกฎจราจร

553.ความสัมพันธ์ในข้อใดเป็นความสัมพันธ์แบบปฐมภูมิ

1. ลูกพี่ กับ ลูกน้อง
2. พนักงานขาย กับ ลูกค้า
3. พี่น้องร่วมบิดามารดา
4. ผู้อำนวยการ กับ เลขานุการ

554.หน้าที่ใดที่สถาบันทางสังคมอื่นทำแทนสถาบันครอบครัวไม่ได้

1. เสียภาษีให้รัฐ
2. ผลิตสมาชิกใหม่
3. ให้ความอบอุ่นแก่สมาชิก
4. คຸ້ມกันภัยให้แกสมาชิก

555.ข้อความใดอธิบายเกี่ยวกับสถาบันทางสังคมได้ถูกต้องที่สุด

1. สถาบันทางสังคมเกิดจากกลุ่มต่าง ๆ ที่สัมพันธ์กัน
2. สถาบันทางสังคมทุกสถาบันมีความเกี่ยวข้องสัมพันธ์กัน
3. สถาบันทางสังคมมีประวัติยาวนานจึงจะเป็นสถาบันที่สำคัญ
4. หน้าที่ของสถาบันทางสังคม คือ การมุ่งจรรโลงวัฒนธรรมประเพณีอันดีงามของชาติเท่านั้น

556.การกระทำของบุคคลในข้อใดที่ไม่เป็นการแสดงบทบาททางสังคม

1. ด.ช. แดงขี่จักรยานไปสวนสาธารณะ
2. ร.ต.ต. วีระจับวัยรุ่นขี่จักรยานยนต์ฝ่าสัญญาณไฟแดง
3. ด.ช. ชยันใช้เวลาว่างหลังเลิกเรียนทำการบ้าน
4. ครูไหวอบรมนักเรียนก่อนสอนหนังสือ

557.ข้อใดต่อไปนี้เป็นจารีตในสังคมไทย

1. การทำพิธีสืบชะตาแม่น้ำ
2. การที่สตรีนุ่งผ้าซิ่นไปทำบุญที่วัด
3. การรดน้ำดำหัวผู้ใหญ่ในเทศกาลสงกรานต์
4. การห้ามสตรีเข้าไปในพื้นที่ชั้นในรอบองค์พระธาตุดอยสุเทพ

558. ค่านิยมมีความสำคัญต่อสังคมในด้านใดมากที่สุด

1. เป็นเอกลักษณ์ประจำชาติ
2. ทำให้สังคมมีระเบียบแบบแผน
3. เป็นที่มาที่สำคัญของบรรทัดฐานทางสังคม
4. เป็นตัวกำหนดความเจริญก้าวหน้าของสังคม

559. แผนพัฒนาในข้อใดที่มีผลทำให้เกิดการเปลี่ยนแปลงโครงสร้างของสังคมไทยมากที่สุด

1. แผนพัฒนาจังหวัดแบบบูรณาการ
2. แผนปฏิรูปการศึกษาแห่งชาติ
3. แผนพัฒนาเศรษฐกิจและสังคมแห่งชาติ
4. แผนปฏิรูประบบสาธารณสุขแห่งชาติ

560. ข้อใดไม่ใช่พฤติกรรมของวัยรุ่นที่เกิดจากการได้รับอิทธิพลจากสื่อมวลชนโดยตรง

1. วัยรุ่นนิยมใส่เสื้อสายเดี่ยวเอวลอยตามศิลปินนักร้อง นักแสดง
2. วัยรุ่นแห่กันไปต้อนรับศิลปินนักร้องวัยรุ่นญี่ปุ่นที่มาเปิดการแสดงดนตรี
3. วัยรุ่นพากันสมัครแข่งกันตามเวทีประกวดต่างๆ เพื่อก้าวเข้าสู่วงการบันเทิง
4. วัยรุ่นเริ่มมีพฤติกรรมเบี่ยงเบนทางเพศมากขึ้นจากการชมภาพยนตร์โฆษณา
สินค้า

561. ปัญหาข้อใดไม่ใช่ผลที่เกิดจากสถาบันครอบครัวทำหน้าที่บกพร่อง

1. สามีภรรยาหย่าร้างง่ายขึ้นเมื่อเกิดมึงกัน
2. เด็กมีนิสัยก้าวร้าวเอาแต่ใจเนื่องจากถูกพ่อแม่เลี้ยงดูอย่างตามใจ
3. วัยรุ่นแก้ปัญหาด้วยการฆ่าตัวตายเมื่อเกิดปัญหาขัดแย้งกับพ่อแม่
4. พ่อแม่เข้ามาหางานทำในเมือง ทำให้ต้องทิ้งลูกไว้กับปู่ ย่า ตา ยาย

562. การบริจาคทานที่เรียกว่า "ชะกาต" ในศาสนาอิสลามมีจุดประสงค์หลักเพื่ออะไร (Ent 48)

1. เพื่อให้เราสละความเห็นแก่ตัว
2. เพื่อให้เรารู้จักช่วยเหลือเพื่อนมนุษย์
3. เพื่อให้เรารู้จักทำความดีที่ใคร ๆ ก็สามารถทำได้ถ้าประสงค์จะทำ
4. เพื่อให้สังคมมีหลักประกันว่าคนที่ไม่สามารถช่วยเหลือตนเองได้ในทางเศรษฐกิจ จะได้รับการคุ้มครอง

563. การให้ทานตามคำสอนของพุทธศาสนา มีจุดประสงค์หลักเพื่ออะไร

1. ขำระความโลภในใจ
2. สร้างความเท่าเทียมกันในสังคม
3. ทำความดีเพื่อส่งผลให้เกิดใหม่ในภพภูมิที่ดี
4. เพื่อให้ตนได้ทำความดีและช่วยเหลือผู้อื่นที่ขาดแคลน

564. ศาสนาพุทธ คริสต์ อิสลาม พราหมณ์ - ฮินดู มีความเชื่อที่สอดคล้องกันในเรื่องใดมากที่สุด

1. เรื่องวันสิ้นโลก
2. เรื่องพรหมลิขิต
3. เรื่องพระเจ้าสร้างโลก
4. เรื่องการมีอยู่ของเทพเจ้าและเทวดา

565. หลักธรรมข้อใดของศีล 5 ในศาสนาพุทธ ที่ตรงกับหลักธรรมในศาสนาอื่นมากที่สุด

1. การไม่ลักขโมย
2. การไม่ล่วงประเวณี
3. การไม่ฆ่าไม่เบียดเบียน
4. การไม่เสพสิ่งเสพติดให้โทษ

566. ข้อใดคือเงื่อนไขที่สำคัญที่สุดในการพิจารณาว่าการปกครองในประเทศใดเป็นประชาธิปไตย

1. มีรัฐธรรมนูญที่กำหนดสิทธิและหน้าที่ของประชาชนไว้อย่างชัดเจน
2. มีการเลือกตั้งที่โปร่งใส ปราศจากการซื้อสิทธิ์ขายเสียง
3. มีช่องทางให้ประชาชนมีส่วนร่วมในการปกครอง
4. มีรัฐบาลที่รับผิดชอบต่อชีวิตความเป็นอยู่ของประชาชน

567. การเข้าชื่อเสนอญัตติขอเปิดอภิปรายทั่วไปเพื่อลงมติไม่ไว้วางใจนายกรัฐมนตรี จะต้องใช้คะแนนเสียงในส่วนเท่าใดของจำนวนสมาชิกทั้งหมดที่มีอยู่ของสภาผู้แทนราษฎร

1. ไม่น้อยกว่า 1 ใน 5
2. ไม่น้อยกว่า 2 ใน 5
3. ไม่น้อยกว่า 3 ใน 5
4. ไม่น้อยกว่ากึ่งหนึ่ง



PDF Editor

568. ข้อใดแสดงส่วนของสมาชิกรัฐสภาผู้แทนราษฎรแบบแบ่งเขตเลือกตั้งกับแบบสัดส่วนตามที่บัญญัติไว้ในรัฐธรรมนูญแห่งราชอาณาจักรไทยได้ถูกต้อง

1. 250 : 250
2. 300 : 200
3. 350 : 150
4. **400 : 80**

569. ข้อใดไม่ใช่ลักษณะสำคัญของการปกครองในสมัยสุโขทัย

1. การสร้างระบบศักดินาเพื่อกำหนดฐานะของบุคคลในสังคม
2. การถือเอาราชธานีเป็นศูนย์กลางการปกครอง
3. การใช้คำนำหน้าพระนามพระมหากษัตริย์ว่าพ่อขุน
4. การแบ่งระดับความสำคัญของหัวเมือง

570. ข้อใดคือปัจจัยสำคัญที่ส่งผลให้เกิดการเปลี่ยนแปลงทางการเมืองในวันที่ 14 ตุลาคม พ.ศ. 2516

1. ความเป็นปึกแผ่นของกองทัพ
2. ความไร้ประสิทธิภาพของระบบราชการ
3. ความขัดแย้งในรัฐสภา
4. **การเคลื่อนไหวขององค์การนิสิตนักศึกษา**

571. พฤติกรรมใดที่ไม่ถือว่าเป็นการมีส่วนร่วมทางการเมืองในระบอบประชาธิปไตย

1. พนักงานการไฟฟ้าฝ่ายผลิตประท้วงนโยบายการแปรรูปรัฐวิสาหกิจของรัฐบาล
2. **คณะกรรมการความสงบเรียบร้อยแห่งชาติทำรัฐประหารรัฐบาลพลเอกชาติชาย ชุณหะวัณ**
3. นักวิชาการวิจารณ์นโยบายเศรษฐกิจของรัฐบาลชุดปัจจุบัน
4. ทหารเข้าแถวลงคะแนนเสียงเลือกตั้งที่หน่วยเลือกตั้งใกล้เขตทหาร

572. เนื้อร้องเพลงชาติไทยไม่ได้กล่าวถึงเรื่องใด

1. ลักษณะนิสัยของประชากรของรัฐ
2. ระบอบการปกครองของรัฐ
3. **องค์กรที่ใช้อำนาจการปกครองของรัฐ**
4. ความเป็นอิสระในการใช้อำนาจการปกครองของรัฐ



PDF Editor

573. การปกครองแบบกึ่งประธานาธิบดีกึ่งรัฐสภาถูกนำมาใช้เพื่อแก้ไขปัญหาใด

1. ความไม่เสถียรภาพของรัฐบาล
2. **เผด็จการทางรัฐสภา**
3. การตรวจสอบและถ่วงดุลอำนาจ
4. การมีส่วนร่วมทางการเมืองของประชาชน

574. การอุดช่องว่างของประมวลกฎหมายแพ่งและพาณิชย์ให้ใช้กฎหมายตามลำดับก่อนหลังในข้อใด

1. **จารีตประเพณี การใช้กฎหมายที่ใกล้เคียง หลักกฎหมายทั่วไป**
2. จารีตประเพณี หลักกฎหมายทั่วไป การใช้กฎหมายที่ใกล้เคียง
3. หลักกฎหมายทั่วไป จารีตประเพณี การใช้กฎหมายที่ใกล้เคียง
4. หลักกฎหมายทั่วไป การใช้กฎหมายที่ใกล้เคียง จารีตประเพณี

575. ข้อใดแสดงว่ากฎหมายแตกต่างจากศีลธรรมมากที่สุด

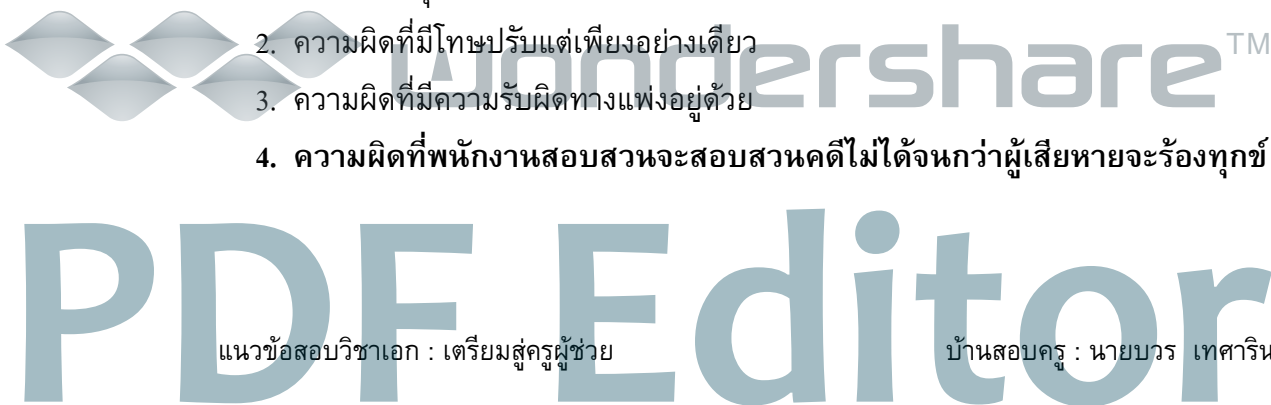
1. กฎหมายเขียนเป็นลายลักษณ์อักษร แต่ศีลธรรมไม่เขียนเป็นลายลักษณ์อักษร
2. กฎหมายควบคุมมนุษย์ทั้งทางกาย แต่ศีลธรรมควบคุมทั้งทางกายและจิตใจ
3. **กฎหมายมีบทกำหนดโทษผู้ฝ่าฝืน แต่ศีลธรรมไม่มีบทกำหนดโทษผู้ฝ่าฝืน**
4. กฎหมายเป็นสิ่งที่มนุษย์สร้างขึ้นจากความจำเป็นทางสังคม แต่ศีลธรรมเป็นสิ่งที่มนุษย์สร้างขึ้นจากธรรมชาติ

576. การแบ่งประเภทกฎหมายตามหน้าที่ของกฎหมายคือข้อใด

1. กฎหมายเอกชน กฎหมายมหาชน
2. **กฎหมายสารบัญญัติ กฎหมายวิธีสบัญญัติ**
3. รัฐธรรมนูญ พระราชบัญญัติ พระราชกฤษฎีกา
4. กฎหมายแพ่ง กฎหมายอาญา กฎหมายปกครอง

577. ความผิดอันยอมความได้หมายถึงข้อใด

1. ความผิดลหุโทษ
2. ความผิดที่มีโทษปรับแต่เพียงอย่างเดียว
3. ความผิดที่มีความรับผิดชอบทางแพ่งอยู่ด้วย
4. **ความผิดที่พนักงานสอบสวนจะสอบสวนคดีไม่ได้จนกว่าผู้เสียหายจะร้องทุกข์**



578.เมื่อศาลพิพากษาให้ลูกหนี้แพคดี ใครมีอำนาจยึดทรัพย์สินของลูกหนี้มาชำระหนี้

1. เจ้าหน้าที่ตำรวจ
2. พนักงานอัยการ
3. เจ้าพนักงานบังคับคดี
4. เจ้าหนี้ตามคำพิพากษา

579.ปัจจัยที่ทำให้แม่น้ำเจ้าพระยา แม่น้ำมูล แม่น้ำชี แม่น้ำบางปะกง และแม่น้ำแม่กลองตอนปลายคดไปโค้งมา คือข้อใด

1. ปริมาณน้ำในลำน้ำมีมากเกินไป
2. น้ำที่ไหลในลำน้ำมีตะกอนมากเกินไป
3. ความลาดเอียงของลำน้ำมีน้อยเกินไป
4. ลำน้ำมีความยาวมากเกินไป

580.เพราะเหตุใดภาคตะวันออกเฉียงเหนือจึงมีปริมาณน้ำฝนมากกว่าภาคกลางตอนบน

1. เพราะมีโอกาสได้รับฝนจากพายุดีเปรสชัน
2. เพราะได้รับฝนทั้งมรสุมฤดูร้อนและมรสุมฤดูหนาว
3. เพราะได้รับฝนจากมรสุมตะวันออกเฉียงเหนือซึ่งพัดมาจากทะเลจีนใต้
4. เพราะปัจจุบันภาคตะวันออกเฉียงเหนือปลูกป่าและสวนยางพารามากขึ้น จึงทำให้มีปริมาณฝนสูงกว่าภาคกลางตอนบน

581.การเกิดแผ่นดินไหวในภาคเหนือและภาคตะวันตกของประเทศไทยมีผลมาจากข้อใด

1. พื้นที่เป็นเขตภูเขาไฟมาก่อน
2. พื้นที่เป็นเขตภูเขาไฟมาก่อน
3. เป็นเขตที่เปลือกโลกถูกแรงกดทับจากภูเขามากที่สุด
4. พื้นที่อยู่ใกล้เขตภูเขาหินใหม่ซึ่งทอดตัวผ่านทางตะวันตกของพม่า

582.ข้อใดเป็นลักษณะที่คล้ายคลึงกันระหว่างภาคตะวันออกเฉียงเหนือและภาคใต้ของไทย

1. ทิศทางการไหลของแม่น้ำไปทางเดียวกัน
2. จำนวนเกาะนอกชายฝั่งใกล้เคียงกัน
3. ทางตอนบนของภาคเป็นที่ราบลุ่มแม่น้ำเหมือนกัน
4. มีแม่น้ำสายสั้น ๆ และหินมีอายุเก่าแก่ใกล้เคียงกัน

583.สาเหตุที่ทำให้ความสมดุลของระบบนิเวศวิทยาของภาคใต้ในปัจจุบันเปลี่ยนแปลงไปมากที่สุดคืออะไร

1. การทำเหมืองแร่ดีบุก
2. การทำลายแนวปะการังชายฝั่ง
3. การสร้างโรงงานอุตสาหกรรม
4. การทำลายป่าชายเลนเพื่อทำนาเกลือ

584.ป่าไม้ใดมีได้จัดอยู่ในประเภทป่าผลัดใบ

1. ป่าดิบแล้ง
2. ป่าเบญจพรรณ
3. ป่าหญ้าหรือป่าละเมาะ
4. ป่าเต็งรัง ป่าแดง ป่าโคก หรือป่าแพะ

585.เหตุใดดินส่วนใหญ่ของประเทศไทยที่ตั้งอยู่ในเขตร้อนชื้นจึงมีความอุดมสมบูรณ์ต่ำ

1. เกิดพายุฝนฟ้าคะนองบ่อย ทำให้การชะล้างพังทลายของดินมีมาก
2. มีการชะล้างของแร่ธาตุในดินลงไปสะสมไว้ในดินชั้นล่างมาก
3. การรักษาป่าต้นน้ำลำธารและปลูกป่าเศรษฐกิจเพิ่มมากขึ้น
4. การมีระบบขนส่งมวลชนประเภทรถไฟลอยฟ้าและรถไฟใต้ดิน

586.วิธีที่ดีที่สุดในการพัฒนาทรัพยากรน้ำเพื่อการเกษตรสำหรับเกษตรกรในประเทศไทย คือข้อใด

1. การขุดบ่อน้ำขนาดเล็กตามไร่นาเพิ่มมากขึ้น
2. การสร้างเขื่อนเก็บน้ำเพื่อการเกษตรเพิ่มมากขึ้น
3. การรักษาป่าต้นน้ำลำธารและปลูกป่าเศรษฐกิจเพิ่มมากขึ้น
4. การนำน้ำทิ้งจากกิจกรรมอื่นมาใช้เพื่อการเกษตรเพิ่มมากขึ้น

587.ปัญหามลพิษทางอากาศอันเนื่องมาจากการจราจรติดขัดในกรุงเทพมหานครได้รับการแก้ไขให้ดีขึ้นจากการพัฒนาด้านใด

1. การสร้างสวนสาธารณะเพิ่มขึ้น
2. การกระจายแหล่งงานออกไปทุกมุมเมือง
3. การติดตั้งระบบฟอกอากาศในยานพาหนะเดินทางทุกชนิด
4. การมีระบบขนส่งมวลชนประเภทรถไฟลอยฟ้าและรถไฟใต้ดิน

588. ข้อใดมิใช่ผลกระทบต่องlobal และการดำรงชีวิตของมนุษย์จากปรากฏการณ์เอลนีโญ

1. ทำให้ธารน้ำแข็งขั้วโลกละลาย
2. ทำให้เกิดภาวะฝนตกหนักและน้ำท่วม
3. ทำให้ฝนไม่ตกตามฤดูกาล
4. ทำให้อุณหภูมิของน้ำทะเลสูงขึ้น

589. การประชุมเอตส์โลก ครั้งที่ 15 ในประเทศไทย เมื่อวันที่ 11-16 กรกฎาคม 2547 มีจุดประสงค์สำคัญในเรื่องใด

1. การไม่เลือกปฏิบัติต่อผู้ติดเชื้อเอตส์
2. การสร้างภูมิคุ้มกันไม่ให้เด็กแรกเกิดติดเชื้อเอตส์
3. การใช้เทคโนโลยีระดับท้องถิ่นเพื่อป้องกันโรคเอตส์
4. ออกกฎหมายคุ้มครองแรงงานเด็กและสตรีที่ติดเชื้อเอตส์

590. ปรากฏการณ์ใดที่เกิดขึ้นและสะท้อนภาวะสิ่งแวดล้อมโลกในปัจจุบัน

1. ชิลีเป็นประเทศเดียวที่ประสบกับการเกิดปรากฏการณ์เอลนีโญ
2. ฝนกรดมักเกิดขึ้นในเมืองใหญ่ๆ และไม่มีผลกระทบต่อป่าไม้โดยตรง
3. โรงงานอุตสาหกรรมใช้น้ำจืดในส่วนที่มากที่สุดในโลก
4. ความยั่งยืนของป่าฝนเขตร้อนของโลกจะช่วยลดอัตราเร่งในการเปลี่ยนแปลงภูมิอากาศของโลก

591. การศึกษาในข้อใดไม่สามารถใช้เทคโนโลยีภาพถ่ายดาวเทียม

1. การใช้ที่ดิน
2. พื้นที่น้ำท่วม
3. แหล่งโบราณสถาน
4. แหล่งแร่ทองคำในถ้ำ

592. เหตุใดวิชาเศรษฐศาสตร์จึงมีความสำคัญต่อการดำเนินชีวิตประจำวันของมนุษย์

1. มนุษย์มีความต้องการสินค้าและบริการเพิ่มขึ้นตลอดเวลา
2. มนุษย์มีรายได้จำกัด แต่มีความต้องการสินค้าที่ไม่จำกัด
3. ทรัพยากรมีอยู่อย่างจำกัด มนุษย์จึงต้องจัดสรรการใช้ทรัพยากรเหล่านั้นให้เกิดประโยชน์สูงสุด
4. ปัจจุบันเป็นยุคโลกไร้พรมแดน มีการค้าขายแบบเสรี มนุษย์จึงควรมีความรู้เกี่ยวกับเศรษฐศาสตร์

593. ข้อใดคือปัจจัยสำคัญที่จะกำหนดว่าในขณะที่โดยขณะหนึ่งสังคมควรจะผลิตสินค้าต่างๆ จำนวนเท่าใดในระบบเศรษฐกิจแบบทุนนิยม

1. กลไกราคา
2. กำไรของผู้ผลิต
3. ความพอใจของผู้บริโภค
4. นโยบายของภาครัฐและเอกชน

594. การที่หน่วยธุรกิจหน่วยใดหน่วยหนึ่งก่อให้เกิดมลพิษ ทำให้ผู้อื่นได้รับความเดือดร้อน ความเสียหายดังกล่าวนี้คือต้นทุนประเภทใด

1. ต้นทุนดำเนินการ
2. ต้นทุนทางสังคม
3. ต้นทุนสารสนเทศ
4. ต้นทุนค่าเสียโอกาส

595. ในทางทฤษฎีเศรษฐศาสตร์ ถ้าเสื้อเชิ้ตเป็นสินค้าปกติ การที่ นาย ก ซื้อเสื้อเชิ้ตเพิ่มมากขึ้น กว่าที่เคยซื้อในรอบ 1 ปี อาจเกิดจากสาเหตุ

1. ราคาเสื้อเชิ้ตเพิ่มสูงขึ้น
2. รายได้ของนาย ก ลดต่ำลง
3. รสนิยมของนาย ก เปลี่ยนไปใช้เสื้อเชิ้ตมากขึ้น
4. ราคาเสื้อเชิ้ตและรายได้ของนาย ก เพิ่มสูงขึ้น

596. ปัจจัยใดไม่มีผลกระทบต่อผลิตภัณฑ์มวลรวมในประเทศ (GDP)

1. การบริโภคของครัวเรือน
2. การชำระหนี้ต่างประเทศ
3. การลงทุนของหน่วยธุรกิจ
4. การใช้จ่ายในการซื้อสินค้าและบริการของรัฐ

597. อัตราเงินเฟ้อและอัตราการว่างงานมักจะมีความสัมพันธ์กันในลักษณะใด

1. เปลี่ยนแปลงในสวนคงที่
2. เปลี่ยนแปลงในส่วนต่างกัน
3. เปลี่ยนแปลงในทิศทางเดียวกัน
4. เปลี่ยนแปลงในทิศทางตรงกันข้ามกัน

598. ถ้าอัตราแลกเปลี่ยนเงินตราระหว่างประเทศเปลี่ยนแปลงจาก 40 บาท ต่อ 1 ดอลลาร์สหรัฐ เป็น 38 บาท ต่อ 1 ดอลลาร์สหรัฐ ประเทศไทยมีแนวโน้มที่จะเผชิญกับสถานการณ์ในข้อใด

1. มูลค่าจากสินค้าส่งออกเพิ่มมากขึ้น
2. ระดับสินค้าในประเทศเพิ่มขึ้น
3. การลงทุนจากสหรัฐอเมริกาเพิ่มขึ้น
4. **นักท่องเที่ยวอเมริกันมาท่องเที่ยวในประเทศไทยลด**

599. ข้อใดคือผลที่คาดว่าจะเกิดขึ้นในลำดับแรกจากการนำนโยบายกองทุนหมู่บ้านมาใช้ในประเทศไทย

1. **มูลค่าผลิตภัณฑ์มวลรวมภายในประเทศเพิ่มขึ้น**
2. มูลค่าผลิตภัณฑ์มวลรวมภายในภูมิภาคเพิ่มขึ้น
3. มูลค่าผลิตภัณฑ์มวลรวมภายในจังหวัดเพิ่มขึ้น
4. มูลค่าผลิตภัณฑ์มวลรวมภายในตำบลเพิ่มขึ้น

600. อุตสาหกรรมประเภทใดที่ไม่มีข้อจำกัดมากนัก และสามารถส่งเสริมให้ดำเนินการได้ในทุกภูมิภาคของประเทศไทย

1. สิ่งทอ
2. อัญมณี
3. **การท่องเที่ยว**
4. เครื่องปั้นดินเผา

601. การดำเนินการอะไรในข้อต่อไปนี้ที่แสดงถึงจุดอ่อนในการพัฒนาเศรษฐกิจของประเทศไทยในระยะเวลาที่ผ่านมา

1. การมุ่งเน้นการกระจายรายได้
2. การมุ่งเน้นเสถียรภาพทางเศรษฐกิจ
3. **การมุ่งเน้นความเจริญเติบโตทางเศรษฐกิจ**
4. การมุ่งเน้นความเสมอภาคทางเศรษฐกิจ

602. เพราะเหตุใดการเปลี่ยนแปลงของเศรษฐกิจโลกจึงส่งผลต่อเศรษฐกิจของประเทศไทย

1. ประเทศไทยมีหนี้ต่างประเทศสูง
2. **ประเทศไทยมีระบบเศรษฐกิจแบบเปิด**
3. ประเทศไทยมีการสนับสนุนการลงทุนในต่างประเทศ
4. ประเทศไทยมีการอนุญาตให้ชาวต่างประเทศเข้ามาลงทุนในประเทศ

603. การดำเนินการของรัฐบาลข้อใดที่สามารถก่อให้เกิดการกระจายรายได้อย่างเป็นธรรมได้ดีที่สุด

1. การประกันราคาพืชผลทางการเกษตร
2. การทำให้รายได้ต่อหัวของประชากรสูงขึ้น
3. การจัดเก็บภาษีอากรและการใช้จ่ายอย่างเหมาะสม
4. การเปิดเสรีทางการค้าและการรักษาระดับราคาสินค้า

604. ปัญหาที่สำคัญที่สุดของเกษตรกรในภาคตะวันออกเฉียงเหนือของไทยคือข้อใด

1. ระดับรายได้ต่ำ
2. การขาดที่ดินทำกิน
3. การขาดแคลนน้ำในการเพาะปลูก
4. การขาดเทคโนโลยีการผลิตใหม่ๆ

605. ทาสในข้อใดที่ไม่อาจไถ่ถอนตนเองให้เป็นอิสระได้

1. นางสีถูกพอนำมาขายใช้หนี้การพนันแก่นายอากรเส็ง
2. นายหม่องถูกจับเป็นเชลยศึกคราวสงครามเก้าทัพ
3. นายยิ้มขายตนเองแก่ขุนช้างตอนนาล่ม
4. หลวงวิเศษมอบนางขำให้แก่ธิดาของตนเมื่อออกเรือน

606. ข้อใดไม่ตรงกับพระราชประสงค์ของพระบาทสมเด็จพระจุลจอมเกล้าเจ้าอยู่หัวตามพระราชดำรัสที่ว่า " เราไม่ได้มาเรียนเป็นฝรั่ง เราเรียนเพื่อจะได้เป็นคนไทยที่มีความรู้เสมอดีฝรั่ง "

1. ต้องการพัฒนาประเทศให้สามารถต่อต้านจักรวรรดินิยม
2. ต้องการพัฒนาประชาชนให้ไปศึกษาต่อในต่างประเทศ
3. ต้องการพัฒนาประชาชนให้มีความรู้เท่าเทียมกับชาวตะวันตก
4. ต้องการพัฒนาประชาชนให้สามารถนำความรู้มาพัฒนาประเทศ

607. ข้อใดเป็นวิธีการเก็บภาษีในระบบเจ้าภาษีนายอากรในรัชสมัยพระบาทสมเด็จพระนั่งเกล้าเจ้าอยู่หัว

1. การจัดเก็บภาษีโดยการชักส่วนสินค้า
2. การเก็บภาษีเป็นสิ่งของแทนเงิน
3. การให้เอกชนมีสิทธิในการเก็บภาษีแทนรัฐ
4. การตั้งหน่วยงานกลางเพื่อเก็บภาษีอย่างเป็นระบบ

608. ข้อใดเป็นสาเหตุสำคัญที่ทำให้เกิดวิกฤติเศรษฐกิจในรัชสมัยพระบาทสมเด็จพระปกเกล้าเจ้าอยู่หัว จนนำไปสู่การเปลี่ยนแปลงการปกครองใน พ.ศ.2475

1. การลงทุนจำนวนมากในการพัฒนาเส้นทางคมนาคม
2. ผลกระทบจากภาวะเศรษฐกิจตกต่ำทั่วโลก
3. ภัยธรรมชาติคุกคามผลผลิตทางการเกษตร
4. รายจ่ายในราชสำนักเพิ่มสูงตั้งแต่รัชกาลก่อน

609. องค์กรใดที่รัฐธรรมนูญกำหนดให้ทำหน้าที่ถวายคำปรึกษาและความเห็นต่อพระมหากษัตริย์

1. คณะอภิรัฐมนตรีสภา
2. คณะรัฐมนตรีสภา
3. คณะองคมนตรี
4. สภากรรมการองคมนตรี

610. เหตุการณ์ในข้อใดที่ไม่เกี่ยวข้องกับความคิดที่นำไปสู่การปกครองระบอบประชาธิปไตยของไทย

1. การปรับปรุงประเทศให้ทันสมัยในรัชสมัยพระบาทสมเด็จพระจอมเกล้าเจ้าอยู่หัว
2. คำกราบบังคมทูลของเจ้านายและขุนนาง ที่ขอให้พระบาทสมเด็จพระจุลจอมเกล้าเจ้าอยู่หัวเปลี่ยนแปลงการปกครอง
3. การตั้งดุสิตธานีในรัชสมัยพระบาทสมเด็จพระมงกุฎเกล้าเจ้าอยู่หัว
4. การส่งสามัญชนไปศึกษาต่อยังต่างประเทศ

611. ข้อใดเป็นปัจจัยสำคัญที่ทำให้การปกครองระบอบโชกุนของญี่ปุ่นสิ้นสุดลง

1. การใช้นโยบายเปิดประเทศ
2. การขยายตัวของการค้าระหว่างประเทศ
3. การใช้นโยบายรวมอำนาจเข้าสู่ศูนย์กลาง
4. ความแตกต่างและความขัดแย้งของชนชั้นต่างๆ ในสังคม

612. อารยธรรมอินเดียมีอิทธิพลต่ออารยธรรมของอาณาจักรโบราณในเอเชียตะวันออกเฉียงใต้มากที่สุดข้อใด

1. การปกครองและศาสนา
2. การปกครองและเศรษฐกิจ
3. ศาสนาและการแบ่งชั้นวรรณะ
4. อักษรศาสตร์และการแบ่งชั้นวรรณะ

613. การปฏิวัติอุตสาหกรรมระยะที่สองต่างจากระยะแรกในประเด็นใด

1. มีการใช้ถ่านหินและพลังงานลม
2. มีการใช้พลังงานไอน้ำแทนพลังงานน้ำ
3. มีพัฒนาการทางเทคโนโลยีและวิทยาการต่าง ๆ
4. มีการใช้เครื่องจักรกลที่ทันสมัยแทนเครื่องมือแบบเก่า

614. ข้อใดเป็นสภาวะการเปลี่ยนแปลงที่เกิดขึ้นเมื่อ เจมส์ วัตต์ ประดิษฐ์เครื่องจักรไอน้ำ

1. ประชาชนทุกคนมีความเป็นอยู่ดีขึ้น
2. โรงงานทอผ้าไม่จำเป็นต้องตั้งอยู่ริมแม่น้ำ
3. เมืองต่าง ๆ ขยายตัวพร้อม ๆ กับจำนวนเครื่องจักรไอน้ำ
4. เกษตรกรใช้เครื่องจักรไอน้ำในการผลิตแทนวิธีการแบบดั้งเดิม

615. การปฏิวัติอันรุ่งโรจน์ (Glorious Revolution) ของอังกฤษเกิดขึ้นเพราะเหตุใด

1. ได้รับอิทธิพลจากการปฏิวัติของชาวอเมริกัน
2. เพื่อลดอิทธิพลทางการเมืองการปกครองของพวกขุนนาง
3. เพื่อฟื้นฟูการปกครองระบอบสมบูรณาญาสิทธิราชย์
4. เพื่อให้อังกฤษมีการปกครองที่เป็นประชาธิปไตยมากขึ้น

616. ข้อใดแสดงถึงอุดมการณ์การปกครองแบบประชาธิปไตยของโลกตะวันตก

1. รัฐบาลเป็นตัวแทนกลุ่มผู้มีอำนาจทางเศรษฐกิจ
2. รัฐบาลเป็นเจ้าของอำนาจการปกครองและประชาชนต้องปฏิบัติตาม
3. ประชาชนต้องยอมสละซึ่งชีวิตและทรัพย์สินเพื่อค้ำจุนอำนาจของรัฐบาล
4. ประชาชนเป็นเจ้าของอำนาจการปกครอง แต่มอบให้รัฐบาลดำเนินการแทนแบบมีเงื่อนไข

617. ข้อใดคือจุดเริ่มต้นของสงครามเย็น

1. การต่อต้านการขยายตัวของลัทธิทุนนิยม
2. การแข่งขันเพื่อสร้างอาวุธนิวเคลียร์ของชาติมหาอำนาจ
3. การแก่งแย่งผลประโยชน์ทางเศรษฐกิจของชาติมหาอำนาจ
4. การต่อสู้ด้านอุดมการณ์ระหว่างกลุ่มประเทศเสรีประชาธิปไตยและคอมมิวนิสต์

618. เหตุการณ์ใดไม่ใช่ความขัดแย้งระหว่างประเทศอันเกิดจากความแตกต่างทางด้านสังคมวัฒนธรรม

1. สงครามอ่าวเปอร์เซีย
2. สงครามระหว่างยิว - ปาเลสไตน์
3. วิกฤติการณ์ในแคว้นแคชเมียร์
4. การก่อการร้ายของพวกทมิฬในศรีลังกา

619. ข้อใดเป็นพัฒนาการทางเทคโนโลยีที่มีรากฐานมาจากผลงานประดิษฐ์ของเกรแฮม เบลล์

1. เครื่องถ่ายภาพเอกสาร
2. เครื่องรับโทรศัพท์
3. เครื่องคิดเลข
4. เครื่องคอมพิวเตอร์

620. ข้อใดไม่ใช่วัตถุประสงค์หลักของการจัดทำเขตการค้าเสรี

1. กีดกันการค้ากับประเทศนอกกลุ่ม
2. ดึงดูดการลงทุนจากประเทศภายนอกกลุ่ม
3. ลดอุปสรรคทางการค้าระหว่างประเทศคู่สัญญา
4. พัฒนาความสามารถในการแข่งขันของธุรกิจในประเทศ

621. เทคโนโลยีทางการเกษตรที่ส่งผลกระทบต่อการเกิดปัญหาหมอกพิษในดินมากที่สุดคือข้อใด

1. เกษตรอินทรีย์
2. เกษตรอินทรีย์
3. เกษตรทฤษฎีใหม่
4. เกษตรผสมผสาน

622. ข้อใดไม่ใช่แหล่งพลังงานทดแทนที่รัฐบาลไทยส่งเสริมให้ใช้ในการแก้ไขปัญหาวิกฤติน้ำมัน

1. ถ่านหิน
2. ก๊าซชีวภาพ
3. ก๊าซโซฮอลล์
4. พลังงานแสงอาทิตย์



PDF Editor

623. ข้อใดคือสาเหตุสำคัญที่สุดที่ทำให้การพัฒนาเทคโนโลยีของประเทศไทยประสบปัญหา

1. เปิดโอกาสให้เทคโนโลยีของต่างชาติเข้ามาอย่างเสรี
2. ขาดการถ่ายทอดองค์ความรู้ทางวิทยาศาสตร์และเทคโนโลยี
3. ขาดวัฒนธรรมวิทยาศาสตร์ที่ใช้การสังเกต ศึกษา และทดลอง
4. มีการนำเทคโนโลยีของต่างชาติจำนวนมากมาใช้ในภาคอุตสาหกรรม

624. มาตรการแก้ไขความขัดแย้งระหว่างประเทศข้อใดที่มีวัตถุประสงค์เพื่อให้เกิดผลทางด้านจิตวิทยาแก่คู่กรณี

1. การคว่ำบาตรทางเศรษฐกิจ
2. การทำสงครามแบบเบ็ดเสร็จ
3. การใช้อินเทอร์เน็ตตุลาการ
4. การเจรจาต่อรองระหว่างผู้นำหรือตัวแทน

625. ข้อใดกล่าวถึงองค์การสันนิบาตชาติไม่ถูกต้อง

1. ศาลยุติธรรมระหว่างประเทศเป็นองค์กรหนึ่งในสันนิบาตชาติ
2. ประธานาธิบดีวูดโรว์ วิลสัน เป็นผู้ริเริ่มก่อตั้งองค์การสันนิบาตชาติ
3. ประเทศมหาอำนาจทุกประเทศในขณะนั้นเป็นสมาชิกขององค์การสันนิบาตชาติ
4. องค์การสันนิบาตชาติเกิดขึ้นจากคำแถลงการณ์ 14 ประการ ในการประชุมสันติภาพที่แวร์ซายส์

626. ปฏิบัติการใดที่ถือว่าเกินขอบเขตของปฏิบัติการรักษาสันติภาพขององค์การสหประชาชาติ

1. การส่งกองกำลังเข้าไปดูแลการถอนทหารของคู่กรณี
2. การส่งกองกำลังเข้าไปร่วมต่อสู้กับกลุ่มกบฏในประเทศสมาชิก
3. การส่งกองกำลังรักษาการเข้าไปในดินแดนพิพาทหลังทำข้อตกลงหยุดยิง
4. การส่งเครื่องอุปโภคบริโภคไปช่วยเหลือผู้ประสบภัยสงคราม

627. ข้อใดไม่ใช่แนวทางป้องกันปัญหาการยกพวกตีกันของวัยรุ่น

1. เพิ่มสถานฟื้นฟูจิตใจเยาวชนผู้กระทำความผิด
2. ลดการเสนอเรื่องที่ยั่วยุการใช้ความรุนแรงทางสื่อมวลชน
3. สนับสนุนให้เยาวชนใช้เวลาว่างในการเล่นกีฬาและดนตรี
4. จัดให้มีการอบรมสั่งสอนและฝึกปฏิบัติสมาธิในโรงเรียน

628. การเปลี่ยนแปลงของสังคมเมืองในข้อใดที่ไม่กระทบต่อค่านิยมของประชาชน

1. วิถีชีวิตและฐานะทางเศรษฐกิจของประชาชนมีความหลากหลาย
2. การกำหนดพื้นที่ (zoning) ในการใช้ประโยชน์ที่ดินเพื่อความเป็นระเบียบ
3. การถ่ายทอดภูมิปัญญาจากคนรุ่นเก่าสู่คนรุ่นใหม่ลดน้อยลง
4. ขนาดและความสัมพันธ์ของครอบครัวเปลี่ยนจากครอบครัวขยายเป็นครอบครัวเดี่ยว

629. การออกกำลังกายอย่างสม่ำเสมอ นอกจากจะทำให้มีสุขภาพดีแล้ว ยังส่งผลต่อคุณภาพชีวิตของบุคคลอย่างไร

1. สร้างวินัยให้ตนเอง
2. สร้างนิสัยรู้แพ้รู้ชนะ
3. สร้างการทำงานเป็นกลุ่ม
4. สร้างความทันสมัยให้ตนเอง

630. ข้อมูลในข้อใดที่ชี้ว่าประเทศไทยยังต้องพัฒนาคุณภาพชีวิตด้านสุขอนามัย

1. อัตราการตายของทารกในภาคกลางต่ำกว่าร้อยละ 20
2. ประชากรในภาคใต้ร้อยละ 50 มีอายุยืนยาวถึง 90 ปีขึ้นไป
3. เด็กในภาคตะวันออกเฉียงเหนือร้อยละ 50 ป่วยเป็นโรคพยาธิต่าง ๆ
4. ภาวะทุพโภชนาการระหว่างอายุ 0-14 ปี ของภาคตะวันออกเฉียงเหนือต่ำกว่าร้อยละ 1

631. หลักการของพระพุทธศาสนาสอดคล้องกับหลักการของวิทยาศาสตร์ในข้อใด

1. ขั้นตอนของกระบวนการคิด
2. เป้าหมายของของการแสวงหาความจริง
3. การยอมรับความจริงที่เป็นนามธรรม
4. การลงมือปฏิบัติเพื่อค้นหาความจริง

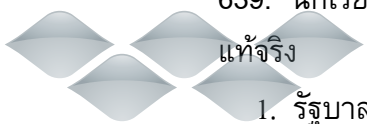
632. พระพุทธรูปปางห้ามญาติ เป็นอนุสรณ์ระลึกถึงเหตุการณ์ใด

1. สงครามระหว่างแคว้นสักกะกับแคว้นโกศล
2. เสด็จห้ามพระเทวทัตให้หยุดการกระทำชั่ว
3. กรณีทรงห้ามพระเจ้าสุทโธทนะที่ห้ามเสด็จบิณฑบาต
4. กรณีพิพาทเรื่องทนต์น้ำเข้านาของพระญาติฝ่ายศากยะกับฝ่ายโกลิยะ

633. จุดมุ่งหมายของพระพุทธศาสนสุภาสิต "อิณาทาน ทุกข์โลเก" คือ สอนใจให้ชาวพุทธตระหนักในความทุกข์ที่เกิดจากสิ่งใด

1. การคบคนชั่วเป็นมิตร
2. การมีหนี้สินเกินกำลัง
3. การไม่รู้จักประมาณตน
4. การขาดแคลนโภคทรัพย์

634. เหตุผลที่ประเทศไทยได้จัดพิมพ์พระไตรปิฎก จำนวน 45เล่ม คือ ข้อใด
1. เพราะมีเนื้อหายาวเกินไป
 2. เพื่อสะดวกในการเก็บรักษา
 3. เพราะพระไตรปิฎกแบ่งเป็น 3 หมวดใหญ่
 4. เพื่อให้สอดคล้องกับจำนวนปีที่พระพุทธเจ้าทรงประกาศพระศาสนา
635. การศึกษามโหสถชาดก ได้ข้อคิดที่ตรงกับสำนวนไทยข้อใดมากที่สุด
1. แพ้เป็นพระ ชนะเป็นมาร
 2. ตกน้ำไม่ไหล ตกไฟไม่ไหม้
 3. รู้หลบเป็นปีก รู้หลีกเป็นหาง
 4. คนเดียวหัวหาย สองคนเพื่อนตาย
636. คุณค่าที่สำคัญที่สุดของการปฏิสนธิ์การ คือ ข้อใด
1. ได้รับการยอมรับนับถือ
 2. มีความสุขทั้งผู้ให้และผู้รับ
 3. ใครๆอยากคบหาสมาคม
 4. กิจการงานสำเร็จลุล่วงไปด้วยดี
637. หนึ่งในทัญไม่เข้าใจเรื่องที่อาจารย์สอน จึงไปศึกษาค้นคว้าเพิ่มเติมในห้องสมุด จนมีความเข้าใจมากขึ้น จัดเป็นปัญญาประเภทใด
1. สุตมยปัญญา
 2. วิปัสสนาปัญญา
 3. จินตามยปัญญา
 4. ภวานามยปัญญา
638. เจ้าของทรัพย์ถูกคนร้ายกลับมาแทงดับ เพราะสร้อยคอที่ฉกไปเป็นของปลอม ถ้าใช้วิธีคิดแบบจำแนกโดยลำดับสาเหตุที่แท้จริงของการฆ่าครั้งนี้ คือ ข้อใด
1. การกลัวความผิด
 2. การมีสร้อยคอปลอม
 3. ความโลภอยากได้สร้อยคอ
 4. ความโกรธต่อเจ้าของทรัพย์
639. นักเรียนคิดว่าองค์ประกอบของรัฐข้อใด ถ้าหากขาดหายไปแล้ว ถือว่ารัฐนั้นไม่มีเอกราชที่แท้จริง
1. รัฐบาล
 2. อธิปไตย
 3. ประชากร
 4. ดินแดนหรืออาณาเขต



640. ข้อใดที่แสดงถึงความแตกต่างระหว่างรัฐเดี่ยวกับรัฐรวมมากที่สุด

1. ที่มาของรัฐบาล
2. นโยบายของรัฐบาล
3. รูปแบบของรัฐบาล
4. ที่มาของหัวหน้ารัฐบาล

641. ตามกฎหมายรัฐธรรมนูญฉบับที่ 16 พ.ศ. 2540 กำหนดที่มาของสมาชิกวุฒิสภา ไว้
อย่างไร

1. มาจากการเลือกตั้งโดยประชาชน
2. มาจากการเลือกตั้งโดยนายกรัฐมนตรี
3. มาจากการแต่งตั้งโดยสภานิติบัญญัติ
4. มาจากการแต่งตั้งโดยพระมหากษัตริย์

642. การปกครองรูปแบบใด ที่รัฐบาลเข้าควบคุมทางการเมืองแต่เปิดโอกาสให้ประชาชนมีสิทธิ
เสรีภาพ ทางด้านเศรษฐกิจและสังคม

1. แบบสังคมนิยม
2. แบบประชาธิปไตย
3. แบบเผด็จการแบบอำนาจนิยม
4. แบบเผด็จการแบบเบ็ดเสร็จนิยม

643. ข้อใด ไม่ใช่ ปัจจัยการส่งเสริมระบอบการปกครองแบบเผด็จการ

1. เศรษฐกิจฝืดเคือง
2. ประชาชนมีการศึกษาต่ำ
3. คนกลุ่มน้อยใช้อำนาจผูกขาดการปกครอง
4. ความแตกต่างระหว่างชนชั้นในสังคมมีน้อย

644. ข้อใดต่อไปนี้เป็นสิทธิอันชอบธรรมของประชาชนในระบอบประชาธิปไตย

1. การเสียภาษี
2. การรับราชการทหาร
3. การรวมกลุ่มโดยสงบ
4. การใช้สิทธิเลือกตั้ง



PDF Editor

645. ข้อใดกล่าว ไม่ถูกต้อง เกี่ยวกับฐานะของพระมหากษัตริย์ตามรัฐธรรมนูญบัญญัติไว้
1. ทรงเป็นประมุขของประเทศ
 2. ทรงดำรงตำแหน่งจอมทัพไทย
 3. ทรงเป็นผู้แต่งตั้งองคมนตรีและถอดถอน
 4. ทรงเป็นพุทธมามกะและทรงเป็นอัครศาสนูปถัมภก
646. คำว่าวัฒนธรรม จะต้องประกอบด้วยลักษณะใดต่อไปนี้
1. มีการถ่ายทอดหรือส่งต่อ
 2. เป็นที่สมาชิกในสังคมยอมรับ
 3. มีรูปแบบที่แตกต่างกันในสังคม
 4. มีความหลากหลายเปลี่ยนแปลงได้
647. ปัจจัยพื้นฐานสำคัญในการพัฒนาเศรษฐกิจ นอกจากความมั่นคงทางการเมืองแล้ว ปัจจัยใดต่อไปนี้สำคัญที่สุด
1. มีขนาดพื้นที่และมีจำนวนที่เหมาะสม
 2. มีความมั่งคั่งเกิดจากการสะสมทุนสูง
 3. ทรัพยากรอุดมสมบูรณ์และปริมาณมาก
 4. ความก้าวหน้าทางวิทยาศาสตร์และเทคโนโลยี
648. โครงการหลวงพัฒนาชาวเขา มีวัตถุประสงค์สำคัญในข้อใด
1. เพื่อแก้ปัญหาเกี่ยวกับแรงงาน
 2. เพื่อแก้ปัญหาความแตกต่างระหว่างชนชั้น
 3. เพื่อแก้ปัญหาการที่ทรัพยากรธรรมชาติถูกทำลาย
 4. เพื่อแก้ปัญหาผู้ลี้ภัยชายแดนตอนเหนือของประเทศไทย
649. ความขาดแคลนที่ปรากฏอยู่ในระบบเศรษฐกิจ มีสาเหตุพื้นฐานมาจากข้อใด
1. การใช้ทรัพยากรของระบบเศรษฐกิจเป็นไปอย่างไม่เต็มที่
 2. มนุษย์มีความต้องการไม่จำกัดและแสวงหาความพอใจสูงสุด
 3. การแสวงหาทรัพยากรใหม่ๆ ไม่ทันกับการหมดไปของทรัพยากร
 4. ความต้องการของมนุษย์และจำนวนทรัพยากรไม่สมดุลกัน

650. การจัดสรรทรัพยากรอย่างมีประสิทธิภาพทางเศรษฐกิจ จะทำให้เกิดผลอย่างไร

1. รัฐบาลเก็บภาษีได้มากที่สุด
2. ประชากรได้รับสวัสดิการสูงสุด
3. ผู้ผลิตเสียต้นทุนในการผลิตต่ำสุด
4. ผู้บริโภคซื้อสินค้าได้ในราคาที่ถูกลงที่สุด

651. งบประมาณแผ่นดิน ไม่ได้ แสดงถึงเรื่อง อะไร

1. แผนการใช้จ่ายเงินของรัฐบาลในรอบปี
2. บทบาทของรัฐบาลในระบบเศรษฐกิจในรอบปี
3. การกำหนดระดับรายรับของรัฐบาลในรอบปี
4. การกำหนดระดับรายจ่ายของรัฐบาลในรอบปี

652. หนี้สาธารณะ เกิดจากสาเหตุใด

1. งบดุลประมาณติดลบ
2. ดุลการชำระเงินเกินดุล
3. ภาคเอกชนกู้เงินต่างประเทศมากเกินไป
4. รัฐบาลไม่ให้ความสำคัญกับสินค้าในประเทศ

653. ข้อใดจัดเป็นยุทธศาสตร์การปรับโครงสร้างการพัฒนาชนบทและเมืองอย่างยั่งยืน ในแผนพัฒนาเศรษฐกิจและสังคมแห่งชาติ ฉบับที่ 9

1. ส่งเสริมการรับงานในต่างประเทศ
2. สร้างองค์ความรู้ที่สอดคล้องกับภูมิปัญญาท้องถิ่น
3. กำหนดพื้นที่อนุรักษ์เพื่อรักษาสมดุลของระบบนิเวศ
4. ยกระดับทักษะและมาตรฐานฝีมือของไทยให้มีศักยภาพ

654. ข้อใดคือแนวทางตาม "ทฤษฎีใหม่ของพระบาทสมเด็จพระเจ้าอยู่หัว"

1. ถ่ายทอดเทคโนโลยีต่างประเทศมาใช้ในท้องถิ่น
2. พัฒนาทรัพยากรดินให้สามารถทำการเกษตรแบบยั่งยืน
3. จัดแบ่งที่ดินทำกินเป็นสัดส่วนเพื่อเกษตรกรมีรายได้ตลอดปี
4. ใช้เทคโนโลยีที่เหมาะสมที่เกษตรกรสามารถดำเนินการได้เอง

655. ข้อใด ไม่ใช่ ความเจริญของมนุษย์ยุคหินใหม่

1. การเพาะปลูกและเลี้ยงสัตว์
2. ตั้งถิ่นฐานเป็นสังคมเมือง
3. การใช้เครื่องมือหินขัด
4. การทำภาชนะเครื่องปั้นดินเผา

656. จากข้อความที่กำหนดให้ ข้อใดเรียงลำดับขั้นตอนกระบวนการแสวงหาข้อเท็จจริงทางประวัติศาสตร์ ได้ถูกต้อง

1. วิเคราะห์หลักฐาน ตรวจสอบ
2. กำหนดจุดมุ่งหมาย ตั้งประเด็นคำถาม
3. ค้นคว้า รวบรวมข้อมูล
4. สรุปข้อเท็จจริง นำเสนอ

1. 3 1 2 4

2. 2 1 3 4

3. 2 3 1 4

4. 3 2 1 4

657. สถาปัตยกรรมแบบโครีนเซียน เป็นอารยธรรมของอาณาจักรใด

1. กรีก
2. โรมัน
3. อียิปต์
4. เมโสโปเตเมีย

658. หลักฐานต่อไปนี้ ข้อใดจัดว่าเป็นหลักฐานที่เป็นลายลักษณ์อักษร

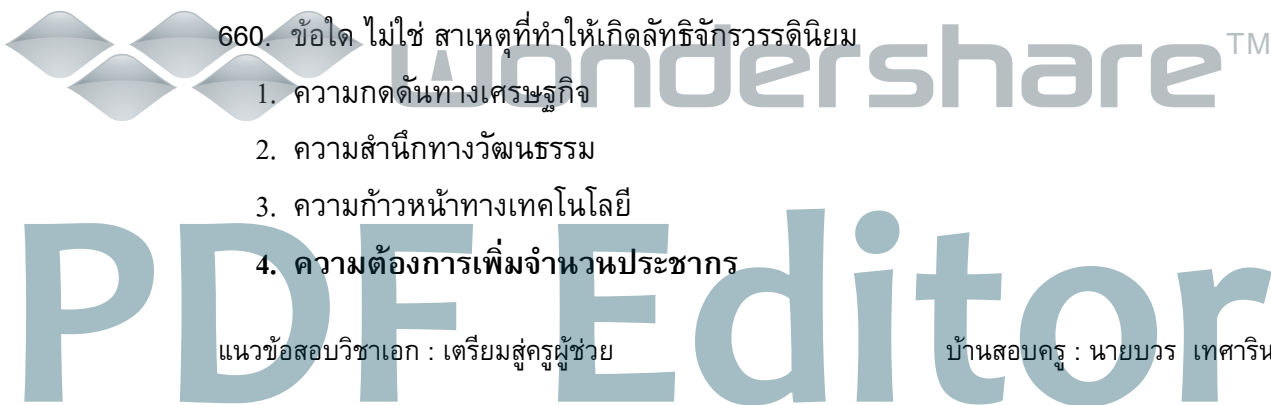
1. มุขปาฐะ - ตำนาน
2. ภาพวาด - วรรณกรรม
3. คำบอกเล่า - ศิลปจารึก
4. พงศาวดาร - จัดหมายเหตุ

659. ข้อใด ไม่ใช่ สาเหตุที่ทำให้เกิดลัทธิจักรวรรดินิยม

1. ความกดดันทางเศรษฐกิจ
2. ความสำนึกทางวัฒนธรรม
3. ความก้าวหน้าทางเทคโนโลยี
4. ความต้องการเพิ่มจำนวนประชากร

660. ข้อใด ไม่ใช่ สาเหตุที่ทำให้เกิดลัทธิจักรวรรดินิยม

1. ความกดดันทางเศรษฐกิจ
2. ความสำนึกทางวัฒนธรรม
3. ความก้าวหน้าทางเทคโนโลยี
4. ความต้องการเพิ่มจำนวนประชากร



661. สงครามครูเสด มีส่วนเกี่ยวข้องกับเรื่องใด
1. ทางด้านการเมือง
 2. ทางด้านศาสนา
 3. ทางด้านเศรษฐกิจ
 4. ทางด้านการปกครอง
662. อารยธรรมอินเดีย ปรากฏชัดในวัฒนธรรมเอเชียตะวันออกเฉียงใต้ โดยเฉพาะด้านใดมากที่สุด
1. ภาษา
 2. ศาสนา
 3. การปกครอง
 4. ระบบวรรณะ
663. บัจจยใจ เมื่อรวมตัวกันแล้วเกิดปรากฏการณ์ที่เรียกว่า"แม่คะนึ่ง"
1. น้ำฝน + อุณหภูมิต่ำ
 2. ไอน้ำ + อุณหภูมิต่ำ
 3. หยาดน้ำฟ้า + อุณหภูมิต่ำ
 4. เกร็ดน้ำแข็ง + อุณหภูมิต่ำ
664. หากนักเรียนจะเดินทางไปจังหวัดกาญจนบุรี เพื่อเที่ยวชมสะพานข้ามแม่น้ำแคว ทางรถไฟสายมรณะ นักเรียนจะเลือกใช้แผนที่ชนิดใดในการเดินทาง
1. แผนที่รัฐกิจ
 2. แผนที่กายภาพ
 3. แผนที่อุทกศาสตร์
 4. แผนที่ทางธรณีวิทยา
665. การเกิดคลื่นยักษ์ "สึนามิ" ในประเทศไทย ก่อให้เกิดผลกระทบอย่างไร
1. เกิดวาตภัยทำให้ท้องทะเลมีคลื่นและลมแรง
 2. เกิดโคลนถล่มทับหมู่บ้านชาวประมง
 3. เกิดน้ำท่วมฉับพลันในหมู่บ้านชายฝั่งทะเล
 4. เกิดพายุกระหน่ำทำให้บ้านเรือนเสียหาย

666. องค์กรเอกชนใด ที่มีบทบาทสำคัญต่อการอนุรักษ์ทรัพยากรธรรมชาติและสิ่งแวดล้อมโลก

1. Green World
2. Green House
3. **Green Peace**
4. Green Land

667. ข้อใดเป็นวิธีที่ดีที่สุด ในการแก้ปัญหาการค้าสัตว์ป่า

1. เปลี่ยนรสนิยมในการบริโภคสัตว์ป่า
2. ส่งเสริมการเพาะเลี้ยงสัตว์ป่าให้แพร่หลาย
3. ออกพระราชบัญญัติเกี่ยวกับสัตว์ป่าคุ้มครอง และบทลงโทษการละเมิดพระราชบัญญัติ พ.ศ. 2535
4. **ให้ความรู้เกี่ยวกับสัตว์ป่าคุ้มครอง และบทลงโทษการละเมิดพระราชบัญญัติ พ.ศ. 2535**

668. กลุ่มประเทศ G 8 มีมติร่วมกันที่จะลดปัญหาโลกร้อนขึ้นโดยลดการปล่อยก๊าซชนิดใดสู่บรรยากาศ

1. ไฮโดรคาร์บอน
2. ซัลเฟอร์ไดออกไซด์
3. **คาร์บอนไดออกไซด์**
4. คาร์บอนมอนนอกไซด์

669. โรงงานอุตสาหกรรมควรปฏิบัติอย่างไร เพื่อแก้ปัญหาน้ำเสียอย่างยั่งยืน

1. กรองขยะก่อนปล่อยน้ำทิ้ง
2. **กำจัดสารพิษก่อนปล่อยน้ำทิ้ง**
3. ปล่อยลงพื้นดินให้แห้งระเหยไปเอง
4. ผสมยาฆ่าเชื้อโรคก่อนปล่อยลงคลอง

670. สารคลอโรฟลูออโรคาร์บอน (CFC) ถ้ามีปริมาณมากเกินไปจะส่งผลกระทบต่อโลกอย่างไร

1. เกิดฝนดาวตก
2. **โอโซนถูกทำลาย**
3. อุณหภูมิค่อยๆลดลง
4. เกิดฝนกรดทั่วไป

671. การกระทำในข้อใดอาจไม่ใช่การก่อการร้าย
1. การจี้เครื่องบินของสายการบินอเมริกันแอร์ไลน์พุ่งชนตึกเพนตากอน
 2. การลอบสังหารผู้นำปาเลสไตน์
 3. การวางระเบิดรถรับส่งนักเรียน
 4. การลอบเผาโรงเรียนในจังหวัดชายแดนใต้
672. กระบวนการก่อการร้ายแตกต่างจากสงครามกองโจรอย่างไร
1. ลักษณะการปฏิบัติการ
 2. อาวุธที่ใช้ปฏิบัติการ
 3. จำนวนคนที่ใช้ปฏิบัติการ
 4. เป้าหมายในการปฏิบัติการ
673. ข้อใดมิใช่จุดประสงค์หลักของการก่อการร้าย
1. ความต้องการด้านการเงิน
 2. แสดงความไม่พอใจในสิ่งที่ตนเผชิญอยู่
 3. เรียกร้องความสนใจ
 4. สร้างความกลัว
674. กระบวนการก่อการร้ายส่งผลกระทบต่อสังคมด้านใดน้อยที่สุด
1. การเมือง
 2. เศรษฐกิจ
 3. สังคม
 4. วัฒนธรรม
675. เพราะเหตุใดไทยจึงต้องให้ความร่วมมือในการต่อต้านขบวนการก่อการร้ายสากล
1. เพื่อให้ความช่วยเหลือนานาชาติประเทศที่ประสบปัญหาการก่อการร้าย
 2. เพื่อสร้างแนวร่วมป้องกันการก่อการร้ายข้ามชาติ
 3. เพื่อตอบโต้ขบวนการก่อการร้ายภายในประเทศที่มีพฤติกรรมที่ไม่เหมาะสม
 4. เพื่อต้องการความช่วยเหลือในการป้องกันการก่อการร้าย
676. กษัตริย์พระองค์ใดที่ริเริ่มในการเผยแพร่พระพุทธศาสนาไปสู่ประเทศต่างๆ
1. พระเจ้าพิมพสาร
 2. พระเจ้าสุทโธทนะ
 3. พระเจ้าปเสนทิโกศล
 4. พระเจ้าอโศกมหาราช

677. พระเถระรูปใดที่นำพระพุทธศาสนามายังดินแดนสุวรรณภูมิ

1. พระมหินทเถระ
2. พระมหารัทธิขิตเถระ
3. พระมหาธรรมรักขิตเถระ
4. พระโสณเถระและพระอุตตรเถระ

678. กษัตริย์พุกามองค์ใดที่ส่งพระราชสาส์นไปขอพระไตรปิฎกจากเมืองสะเทิมจนต้องทำสงคราม

1. พระเจ้ามังระ
2. พระเจ้ามินดง
3. พระเจ้าอัญรุท
4. พระเจ้าบุเรงนอง

679. พระพุทธศาสนาในลาวได้รับแบบอย่างมาจากประเทศใดมากที่สุด

1. ไทย
2. มาเลเซีย
3. กัมพูชา
4. เวียดนาม

680. สิ่งก่อสร้างที่สำคัญที่หลักฐานแสดงให้เห็นความเจริญรุ่งเรืองของพระพุทธศาสนาในอินโดนีเซียคือ

1. เจดีย์ชเวดากอง
2. วิหารเซตวัน
3. วิหารบุโรพุทโธ
4. เจดีย์ศรีสองรัก

681. ประเทศไทยมีการแลกเปลี่ยนคัมภีร์ทางพระพุทธศาสนากับชาติใด

1. พม่า
2. สิงคโปร์
3. ศรีลังกา
4. มาเลเซีย



PDF Editor

682. คุณธรรมที่ปรารถนาดีต่อกัน ให้ความเคารพ ช่วยเหลือเกื้อกูลกัน คือข้อใด

1. อิทธิบาท 4
2. สังคหวัตถุ 4
3. ชมราวาสธรรม 4
4. สาราณียธรรม 6

683. การให้ความช่วยเหลือแก่ประเทศเพื่อนบ้านในยามที่ประเทศเพื่อนบ้านได้รับความเดือดร้อน ตรงกับหลักธรรมในข้อใด

1. ทาน
2. อุตถจริยา
3. ปิยวาจา
4. สมานัตตตา

684. ข้อใดคือวัฒนธรรมทางวัตถุ

1. ภาษา
2. จิตรกรรม
3. ประเพณี พิธีกรรม
4. กฎระเบียบทางสังคม

685. เหตุใดที่ทำให้ประเทศไทยได้ชื่อว่าเป็นเมืองแห่งพระพุทธศาสนา

1. มีวัดมาก
2. ประชาชนนับถือมาก
3. กิจกรรมทางสังคมเกิดจากพุทธศาสนา
4. ถูกทุกข้อที่กล่าวมา

686. ข้อใดถูกต้องที่สุดเกี่ยวกับการศึกษาพุทธประวัติ

1. การศึกษาเกี่ยวกับพระสาวก
2. การศึกษาเกี่ยวกับพระสงฆ์
3. การศึกษาเกี่ยวกับพระพุทธเจ้า
4. การศึกษาเกี่ยวกับพุทธศาสนา

687. พุทธประวัติเป็นเรื่องราวที่เกี่ยวกับประวัติพระศาสดาของศาสนาใด

1. พุทธ
2. คริสต์
3. อิสลาม
4. ฮินดู-พราหมณ์

wondershare™

PDF Editor

688. เพราะเหตุใดพระพุทธเจ้าจึงเลิกบำเพ็ญทุกรกิริยา

1. ถูกมารรบกวน
2. ถูกปัญจวัคคีย์รบกวน
3. พระวรกายไม่แข็งแรง
4. ทรงเห็นว่าไม่ใช่ทางแห่งการตรัสรู้

689. หลังการตรัสรู้ธรรมแล้วพระพุทธเจ้าได้ทรงพักผ่อนในสถานที่ต่างๆที่ใกล้เคียงกับสถานที่ตรัสรู้ การพักผ่อนของพระองค์มีชื่อเรียกว่าอะไร

1. บำเพ็ญเพียร
2. เสวยวิมุตติสุข
3. การผจญมาร
4. พิจารณาธรรม

690. การตัดสินใจสั่งสอนธรรมที่ตรัสรู้แก่ชาวโลกแสดงให้เห็นถึงคุณธรรมข้อใดของพระองค์

1. ธรรมคุณ
2. ปัญญาคุณ
3. วิสุทธิคุณ
4. มหากรุณาธิคุณ

691. ธรรมที่พระพุทธเจ้าทรงแสดงเป็นครั้งแรกแก่ปัญจวัคคีย์มีชื่อว่าอะไร

1. สติปัฏฐานสูตร
2. อนันตตลักขสูตร
3. อาทิตตยปริยายสูตร
4. รัมมจักกัปปวัตนสูตร

692. พระภิกษุสงฆ์สนทนากันเกี่ยวกับเรื่องอะไร พระพุทธเจ้าจึงยกเรื่องมิตตวินทชาดกมาเล่าให้ฟัง

1. ภริยาของเศรษฐี
2. ลูกชายของเศรษฐี
3. พระภิกษุว่ายากรูปหนึ่ง
4. เศรษฐีที่เป็นพระอริยบุคคล



PDF Editor

693. มารดาของมิตตวินทะให้เขาไปทำอะไรที่วัด

1. นำอาหารไปถวายพระสงฆ์
2. บวชเป็นพระสงฆ์ในศาสนา
3. ไปสนทนาธรรมกับพระสงฆ์
4. **สมาทานอุโบสถศีลและฟังธรรม**

694. คนชั่วเห็นอะไรที่ดีมักไม่เห็นความสำคัญแต่กลับไปบูชาหรือชอบในสิ่งที่ชั่วร้าย คำกล่าวนี้สอดคล้องกับข้อใด

1. กระทบตื่นตูม
2. สีซอให้ควายฟัง
3. เห็นช้างขี้ขี้ตามช้าง
4. **เห็นกงจักรเป็นดอกบัว**

695. วันสำคัญทางพระพุทธศาสนาวันใดที่เกี่ยวข้องกับพระพุทธเจ้าโดยตรงมากที่สุด

1. วันมาฆบูชา
2. วันอัฐมีบูชา
3. **วันวิสาขบูชา**
4. วันอาสาฬหบูชา

696. พระพุทธเจ้าทรงแสดงปฐมเทศนาในวันสำคัญทางพระพุทธศาสนาวันใด

1. **วันมาฆบูชา**
2. วันอัฐมีบูชา
3. วันวิสาขบูชา
4. วันอาสาฬหบูชา

697. กิจกรรมใดที่ชาวพุทธนิยมปฏิบัติเฉพาะวันสำคัญทางพระพุทธศาสนาเท่านั้น

1. รักษาศีล
2. **การเวียนเทียน**
3. การทำบุญตักบาตร
4. การฟังพระธรรมเทศนา

698. กรรมชั่วที่เป็นทางนำไปสู่ความทุกข์ความเดือดร้อนที่ทุกคนไม่ควรกระทำมีชื่อเรียกว่าอะไร

1. กายกรรม
2. มโนกรรม
3. กุศลกรรมบถ
4. **อกุศลกรรมบถ**

699. ความโลภอยากได้สิ่งของของคนอื่น จัดเข้าในกรรมข้อใด
1. วจีกรรม
 2. กายกรรม
 3. มโนกรรม
 4. กุศลกรรม
700. ผู้บริหารที่มีความยุติธรรมมีพฤติกรรมที่สอดคล้องกับหลักธรรมใด
1. อคติ 4
 2. อริยสัจ 4
 3. อิทธิบาท 4
 4. สังคหวัตถุ 4

หมายเหตุ ตัวหนาที่บหมายถึงคำตอบที่ถูกต้อง



wondershare™

PDF Editor